




TRẦN NAM DŨNG (Tổng Chủ biên)  
TRẦN ĐỨC HUYÊN – NGUYỄN THÀNH ANH (đồng Chủ biên)  
NGUYỄN CAM – NGUYỄN VĂN HIỂN  
NGÔ HOÀNG LONG – HUỲNH NGỌC THANH

# TOÁN

8

TẬP HAI



NHÀ XUẤT BẢN GIÁO DỤC VIỆT NAM



TRẦN NAM DŨNG (Tổng Chủ biên)

TRẦN ĐỨC HUYÊN – NGUYỄN THÀNH ANH (đồng Chủ biên)

NGUYỄN CAM – NGUYỄN VĂN HIỂN

NGÔ HOÀNG LONG – HUỲNH NGỌC THANH

# TOÁN



8

*Chân trời sáng tạo*

**TẬP HAI**

Chủ biên

*mlh*  
Nguyễn Thành Anh

**NHÀ XUẤT BẢN GIÁO DỤC VIỆT NAM**

# HƯỚNG DẪN SỬ DỤNG SÁCH

Mỗi bài học thường có các phần như sau:

 Hoạt động khởi động	Gợi mở vấn đề, dẫn dắt học sinh vào bài học.
 Hoạt động khám phá	Gợi ý một số vấn đề giúp học sinh tìm ra kiến thức mới.
 Kiến thức trọng tâm	
<b>Thực hành</b>	Giúp học sinh làm những bài tập cơ bản áp dụng kiến thức vừa học.
<b>Vận dụng</b>	Ứng dụng kiến thức đã biết vào một tình huống, điều kiện mới hoặc để giải quyết vấn đề.
 Các kiến thức, kỹ năng học sinh đạt được sau mỗi bài học.	
<b>Em có biết?</b>	Giúp các em tìm hiểu những điều kì diệu của Toán học và các ứng dụng của Toán học vào thực tế cuộc sống.

---

*Hãy bảo quản, giữ gìn sách giáo khoa  
để dành tặng các em học sinh lớp sau!*

---

# LỜI NÓI ĐẦU

Các em học sinh, quý thầy, cô giáo và phụ huynh thân mến!

Sách Toán 8 thuộc bộ sách giáo khoa **Chân trời sáng tạo** được biên soạn theo Chương trình giáo dục phổ thông năm 2018 của Bộ Giáo dục và Đào tạo.

Cấu trúc sách Toán 8 được chia thành hai tập.

**Tập hai** bao gồm ba phần:

**Số và Đại số** gồm hai chương: *Hàm số và đồ thị; Phương trình.*

**Hình học và Đo lường** gồm hai chương: *Định lí Thalès; Hình đồng dạng.*

**Một số yếu tố Thống kê và Xác suất** gồm một chương: *Một số yếu tố xác suất.*

Cấu trúc mỗi bài học thường được thống nhất theo các bước: khởi động, khám phá, thực hành, vận dụng và cuối mỗi bài học có nội dung để học sinh tự đánh giá. Các bài học sẽ tạo nên môi trường học tập tương tác tích cực; đồng thời khai thác được các ứng dụng công nghệ thông tin vào học Toán.

Nội dung sách hướng đến mục đích đảm bảo dễ dạy, dễ học, gắn Toán học với thực tiễn. Các hoạt động học tập được chọn lọc phù hợp với lứa tuổi và khả năng nhận thức của học sinh, thể hiện tinh thần tích hợp, gắn bó môn Toán với các môn học khác, đáp ứng được nhu cầu của học sinh trên mọi miền đất nước.

Chúng tôi tin tưởng rằng với cách biên soạn này, sách giáo khoa Toán 8 sẽ hỗ trợ giáo viên hạn chế được những khó khăn trong quá trình dạy học, đồng thời giúp các em học sinh hứng thú hơn khi học tập.

Rất mong nhận được sự góp ý của quý thầy, cô giáo, phụ huynh và các em học sinh để sách ngày càng hoàn thiện hơn.

**CÁC TÁC GIẢ**

# MỤC LỤC

Hướng dẫn sử dụng sách	2
Lời nói đầu	3
<b>Phần SỐ VÀ ĐẠI SỐ</b>	
<b>Chương 5: HÀM SỐ VÀ ĐỒ THỊ</b>	<b>5</b>
Bài 1. Khái niệm hàm số	6
Bài 2. Tọa độ của một điểm và đồ thị của hàm số	10
Bài 3. Hàm số bậc nhất $y = ax + b$ ( $a \neq 0$ )	16
Bài 4. Hệ số góc của đường thẳng	23
Bài tập cuối chương 5	28
<b>Chương 6: PHƯƠNG TRÌNH</b>	<b>30</b>
Bài 1. Phương trình bậc nhất một ẩn	31
Bài 2. Giải bài toán bằng cách lập phương trình bậc nhất	37
Bài tập cuối chương 6	41
<b>Phần HÌNH HỌC VÀ ĐO LƯỜNG</b>	
<b>HÌNH HỌC PHẪNG</b>	
<b>Chương 7. ĐỊNH LÍ THALES</b>	<b>43</b>
Bài 1. Định lí Thalès trong tam giác	44
Bài 2. Đường trung bình của tam giác	52
Bài 3. Tính chất đường phân giác của tam giác	55
Bài tập cuối chương 7	58
<b>Chương 8: HÌNH ĐỒNG DẠNG</b>	<b>61</b>
Bài 1. Hai tam giác đồng dạng	62
Bài 2. Các trường hợp đồng dạng của hai tam giác	67
Bài 3. Các trường hợp đồng dạng của hai tam giác vuông	73
Bài 4. Hai hình đồng dạng	77
Bài tập cuối chương 8	84
<b>Phần MỘT SỐ YẾU TỐ THỐNG KÊ VÀ XÁC SUẤT</b>	
<b>Chương 9: MỘT SỐ YẾU TỐ XÁC SUẤT</b>	<b>87</b>
Bài 1. Mô tả xác suất bằng tỉ số	88
Bài 2. Xác suất lí thuyết và xác suất thực nghiệm	92
Bài tập cuối chương 9	95
<b>HOẠT ĐỘNG THỰC HÀNH VÀ TRẢI NGHIỆM</b>	
Hoạt động 4. Vẽ đồ thị hàm số bậc nhất $y = ax + b$ bằng phần mềm GeoGebra	97
Hoạt động 5. Dùng phương trình bậc nhất để tính nồng độ phần trăm của dung dịch. Thực hành pha chế dung dịch nước muối sinh lí	100
Hoạt động 6. Ứng dụng định lí Thalès để ước lượng tỉ lệ giữa chiều ngang và chiều dọc của một vật	101
Bảng giải thích thuật ngữ	102
Bảng tra cứu thuật ngữ	103

# Phần SỐ VÀ ĐẠI SỐ

## Chương

# 5

## HÀM SỐ VÀ ĐỒ THỊ

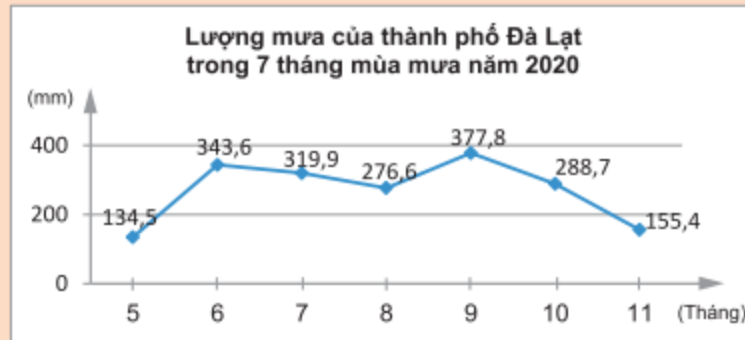
Trong chương này, các em sẽ tìm hiểu về hàm số, một khái niệm cơ bản của toán học. Chúng ta cũng sẽ học về cách xác định một điểm bằng phương pháp tọa độ, cách vẽ đồ thị của hàm số bậc nhất, cách tìm hệ số góc của một đường thẳng và vận dụng các kiến thức đó vào giải toán và giải quyết một số vấn đề thực tiễn.



Phương pháp tọa độ có rất nhiều ứng dụng từ xếp chỗ trong rạp hát cho đến biểu diễn vị trí các quân cờ trên bàn cờ.



Số liệu về lượng mưa  $M$  (mm) trong 7 tháng mùa mưa của thành phố Đà Lạt năm 2020 được biểu diễn trong biểu đồ dưới đây.



(Nguồn: Tổng cục Thống kê)

Quan sát biểu đồ và cho biết lượng mưa ở mỗi tháng là bao nhiêu?

### 1. KHÁI NIỆM HÀM SỐ



1 a) Nhiệt độ cơ thể  $d$  ( $^{\circ}\text{C}$ ) của bệnh nhân theo thời gian  $h$  (giờ) trong ngày được ghi trong bảng sau:

$h$ (giờ)	7	8	9	10	11	12	13	14	15
$d$ ( $^{\circ}\text{C}$ )	36	37	36	37	38	37	38	39	39

Ứng với mỗi giờ em đọc được bao nhiêu số chỉ nhiệt độ?

b) Thời gian  $t$  (giờ) để một vật chuyển động đều đi hết quãng đường 180 km tỉ lệ nghịch với vận tốc  $v$  (km/h) của nó theo công thức:  $t = \frac{180}{v}$ .

Tính và lập bảng các giá trị tương ứng của  $t$  khi  $v$  lần lượt bằng 10; 20; 30; 60; 180.

Ứng với mỗi giá trị của đại lượng  $v$  em tính được bao nhiêu giá trị của đại lượng  $t$ ?




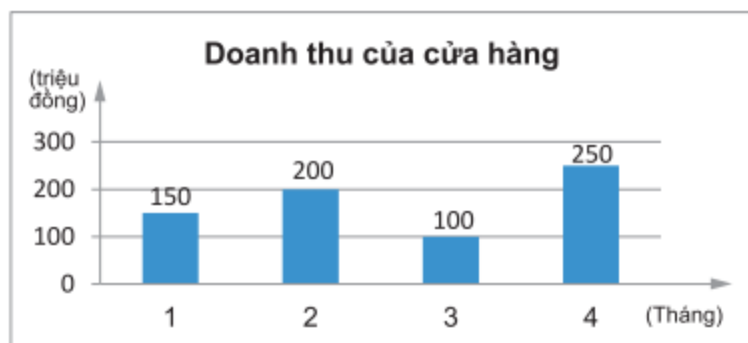
Nếu đại lượng  $y$  phụ thuộc vào một đại lượng thay đổi  $x$  sao cho với mỗi giá trị của  $x$  ta luôn xác định được duy nhất một giá trị tương ứng của  $y$  thì  $y$  được gọi là *hàm số* của *biến số*  $x$ .

**Ví dụ 1.** Hãy chỉ ra các đại lượng là hàm số và biến số trong và .

*Giải*

- Đại lượng  $M$  là hàm số của biến số  $n$ .
- Đại lượng  $d$  là hàm số của biến số  $h$ .
- Đại lượng  $t$  là hàm số của biến số  $v$ .

**Thực hành 1.** Mô tả các đại lượng là hàm số và biến số trong các mô hình sau:  
 a) Biểu đồ cột chỉ doanh thu  $y$  (triệu đồng) của một cửa hàng trong tháng  $x$ .



Hình 1

- b) Quãng đường  $s$  (km) đi được trong thời gian  $t$  (giờ) của một chiếc xe chạy với tốc độ không đổi bằng 40 km/h.  
 c) Số tiền  $y$  (đồng) người mua phải trả cho  $x$  quyển vở có giá 10000 đồng/quyển.

**Vận dụng 1.** Khi đo nhiệt độ, ta có công thức đổi từ đơn vị độ C (Celsius) sang đơn vị độ F (Fahrenheit) như sau:  $F = 1,8C + 32$ . Theo em,  $F$  có phải là một hàm số theo biến số  $C$  hay không? Giải thích.

## 2. GIÁ TRỊ CỦA HÀM SỐ



2 Cho biết đại lượng  $y$  được tính theo đại lượng  $x$  như sau:  $y = 2x + 3$ .

$x$	1	2	3	4	...
$y = 2x + 3$	5	7	9	...	...

- a) Tính  $y$  khi  $x = 4$ .  
 b) Cho  $x$  một giá trị tùy ý, tính giá trị tương ứng của  $y$ .

### Cách cho một hàm số

Hàm số có thể được cho bằng bảng, biểu đồ hoặc bằng công thức, ...

Nếu  $y$  là hàm số của  $x$  ta có thể viết  $y = f(x)$ ,  $y = g(x)$ , .... Chẳng hạn, với hàm số được cho bởi công thức  $y = 4x + 1$ , ta còn có thể viết  $y = f(x) = 4x + 1$ .



Cho hàm số  $y = f(x)$ , nếu ứng với  $x = a$  ta có  $y = f(a)$  thì  $f(a)$  được gọi là *giá trị của hàm số*  $y = f(x)$  tại  $x = a$ .

Bảng số liệu sau đây được gọi là một *bảng giá trị của hàm số*  $y = f(x)$ .

$x$	$a$	$b$	$c$	...	...
$y = f(x)$	$f(a)$	$f(b)$	$f(c)$	...	...



**Ví dụ 2.** Cho hàm số  $y = f(x) = -2x + 1$ .

a) Tính  $f(10)$ ;  $f(-10)$ .

b) Lập bảng giá trị của hàm số với  $x$  lần lượt bằng  $-2$ ;  $-1$ ;  $0$ ;  $1$ ;  $2$ .

*Giải*

a) Thay  $x$  bằng  $10$  hoặc  $-10$  vào  $f(x)$ , ta có:

$$f(10) = -2 \cdot 10 + 1 = -20 + 1 = -19;$$

$$f(-10) = -2 \cdot (-10) + 1 = 20 + 1 = 21.$$

b) Cho  $x$  lần lượt bằng  $-2$ ;  $-1$ ;  $0$ ;  $1$ ;  $2$ , ta có bảng giá trị của hàm số:

$x$	$-2$	$-1$	$0$	$1$	$2$
$y = f(x) = -2x + 1$	$5$	$3$	$1$	$-1$	$-3$

### Thực hành 2.

a) Các giá trị tương ứng của hai đại lượng  $x$  và  $y$  được cho trong bảng sau:

$x$	$-3$	$-2$	$-1$	$1$	$2$	$3$
$y$	$-6$	$-4$	$-2$	$2$	$4$	$6$

Đại lượng  $y$  có phải là hàm số của đại lượng  $x$  không?

b) Cho hàm số  $y = f(x) = x^2$ .

– Tính  $f(2)$ ;  $f(-3)$ .

– Lập bảng giá trị của hàm số với  $x$  lần lượt bằng  $-3$ ;  $-2$ ;  $-1$ ;  $0$ ;  $1$ ;  $2$ ;  $3$ .

**Vận dụng 2.** Gọi  $C = f(d)$  là hàm số mô tả mối quan hệ giữa chu vi  $C$  và đường kính  $d$  của một đường tròn. Tìm công thức  $f(d)$  và lập bảng giá trị của hàm số ứng với  $d$  lần lượt bằng  $1$ ;  $2$ ;  $3$ ;  $4$  (theo đơn vị cm).

*Chú ý:* Khi  $x$  thay đổi mà  $y$  luôn nhận một giá trị không đổi  $c$  thì  $y$  được gọi là *hàm hằng*, kí hiệu  $y = f(x) = c$ .

**Ví dụ 3.** Nhiệt độ  $N$  của một máy ấp trứng gà được cài đặt luôn bằng  $37,5^\circ\text{C}$  không thay đổi theo thời gian  $t$ . Em hãy viết công thức xác định hàm số  $N(t)$  của nhiệt độ theo thời gian.

*Giải*

Vì nhiệt độ không đổi và luôn bằng  $37,5^\circ\text{C}$  với mọi giá trị của biến số  $t$  nên ta có hàm hằng:  $N(t) = 37,5$ .



Hình 2

## BÀI TẬP

1. Các giá trị tương ứng của hai đại lượng  $x$  và  $y$  được cho trong các bảng sau. Trong mỗi trường hợp, hãy cho biết đại lượng  $y$  có phải là hàm số của đại lượng  $x$  không? Giải thích.

a)

x	0	1	2	3	4	5	6	7
y	1	2	3	4	5	6	7	8

b)

x	-3	-2	-1	1	2	2
y	$-\frac{1}{3}$	$-\frac{1}{2}$	-1	1	$\frac{1}{2}$	$\frac{1}{3}$

2. Cho hàm số  $y = f(x) = 3x$ .

a) Tính  $f(1)$ ;  $f(-2)$ ;  $f\left(\frac{1}{3}\right)$ .

- b) Lập bảng các giá trị tương ứng của  $y$  khi  $x$  lần lượt nhận các giá trị:  
-3; -2; -1; 0; 1; 2; 3.

3. Cho hàm số  $y = f(x) = x^2 + 4$ . Tính  $f(-3)$ ;  $f(-2)$ ;  $f(-1)$ ;  $f(0)$ ;  $f(1)$ .

4. Khối lượng  $m$  (g) của một thanh sắt có khối lượng riêng là  $7,8 \text{ kg/dm}^3$  tỉ lệ thuận với thể tích  $V$  ( $\text{cm}^3$ ) theo công thức  $m = 7,8V$ . Đại lượng  $m$  có phải là hàm số của đại lượng  $V$  không? Nếu có, tính  $m(10)$ ;  $m(20)$ ;  $m(30)$ ;  $m(40)$ ;  $m(50)$ .

5. Thời gian  $t$  (giờ) của một vật chuyển động đều trên quãng đường 20 km tỉ lệ nghịch với tốc độ  $v$  (km/h) của nó theo công thức  $t = \frac{20}{v}$ . Tính và lập bảng các giá trị tương ứng của  $t$  khi  $v$  lần lượt nhận các giá trị 10; 20; 40; 80.



### Sau bài học này, em đã làm được những gì?


- Nhận biết được những mô hình thực tế dẫn đến khái niệm hàm số.
- Tính được giá trị của hàm số khi hàm số đó xác định bởi công thức.



Bạn Cúc mới học chơi cờ vua. Em hãy tìm giúp bạn:

- Quân Hậu Trắng đang ở giao của các cột nào và hàng nào?
- Tại giao của cột b và hàng 8 là quân gì? Cho biết tên gọi của các quân cờ trên bàn cờ vua như sau:

Quân cờ						
Tên gọi	Tốt	Xe	Mã	Tượng	Hậu	Vua



**1. TOẠ ĐỘ CỦA MỘT ĐIỂM**



Trên biển có một con tàu ở vị trí A và một hòn đảo ở vị trí B (Hình 1). Hãy mô tả vị trí của con tàu và vị trí của hòn đảo so với vị trí của hai trục Ox và Oy.



Hình 1

Trong thực tế, có nhiều tình huống chúng ta cần phải xác định vị trí của các điểm trên mặt phẳng.

**Mặt phẳng toạ độ**

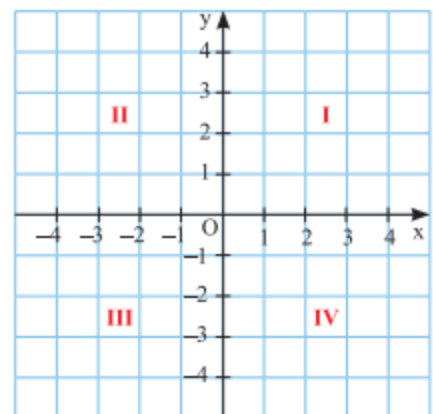


Trên mặt phẳng, ta vẽ hai trục số Ox và Oy vuông góc với nhau tại gốc O của mỗi trục, khi đó ta có hệ trục toạ độ Oxy.

Các trục Ox, Oy gọi là các trục toạ độ. Ox gọi là trục hoành và thường được vẽ nằm ngang, Oy gọi là trục tung và thường được vẽ thẳng đứng. Giao điểm O được gọi là gốc toạ độ.

Mặt phẳng có hệ trục toạ độ Oxy gọi là mặt phẳng toạ độ Oxy. Hai trục Ox, Oy chia mặt phẳng toạ độ Oxy thành bốn góc: góc phần tư thứ I, II, III, IV.

Các đơn vị dài trên hai trục toạ độ thường được chọn bằng nhau (nếu không nói gì thêm).



Hình 2

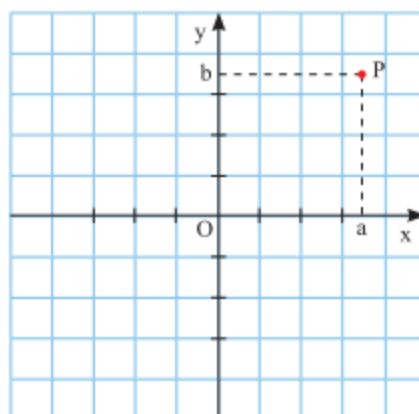
## Toạ độ của một điểm trên mặt phẳng toạ độ



Ta xác định vị trí một điểm P trong mặt phẳng toạ độ Oxy bằng cách dùng hai số thực như sau:

Từ P vẽ các đường vuông góc với các trục toạ độ cắt trục hoành tại điểm a và trục tung tại điểm b. Khi đó cặp số  $(a; b)$  gọi là *toạ độ của điểm P* và kí hiệu  $P(a; b)$ . Số a gọi là *hoành độ* và số b gọi là *tung độ* của điểm P.

Gốc toạ độ O có toạ độ là  $(0; 0)$ .



Hình 3

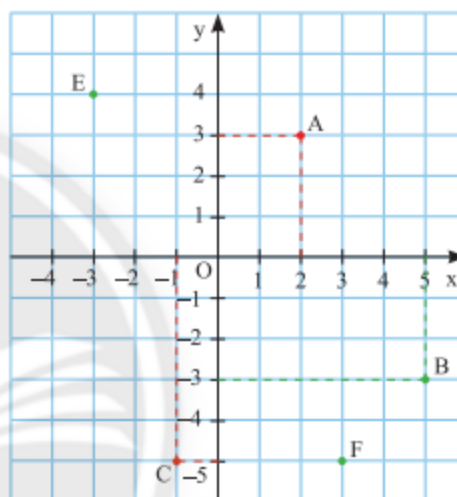
*Chú ý:* Trên mặt phẳng toạ độ, mỗi điểm P xác định đúng một cặp số  $(a; b)$ .

**Ví dụ 1.** Tìm toạ độ của các điểm A, B, C trong Hình 4.

*Giải*

Qua A kẻ các đường thẳng vuông góc với hai trục toạ độ, các đường này cắt Ox tại điểm 2 và cắt Oy tại điểm 3. Ta được toạ độ điểm A là  $(2; 3)$ .

Tương tự, ta có:  $B(5; -3)$ ,  $C(-1; -5)$ .



Hình 4

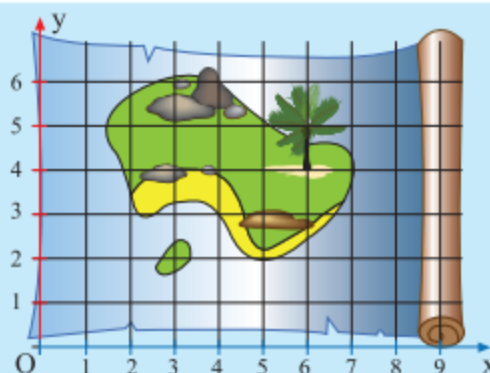
**Thực hành 1.** Tìm toạ độ của các điểm O, E, F trong Hình 4.

**Vận dụng 1.** Tìm toạ độ vị trí A của con thuyền và B của hòn đảo trong .

## 2. XÁC ĐỊNH MỘT ĐIỂM TRÊN MẶT PHẪNG TOẠ ĐỘ KHI BIẾT TOẠ ĐỘ CỦA NÓ



Bạn Khoa tìm được tấm bản đồ cổ cho biết kho báu của thuyền trưởng Độc Nhãn trên đảo Hòn Dừa (Hình 5) được giấu tại điểm có toạ độ  $(6; 4)$ . Em hãy kẻ một đường thẳng vuông góc với Ox tại điểm 6 và một đường thẳng vuông góc với Oy tại điểm 4. Xác định giao điểm của hai đường thẳng vừa vẽ để giúp bạn Khoa tìm kho báu.

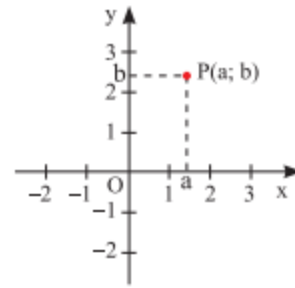


Hình 5



Để xác định một điểm  $P$  có tọa độ là  $(a; b)$ , ta thực hiện các bước sau:

- Tìm trên trục hoành điểm  $a$  và vẽ đường thẳng vuông góc với trục này tại điểm  $a$ .
- Tìm trên trục tung điểm  $b$  và vẽ đường thẳng vuông góc với trục này tại điểm  $b$ .
- Giao điểm của hai đường thẳng vừa vẽ cho ta điểm  $P$  cần tìm.



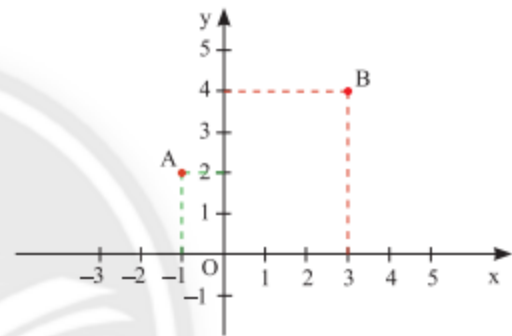
Hình 6

**Chú ý:** Trên mặt phẳng tọa độ, mỗi cặp số  $(a; b)$  xác định một điểm  $P$  duy nhất.

**Ví dụ 2.** Vẽ một hệ trục tọa độ Oxy và đánh dấu các điểm  $A(-1; 2)$ ,  $B(3; 4)$ .

*Giải*

Các điểm  $A(-1; 2)$ ,  $B(3; 4)$  được xác định trên mặt phẳng tọa độ Oxy như Hình 7.



Hình 7

**Thực hành 2.** Vẽ một hệ trục tọa độ Oxy và đánh dấu các điểm  $C(3; 0)$ ,  $D(0; -2)$ ,  $E(-3; -4)$ .

**Vận dụng 2.** Người ta có thể dùng hai số để xác định vị trí của một điểm trên mặt đất hoặc địa cầu, chẳng hạn Lý Sơn là một huyện đảo nổi tiếng của Việt Nam, nằm ở vị trí  $109^{\circ}07'3''\text{Đ}$ ,  $15^{\circ}22'51''\text{B}$ . Em hãy lấy một bản đồ địa lí Việt Nam và xác định vị trí của đảo Lý Sơn theo kinh độ và vĩ độ.

### 3. ĐỒ THỊ CỦA HÀM SỐ



**3** Làm thế nào để biểu diễn hàm số  $y = f(x)$  trên mặt phẳng tọa độ?

Người ta có thể biểu diễn hàm số  $y = f(x)$  một cách trực quan bằng cách vẽ các điểm có tọa độ  $(x; y)$  trong mặt phẳng tọa độ.



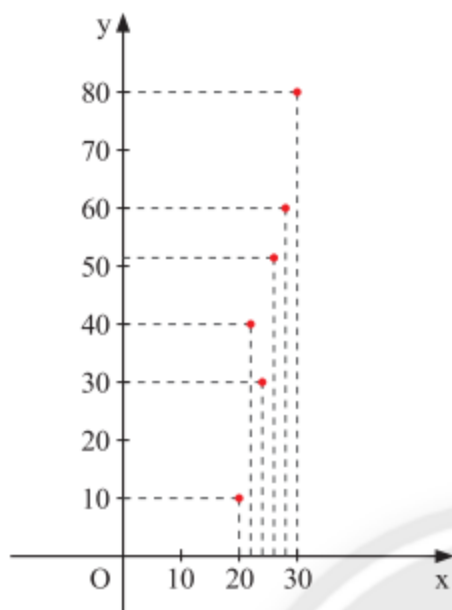
Đồ thị của hàm số  $y = f(x)$  trên mặt phẳng tọa độ Oxy là tập hợp tất cả các điểm  $M(x; f(x))$ .

**Ví dụ 3.** Vẽ đồ thị của hàm số  $y = f(x)$  cho bảng bảng sau:

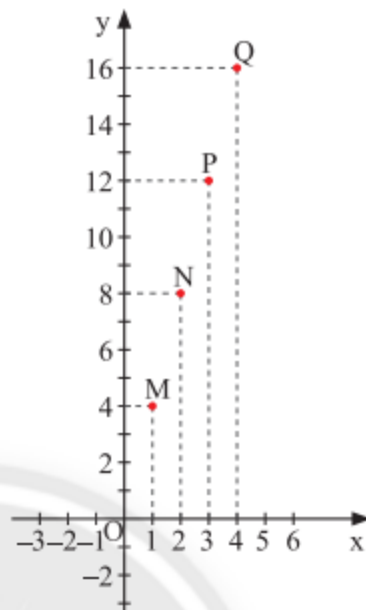
$x$	20	22	24	26	28	30
$y = f(x)$	10	40	30	52	60	80

Giải

Đồ thị hàm số là tập hợp các điểm có tọa độ  $(20; 10)$ ,  $(22; 40)$ ,  $(24; 30)$ ,  $(26; 52)$ ,  $(28; 60)$ ,  $(30; 80)$  được vẽ trên mặt phẳng tọa độ (Hình 8).



Hình 8



Hình 9

**Ví dụ 4.** Lập bảng giá trị của hàm số có đồ thị như Hình 9.

Giải

Ta có bảng giá trị của hàm số đã cho như sau:

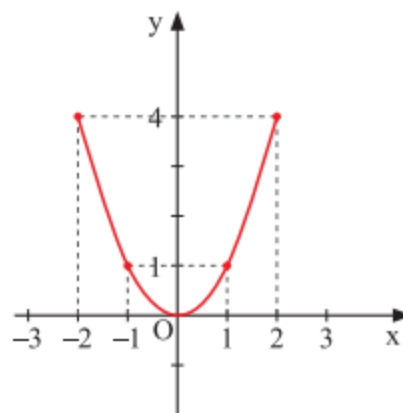
x	1	2	3	4
y	4	8	12	16

**Thực hành 3.** Vẽ đồ thị của hàm số  $y = f(x)$  cho bằng bảng sau:

x	-2	-1	0	1	2
y	2	1	0	-1	-2

**Vận dụng 3.** Cho hàm số  $y = f(x)$  có đồ thị như Hình 10. Hãy hoàn thành bảng giá trị của hàm số sau đây:

x	-2	-1	0	1	2
y	?	?	?	?	?



Hình 10

## BÀI TẬP

- Vẽ một hệ trục tọa độ Oxy và đánh dấu các điểm  $A(-2; 0)$ ,  $B(3; 0)$ ,  $C(4; 0)$ .
  - Em có nhận xét gì về các điểm A, B, C?
  - Em hãy cho biết một điểm bất kì trên trục hoành có tung độ bằng bao nhiêu.
- Vẽ một hệ trục tọa độ Oxy và đánh dấu các điểm  $M(0; -2)$ ,  $N(0; 1)$ ,  $P(0; 4)$ .
  - Em có nhận xét gì về các điểm M, N, P?
  - Em hãy cho biết một điểm bất kì trên trục tung có hoành độ bằng bao nhiêu.
- Vẽ một hệ trục tọa độ Oxy và đánh dấu các điểm  $A(-3; 3)$ ,  $B(3; 3)$ ,  $C(3; -3)$ ,  $D(-3; -3)$ .  
Nêu nhận xét về các cạnh và các góc của tứ giác ABCD.
- Vẽ đồ thị hàm số được cho bởi bảng sau:

x	-3	-1	0	1	2
y	-6	-2	0	2	4

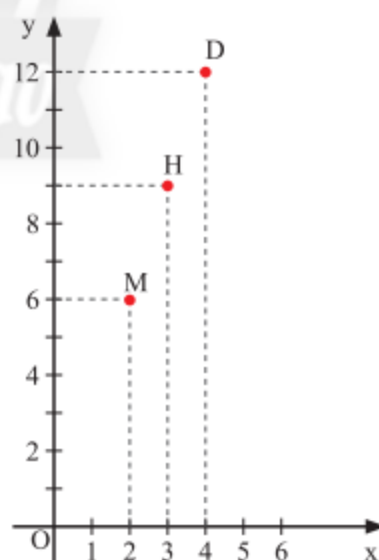
- Trong những điểm sau, tìm điểm thuộc đồ thị của hàm số  $y = 4x$ :

$$M(-1; -4); \quad N(1; -4); \quad P\left(\frac{1}{4}; 1\right).$$

- Cho  $y$  là hàm số của biến số  $x$ . Giá trị tương ứng của  $x$ ,  $y$  được cho trong bảng sau:

x	-2	-1	0	1	2
y	-6	-3	0	3	6

- Vẽ hệ trục tọa độ Oxy và xác định các điểm biểu diễn các cặp giá trị  $(x; y)$  tương ứng có trong bảng trên.
  - Em có nhận xét gì về các điểm vừa xác định trong câu a?
- Số quyển vở  $x$  đã mua và số tiền  $y$  (nghìn đồng) phải trả của ba bạn Hùng, Dũng, Mạnh được biểu diễn lần lượt bởi ba điểm H, D, M trong mặt phẳng tọa độ Oxy như Hình 11.
    - Tìm tọa độ của các điểm H, D, M.
    - Hỏi ai mua nhiều quyển vở nhất?



Hình 11

- Mai trông coi một cửa hàng bán kem, em nhận thấy có mối quan hệ giữa số que kem  $S$  bán ra mỗi ngày và nhiệt độ cao nhất  $t$  ( $^{\circ}C$ ) của ngày hôm đó. Mai đã ghi lại các giá trị tương ứng của  $t$  và  $S$  trong bảng sau:

t	18	20	21	25	28	30
S	36	40	42	50	56	60

Vẽ đồ thị của hàm số  $S$  theo biến số  $t$ .

## RENÉ DESCARTES – NGƯỜI PHÁT MINH RA MẶT PHẪNG TOẠ ĐỘ

Descartes (1596 – 1650) là nhà khoa học, nhà toán học người Pháp đã hoàn thiện và công bố lí thuyết về mặt phẳng toạ độ. Ông được xem là nhà toán học đã kết hợp được hai ngành Hình học và Đại số.

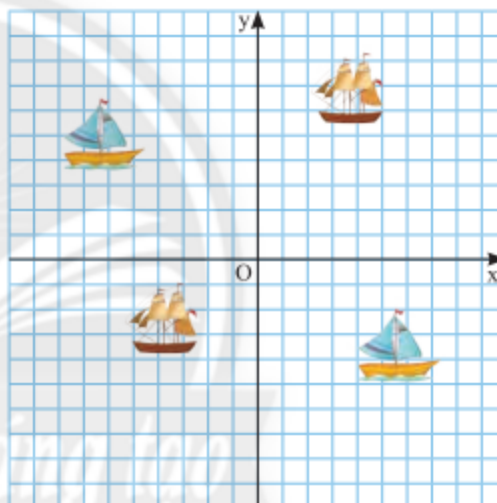
(Nguồn: <https://www.britannica.com/biography/Rene-Descartes>)



### TRÒ CHƠI: BẮN TÀU TRÊN BIỂN

Trò chơi dành cho nhóm hai bạn. Mỗi bạn lấy một tờ giấy có vẽ hệ trục toạ độ Oxy ( $-10 < x, y < 10$ ). Tự bố trí 4 tàu vào 4 điểm có toạ độ tuỳ ý (phải giữ kín không cho đối phương biết). Cách chơi như sau:

- Hai bạn ngồi xa nhau.
- Các bạn luân phiên đọc toạ độ của điểm mà mình vừa bắn.
- Nếu toạ độ bắn trùng với toạ độ tàu của bên bị bắn thì bên này hô to “tàu chìm”, ngược lại thì hô “hụt”.
- Bạn nào bị chìm hết tàu trước thì thua.



Chúc các em vui nhé!



#### Sau bài học này, em đã làm được những gì?

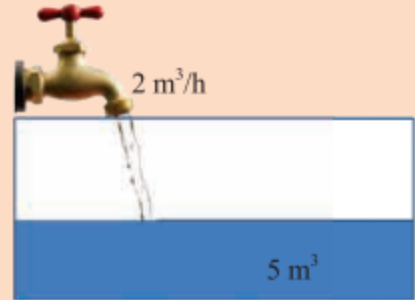
- Xác định được toạ độ của một điểm trên mặt phẳng toạ độ.
- Xác định được một điểm trên mặt phẳng toạ độ khi biết toạ độ của nó.
- Nhận biết được đồ thị hàm số.





Có một cái bể đã chứa sẵn  $5 \text{ m}^3$  nước. Người ta bắt đầu mở một vòi nước cho chảy vào bể, mỗi giờ chảy được  $2 \text{ m}^3$ . Hãy tính:

- a) Lượng nước chảy vào bể sau 1 giờ.
- b) Lượng nước chảy vào bể sau  $x$  giờ.
- c) Lượng nước  $y$  có trong bể sau  $x$  giờ.



**1. HÀM SỐ BẬC NHẤT**



**1** Trong thực tế chúng ta thường gặp các mô hình dẫn đến những hàm số có dạng như:  $y = 2x + 5$ ;  $y = -x + 4$ ;  $y = 5x$ ; ...  
 Những hàm số này được gọi là hàm số bậc nhất. Vậy hàm số bậc nhất có dạng như thế nào?



*Hàm số bậc nhất* là hàm số được cho bởi công thức  $y = ax + b$  với  $a, b$  là các số cho trước và  $a \neq 0$ .

**Ví dụ 1.** Tìm các hàm số bậc nhất trong các hàm số sau đây và chỉ ra các hệ số  $a, b$  của các hàm số đó:

$y = 2x + 5$ ;  $y = -7x$ ;  $s = 2v + 8$ ;  $P = 9,8m + 2,3$ ;  $y = \sqrt{2}x + \sqrt{3}$ ;  $y = 2x^2 + 9$ .

*Giải*

Các hàm số sau là hàm số bậc nhất:

$y = 2x + 5$  với  $a = 2$  và  $b = 5$ .

$y = -7x$  với  $a = -7$  và  $b = 0$ .

$s = 2v + 8$  với  $a = 2$  và  $b = 8$ .

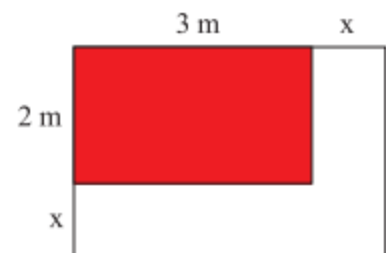
$P = 9,8m + 2,3$  với  $a = 9,8$  và  $b = 2,3$ .

$y = \sqrt{2}x + \sqrt{3}$  với  $a = \sqrt{2}$  và  $b = \sqrt{3}$ .

**Thực hành 1.** Tìm các hàm số bậc nhất trong các hàm số sau đây và chỉ ra các hệ số  $a, b$  của các hàm số đó:

$y = 4x - 7$ ;  $y = x^2$ ;  $y = -6x - 4$ ;  $y = 4x$ ;  $y = \frac{3}{x}$ ;  $s = 5v + 8$ ;  $m = 30n - 25$ .

**Vận dụng 1.** Một hình chữ nhật có các kích thước là  $2 \text{ m}$  và  $3 \text{ m}$ . Gọi  $y$  là chu vi của hình chữ nhật này sau khi tăng chiều dài và chiều rộng thêm  $x \text{ (m)}$ . Hãy chứng tỏ  $y$  là một hàm số bậc nhất theo biến số  $x$ . Tìm các hệ số  $a, b$  của hàm số này.



Hình 1

## 2. BẢNG GIÁ TRỊ CỦA HÀM SỐ BẬC NHẤT



2 Lượng nước  $y$  (tính theo  $m^3$ ) có trong một bể nước sau  $x$  giờ mở vòi cấp nước được cho bởi hàm số  $y = 2x + 3$ . Tính lượng nước có trong bể sau 0 giờ; 1 giờ; 2 giờ; 3 giờ; 10 giờ và hoàn thành bảng giá trị sau:

$x$	0	1	2	3	10
$y = f(x) = 2x + 3$	?	?	?	?	?

Để lập bảng giá trị của hàm số bậc nhất  $y = ax + b$  ta lần lượt cho  $x$  nhận các giá trị  $x_1, x_2, x_3, \dots$  ( $x_1, x_2, x_3, \dots$  tăng dần) và tính các giá trị tương ứng của  $y$  rồi ghi vào bảng có dạng sau:

$x$	$x_1$	$x_2$	$x_3$	$\dots$
$y = ax + b$	$y_1$	$y_2$	$y_3$	$\dots$

**Ví dụ 2.** Lập bảng giá trị của các hàm số bậc nhất

$$y = f(x) = 5x + 3 \text{ và } y = g(x) = -2x + 3$$

với  $x$  lần lượt bằng  $-2; -1; 0; 1; 2$ .

*Giải*

Bảng giá trị của hàm số  $y = f(x) = 5x + 3$ :

$x$	-2	-1	0	1	2
$y = f(x) = 5x + 3$	-7	-2	3	8	13

Bảng giá trị của hàm số  $y = g(x) = -2x + 3$ :

$x$	-2	-1	0	1	2
$y = g(x) = -2x + 3$	7	5	3	1	-1

**Chú ý:** Trong bảng giá trị của hàm số bậc nhất  $y = ax + b$ , khi giá trị của  $x$  tăng dần:

- Nếu  $a > 0$  thì giá trị của  $y$  tăng dần.
- Nếu  $a < 0$  thì giá trị của  $y$  giảm dần.

**Thực hành 2.** Lập bảng giá trị của mỗi hàm số bậc nhất sau:

$$y = f(x) = 4x - 1 \text{ và } y = h(x) = -0,5x + 8$$

với  $x$  lần lượt bằng  $-3; -2; -1; 0; 1; 2; 3$ . Trong mỗi bảng vừa lập, khi  $x$  tăng thì  $y$  tăng hay giảm?

**Vận dụng 2.** Một xe khách khởi hành từ bến xe phía Bắc bưu điện thành phố Nha Trang để đi ra thành phố Đà Nẵng với tốc độ 40 km/h (Hình 2).



Hình 2

- a) Biết rằng bến xe cách bưu điện thành phố Nha Trang 6 km. Sau  $x$  giờ, xe khách cách bưu điện thành phố Nha Trang  $y$  km. Tính  $y$  theo  $x$ .
- b) Chứng minh rằng  $y$  là một hàm số bậc nhất theo biến số  $x$ .
- c) Hoàn thành bảng giá trị của hàm số ở câu b) và giải thích ý nghĩa của bảng giá trị này:

$x$	0	1	2	3
$y$	?	?	?	?

### 3. ĐỒ THỊ CỦA HÀM SỐ BẬC NHẤT

Đồ thị của hàm số  $y = ax$  ( $a \neq 0$ )

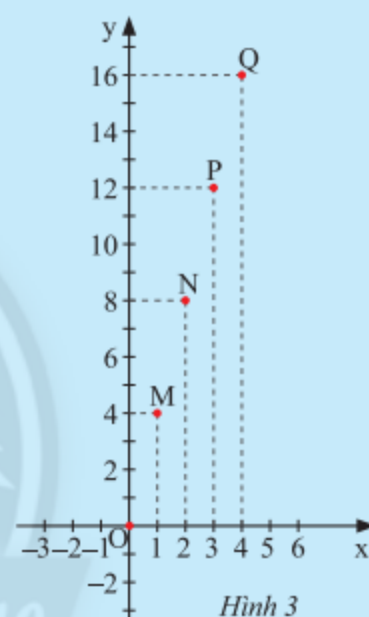


3 Hùng mua  $x$  mét dây điện và phải trả số tiền là  $y$  nghìn đồng. Giá trị tương ứng giữa  $x$  và  $y$  được cho bởi bảng sau:

$x$	1	2	3	4
$y$	4	8	12	16

Hùng vẽ các điểm  $M(1; 4)$ ,  $N(2; 8)$ ,  $P(3; 12)$ ,  $Q(4; 16)$  trên mặt phẳng tọa độ Oxy như Hình 3.

Hãy dùng thước thẳng để kiểm tra các điểm  $O$ ,  $M$ ,  $N$ ,  $P$ ,  $Q$  có thẳng hàng không.



Hình 3

Người ta chứng minh được rằng: Đồ thị của hàm số  $y = ax$  ( $a \neq 0$ ) là một đường thẳng đi qua gốc tọa độ  $O(0; 0)$ .

Để vẽ đồ thị của hàm số  $y = ax$ , ta thường thực hiện các bước sau:

**Bước 1:** Xác định một điểm  $M$  trên đồ thị khác gốc tọa độ  $O$ , chẳng hạn  $M(1; a)$ .

**Bước 2:** Vẽ đường thẳng đi qua hai điểm  $O$  và  $M$ .

**Chú ý:** Đồ thị của hàm số  $y = ax$  còn được gọi là *đường thẳng*  $y = ax$ .

**Ví dụ 3.** Vẽ đồ thị của các hàm số sau:

a)  $y = 3x$ ;      b)  $y = \frac{1}{3}x$ .

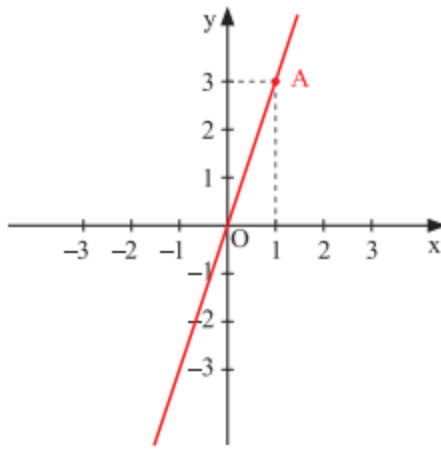
*Giải*

a) Cho  $x = 1$  ta có  $y = 3$ . Ta vẽ điểm  $A(1; 3)$ .

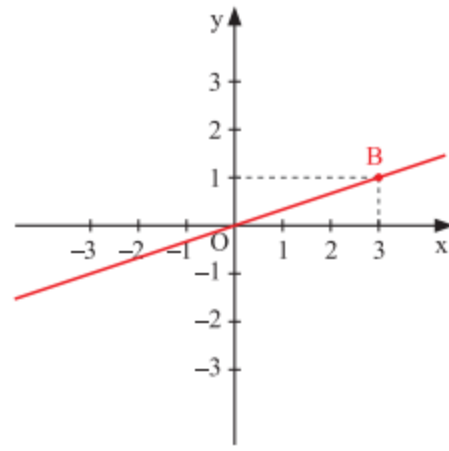
Đồ thị hàm số  $y = 3x$  là đường thẳng đi qua các điểm  $O(0; 0)$  và  $A(1; 3)$  (Hình 4a).

b) Cho  $x = 3$  ta có  $y = 1$ . Ta vẽ điểm  $B(3; 1)$ .

Đồ thị hàm số  $y = \frac{1}{3}x$  là đường thẳng đi qua các điểm  $O(0; 0)$  và  $B(3; 1)$  (Hình 4b).



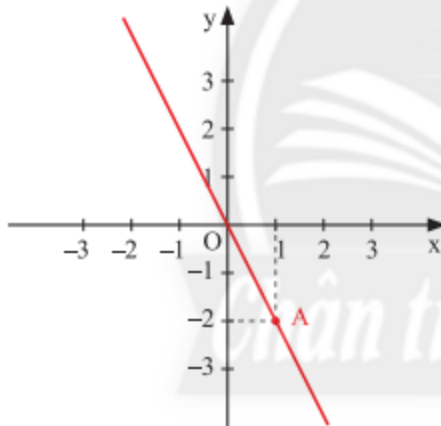
a)



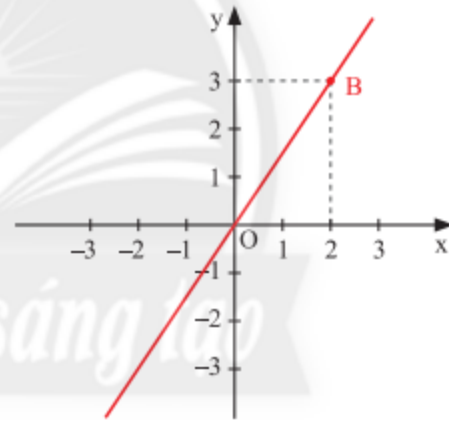
b)

Hình 4

**Ví dụ 4.** Tìm  $a$  để hàm số  $y = ax$  có đồ thị như trong hình sau:



a)



b)

Hình 5

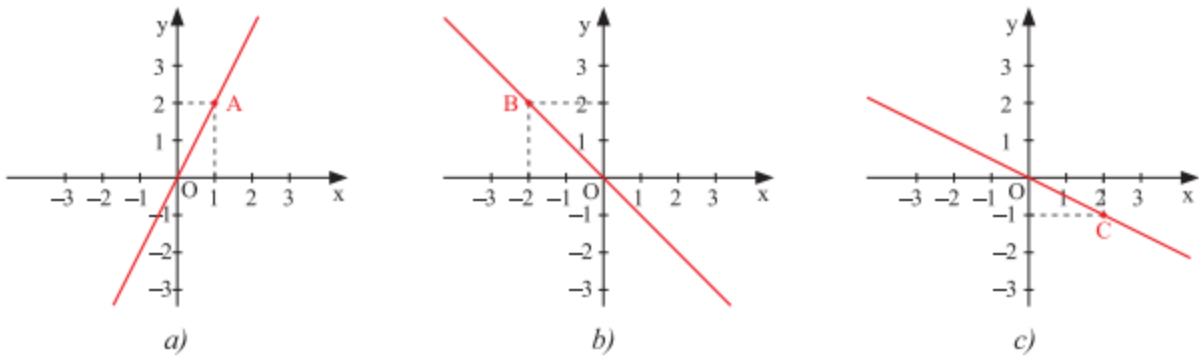
**Giải**

a) Đường thẳng trong Hình 5a đi qua các điểm  $O(0; 0)$  và  $A(1; -2)$  nên là đồ thị của hàm số  $y = ax$ . Cho  $x = 1$  ta có  $y = a$  nên  $a = -2$ . Vậy đồ thị ở Hình 5a là đồ thị của hàm số  $y = -2x$ .

b) Đường thẳng trong Hình 5b đi qua các điểm  $O(0; 0)$  và  $B(2; 3)$  nên là đồ thị của hàm số  $y = ax$ . Cho  $x = 2$  ta có  $y = 2a$  nên  $2a = 3$ , suy ra  $a = \frac{3}{2}$ . Vậy đồ thị ở Hình 5b là đồ thị của hàm số  $y = \frac{3x}{2}$ .

### Thực hành 3.

- a) Vẽ đồ thị của các hàm số:  $y = 0,5x$ ;  $y = -3x$ ;  $y = x$ .  
b) Các đồ thị sau đây là đồ thị của hàm số nào?



Hình 6

### Đồ thị của hàm số $y = ax + b$ ( $a \neq 0, b \neq 0$ )



4 Cho hai hàm số

$$y = f(x) = x \text{ và } y = g(x) = x + 3.$$

a) Thay dấu ? bằng số thích hợp.

x	-2	-1	0	1	2
$y = f(x) = x$	?	?	?	?	?
$y = g(x) = x + 3$	?	?	?	?	?

b) Trên cùng một mặt phẳng tọa độ, vẽ đồ thị hàm số  $y = f(x)$  và biểu diễn các điểm có tọa độ thỏa mãn hàm số  $y = g(x)$  có trong bảng trên.

c) Kiểm tra xem các điểm thuộc đồ thị hàm số  $y = g(x)$  vẽ ở câu b có thẳng hàng không? Và có quan hệ như thế nào với đồ thị hàm số  $y = f(x)$ ?

Ta suy ra tính chất của đồ thị hàm số bậc nhất như sau:



Đồ thị của hàm số  $y = ax + b$  ( $a \neq 0, b \neq 0$ ) là một đường thẳng:

- Cắt trục tung tại điểm có tung độ bằng  $b$ ;
- Song song với đường thẳng  $y = ax$ .

### Cách vẽ đồ thị của hàm số $y = ax + b$ ( $a \neq 0, b \neq 0$ )

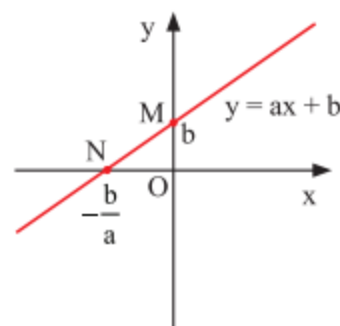
Ta đã biết đồ thị của hàm số  $y = ax + b$  là một đường thẳng. Để vẽ đồ thị hàm số nói trên ta chỉ cần xác định được hai điểm phân biệt tùy ý thuộc đồ thị rồi vẽ đường thẳng đi qua hai điểm đó. Thông thường ta xác định hai điểm đặc biệt là giao điểm của đồ thị với hai trục tọa độ.

**Bước 1:** Cho  $x = 0$  thì  $y = b$ , ta được điểm  $M(0; b)$  trên Oy.

Cho  $y = 0$  thì  $x = -\frac{b}{a}$ , ta được điểm  $N\left(-\frac{b}{a}; 0\right)$  trên Ox.

**Bước 2:** Vẽ đường thẳng đi qua hai điểm M và N, ta được đồ thị của hàm số  $y = ax + b$ .

**Chú ý:** Đồ thị của hàm số  $y = ax + b$  còn gọi là *đường thẳng*  $y = ax + b$ .



Hình 7

**Ví dụ 5.** Vẽ đồ thị của các hàm số sau:

a)  $y = 2x - 4$ ;      b)  $y = -x + 3$ .

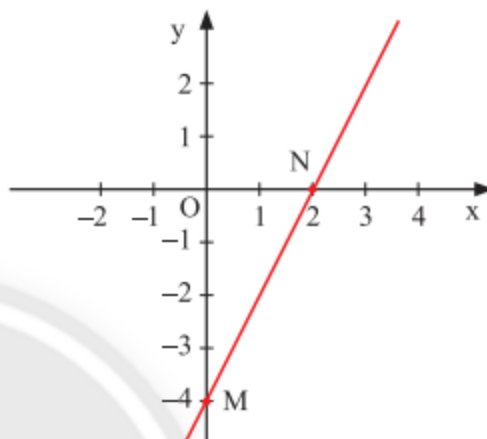
*Giải*

a) Với hàm số  $y = 2x - 4$ :

Cho  $x = 0$  thì  $y = -4$ ;

Cho  $y = 0$  thì  $x = 2$ .

Đồ thị của hàm số  $y = 2x - 4$  là đường thẳng đi qua hai điểm  $M(0; -4)$  và  $N(2; 0)$  (Hình 8).



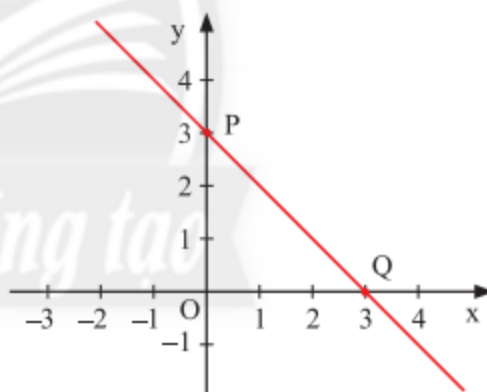
Hình 8

b) Với hàm số  $y = -x + 3$ :

Cho  $x = 0$  thì  $y = 3$ ;

Cho  $y = 0$  thì  $x = 3$ .

Đồ thị của hàm số  $y = -x + 3$  là đường thẳng đi qua hai điểm  $P(0; 3)$  và  $Q(3; 0)$  (Hình 9).



Hình 9

**Thực hành 4.** Vẽ đồ thị của các hàm số sau:

a)  $y = 5x + 2$ ;      b)  $y = -2x - 6$ .

**Vận dụng 3.** Một lò xo có chiều dài ban đầu khi chưa treo vật nặng là 10 cm. Cho biết khi treo thêm vào lò xo một vật nặng 1 kg thì chiều dài lò xo tăng thêm 3 cm.

a) Tính chiều dài  $y$  (cm) của lò xo theo khối lượng  $x$  (kg) của vật.


b) Vẽ đồ thị của hàm số  $y$  theo biến số  $x$ .



Hình 10

## BÀI TẬP

1. Tìm các hàm số bậc nhất trong các hàm số sau đây và xác định các hệ số  $a$ ,  $b$  của chúng.  
a)  $y = 4x + 2$ ;                      b)  $y = 5 - 3x$ ;                      c)  $y = 2 + x^2$ ;  
d)  $y = -0,2x$ ;                      e)  $y = \sqrt{5}x - 1$ .
2. Với giá trị nào của  $m$  thì mỗi hàm số sau đây là hàm số bậc nhất?  
a)  $y = (m - 1)x + m$ ;                      b)  $y = 3 - 2mx$ .
3. a) Vẽ đồ thị các hàm số sau đây trên cùng một mặt phẳng tọa độ:  
 $y = x$ ;       $y = x + 2$ ;       $y = -x$ ;       $y = -x + 2$ .  
b) Bốn đồ thị nói trên cắt nhau tại các điểm  $O(0; 0)$ ,  $A$ ,  $B$ ,  $C$ . Tứ giác có 4 đỉnh  $O$ ,  $A$ ,  $B$ ,  $C$  là hình gì? Giải thích.
4. Để đổi nhiệt độ từ độ F (Fahrenheit) sang độ C (Celsius), ta dùng công thức  $C = \frac{5}{9}(F - 32)$ .  
a)  $C$  có phải là hàm số bậc nhất theo biến số  $F$  không?  
b) Hãy tính  $C$  khi  $F = 32$  và tính  $F$  khi  $C = 100$ .
5. Gọi  $C$  và  $r$  lần lượt là chu vi và bán kính của một đường tròn. Hãy chứng tỏ  $C$  là một hàm số bậc nhất theo biến số  $r$ . Tìm hệ số  $a$ ,  $b$  của hàm số này.
6. Một người đi bộ trên đường thẳng với tốc độ  $v$  (km/h). Gọi  $s$  (km) là quãng đường đi được trong  $t$  (giờ).  
a) Lập công thức tính  $s$  theo  $t$ .  
b) Vẽ đồ thị của hàm số  $s$  theo biến số  $t$  khi  $v = 4$ .



Hình 11

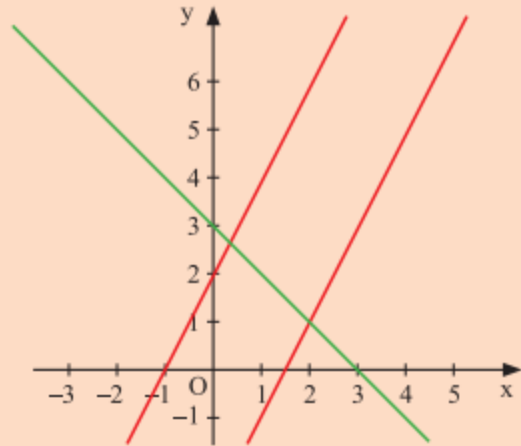


### Sau bài học này, em đã làm được những gì?

- Nhận biết khái niệm hàm số bậc nhất.
- Thiết lập được bảng giá trị của hàm số bậc nhất  $y = ax + b$  ( $a \neq 0$ ).
- Vẽ được đồ thị của hàm số bậc nhất  $y = ax + b$  ( $a \neq 0$ ).
- Vận dụng được hàm số bậc nhất và đồ thị vào giải quyết một số bài toán thực tiễn.



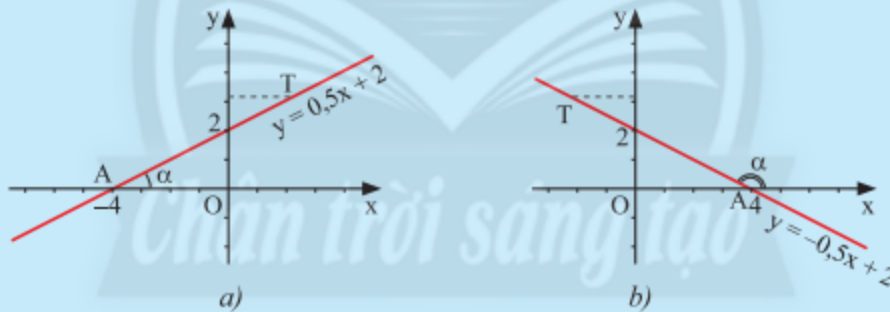
Khi nào thì hai đường thẳng  
 $y = ax + b$  ( $a \neq 0$ )  
 và  $y = a'x + b'$  ( $a' \neq 0$ )  
 song song với nhau,  
 trùng nhau, cắt nhau?



**1. HỆ SỐ GÓC CỦA ĐƯỜNG THẲNG  $y = ax + b$  ( $a \neq 0$ )**

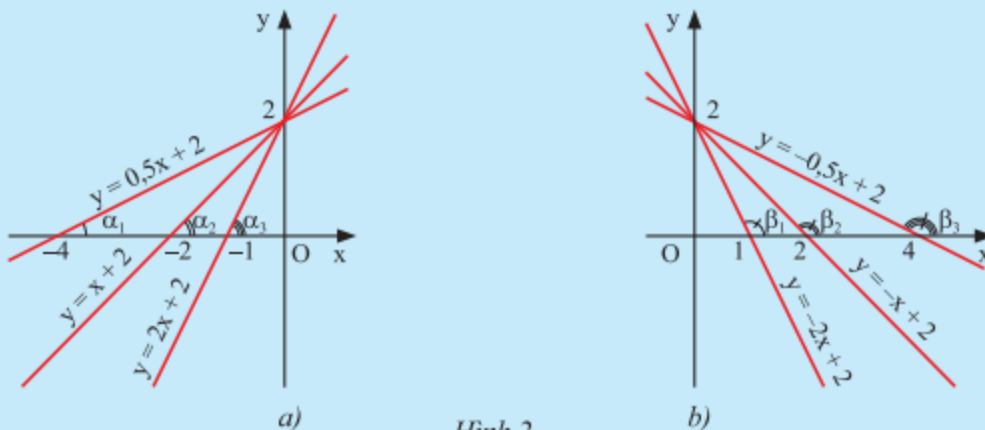


a) Trong mặt phẳng tọa độ Oxy, cho đường thẳng  $y = ax + b$  ( $a \neq 0$ ) cắt Ox tại điểm A và T là một điểm trên đường thẳng  $y = ax + b$  ( $a \neq 0$ ) có tung độ dương (Hình 1).  
 Ta gọi  $\alpha = \widehat{xAT}$  là góc tạo bởi đường thẳng  $y = ax + b$  ( $a \neq 0$ ) và trục Ox.  
 Hãy nêu nhận xét của em về số đo của góc  $\alpha$  và hệ số a trong hai trường hợp dưới đây.



Hình 1

b) Hãy so sánh các hệ số a của các đường thẳng  $y = ax + b$  trong mỗi hình ở Hình 2 và so sánh các góc  $\alpha$  hoặc các góc  $\beta$  tạo bởi các đường thẳng đó với trục Ox.



Hình 2



Ta nhận thấy:

– Khi hệ số  $a$  dương ( $a > 0$ ) thì góc  $\alpha$  tạo bởi đường thẳng  $y = ax + b$  và trục  $Ox$  là góc nhọn. Hệ số  $a$  càng lớn thì góc  $\alpha$  càng lớn nhưng vẫn nhỏ hơn  $90^\circ$ .

– Khi hệ số  $a$  âm ( $a < 0$ ) thì góc  $\beta$  tạo bởi đường thẳng  $y = ax + b$  và trục  $Ox$  là góc tù. Hệ số  $a$  càng lớn thì góc  $\beta$  càng lớn nhưng vẫn nhỏ hơn  $180^\circ$ .



Hệ số  $a$  là *hệ số góc* của đường thẳng  $y = ax + b$  ( $a \neq 0$ ).

**Ví dụ 1.** Tìm hệ số góc của các đường thẳng sau đây:

a)  $y = 0,7x$ ;

b)  $y = -2x + 2022$ ;

c)  $y = -\frac{2}{3}x - 2023$ .

*Giải*

a) Đường thẳng  $y = 0,7x$  có hệ số góc  $a = 0,7$ .

b) Đường thẳng  $y = -2x + 2022$  có hệ số góc  $a = -2$ .

c) Đường thẳng  $y = -\frac{2}{3}x - 2023$  có hệ số góc  $a = -\frac{2}{3}$ .

**Thực hành 1.** Tìm hệ số góc của các đường thẳng sau đây:

a)  $y = -5x - 5$ ;

b)  $y = \sqrt{3}x + 3$ ;

c)  $y = \sqrt{11}x + \sqrt{7}$ .

**Vận dụng 1.** Trong các đường thẳng sau đây, đường thẳng nào tạo với  $Ox$  một góc nhọn, đường thẳng nào tạo với  $Ox$  một góc tù?

a)  $y = 3x + 6$ ;

b)  $y = -4x + 1$ ;

c)  $y = -3x - 6$ .

## 2. HAI ĐƯỜNG THẲNG SONG SONG, HAI ĐƯỜNG THẲNG CẮT NHAU

**Nhận biết hai đường thẳng song song**



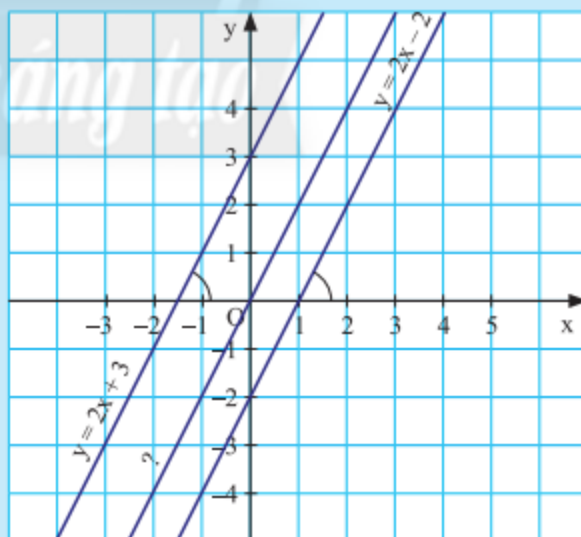
2 Quan sát Hình 3.

a) So sánh hệ số góc của hai đường thẳng:

$d: y = 2x + 3$  và  $d': y = 2x - 2$ .

Nêu nhận xét về vị trí giữa hai đường thẳng này.

b) Tìm đường thẳng  $d''$  đi qua gốc  $O$  và song song với đường thẳng  $d$ .



Hình 3



Hai đường thẳng phân biệt có hệ số góc bằng nhau thì song song với nhau và ngược lại, hai đường thẳng song song thì có hệ số góc bằng nhau.

### Ví dụ 2.

- a) Nêu nhận xét về vị trí giữa hai đường thẳng  $d_1: y = -x + 1$  và  $d_2: y = -x - 2$ .  
b) Tìm phương trình đường thẳng  $d_3$  song song với đường thẳng  $d_1$  và cắt trục Oy tại điểm  $(0; 3)$ .

*Giải*

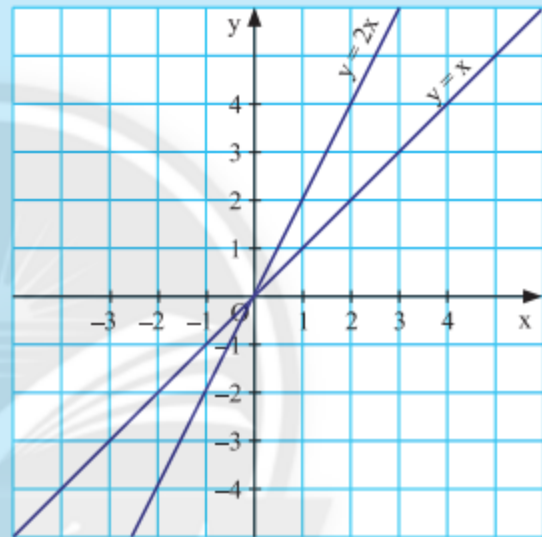
- a) Hai đường thẳng  $d_1$  và  $d_2$  phân biệt (cắt Oy tại hai điểm khác nhau) và có hệ số góc bằng nhau (cùng bằng  $-1$ ), suy ra  $d_1 \parallel d_2$ .  
b) Đường thẳng  $d_3$  song song với  $d_1$ , suy ra  $d_3$  phải có hệ số góc bằng  $-1$ . Ta lại có  $d_3$  đi qua điểm  $(0; 3)$ . Vậy  $d_3$  có phương trình  $y = -x + 3$ .

### Nhận biết hai đường thẳng cắt nhau



3 Quan sát Hình 4.

- a) Tìm giao điểm của hai đường thẳng  $d: y = 2x$  và  $d': y = x$ .  
b) Nêu nhận xét về hai đường thẳng có hệ số góc khác nhau.  
c) Cho đường thẳng  $d'': y = ax + b$  và cho biết  $d''$  cắt  $d$ . Hệ số góc  $a$  của  $d''$  có thể nhận các giá trị nào?



Hình 4



Hai đường thẳng có hệ số góc khác nhau thì cắt nhau và ngược lại, hai đường thẳng cắt nhau thì có hệ số góc khác nhau.

### Ví dụ 3.

- a) Tìm các cặp đường thẳng cắt nhau trong các đường thẳng sau:  
 $d_1: y = 5x + 4;$        $d_2: y = -2x - 3;$        $d_3: y = 5x.$   
b) Cho đường thẳng  $d_4: y = mx + n$ . Tìm điều kiện của  $m$  để  $d_4$  cắt  $d_1$  và cắt  $d_2$ .

*Giải*

- a) Ta có các cặp đường thẳng cắt nhau là:  $d_1$  và  $d_2$ ;  $d_2$  và  $d_3$  vì hai đường thẳng trong mỗi cặp có hệ số góc khác nhau.  
b) Điều kiện của  $m$  để  $d_4$  cắt  $d_1$  và cắt  $d_2$  là  $m \neq 5$  và  $m \neq -2$ .

**Ví dụ 4.** Tìm các cặp đường thẳng cắt nhau hay song song trong các đường thẳng sau:  
 $d_1: y = 3x + 2;$                        $d_2: y = 3x - 6;$                        $d_3: y = 4x + 2.$

*Giải*

Hai đường thẳng  $d_1$  và  $d_2$  song song vì có hệ số góc bằng nhau.

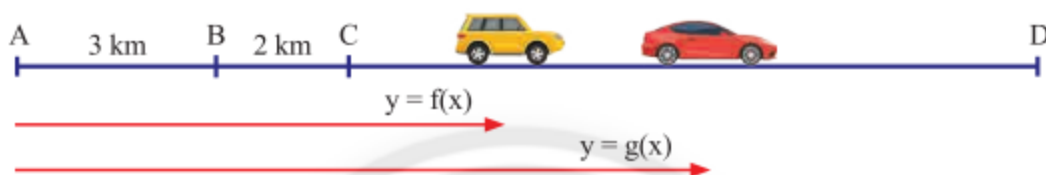
Hai đường thẳng  $d_1$  và  $d_3$  cắt nhau vì có hệ số góc khác nhau.

Hai đường thẳng  $d_2$  và  $d_3$  cắt nhau vì có hệ số góc khác nhau.

**Thực hành 2.** Hãy chỉ ra ba cặp đường thẳng cắt nhau và các cặp đường thẳng song song với nhau trong các đường thẳng sau:

$$\begin{array}{lll} d_1: y = 3x; & d_2: y = -7x + 9; & d_3: y = 3x - 0,8; \\ d_4: y = -7x - 1; & d_5: y = \sqrt{2}x + 10; & d_6: y = \sqrt{2}x + \sqrt{10}. \end{array}$$

**Vận dụng 2.**



Hình 5

Hai ô tô khởi hành cùng lúc và cùng với tốc độ 50 km/h, một ô tô bắt đầu từ B, một ô tô bắt đầu từ C và cùng đi về phía D.

- Viết công thức của hai hàm số biểu thị khoảng cách từ A đến mỗi xe sau  $x$  giờ.
- Chứng tỏ đồ thị của hai hàm số trên là hai đường thẳng song song.

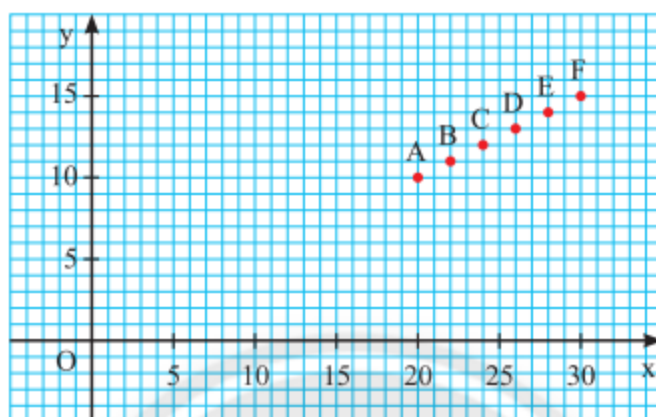
## BÀI TẬP

- Cho hàm số bậc nhất  $y = ax - 4$ .
  - Tim hệ số góc  $a$  biết rằng đồ thị hàm số đi qua điểm  $M(1; -2)$ .
  - Vẽ đồ thị của hàm số.
- Vẽ đồ thị của hai hàm số  $y = x$  và  $y = x + 2$  trên cùng một mặt phẳng tọa độ.
  - Dùng thước đo góc để tìm góc tạo bởi hai đường thẳng  $y = x$  và  $y = x + 2$  với trục  $Ox$ .
- Hãy chỉ ra ba cặp đường thẳng cắt nhau và các cặp đường thẳng song song với nhau trong các đường thẳng sau:
 
$$\begin{array}{lll} d_1: y = 0,2x; & d_2: y = -2x + 4; & d_3: y = 0,2x - 0,8; \\ d_4: y = -2x - 5; & d_5: y = \sqrt{3}x + 3; & d_6: y = \sqrt{3}x - \sqrt{5}. \end{array}$$
- Tim hệ số góc  $a$  để hai đường thẳng  $y = ax + 2$  và  $y = 9x - 9$  song song với nhau.
- Cho hai hàm số bậc nhất  $y = 2mx - 5$  và  $y = 2x + 1$ .  
 Với giá trị nào của  $m$  thì đồ thị của hai hàm số đã cho là:
  - Hai đường thẳng song song với nhau?
  - Hai đường thẳng cắt nhau?
- Cho đường thẳng  $d: y = x + 2023$ . Hãy viết phương trình hai đường thẳng song song với  $d$ .
- Cho đường thẳng  $d: y = -x - 2022$ . Hãy viết phương trình hai đường thẳng cắt  $d$ .

8. Lan phụ giúp mẹ bán nước chanh, em nhận thấy số li nước chanh  $y$  bán được trong ngày và nhiệt độ trung bình  $x$  ( $^{\circ}\text{C}$ ) của ngày hôm đó có mối tương quan. Lan ghi lại các giá trị tương ứng của hai đại lượng  $x$  và  $y$  trong bảng sau:

$x$ ( $^{\circ}\text{C}$ )	20	22	24	26	28	30
$y$ (li nước chanh)	10	11	12	13	14	15

- a) So sánh các giá trị  $x$  và  $y$  tương ứng trong bảng dữ liệu trên với toạ độ  $(x; y)$  của các điểm A, B, C, D, E, F trên mặt phẳng toạ độ trong Hình 6.



Hình 6

- b) Cho biết đường thẳng  $d: y = mx$  đi qua các điểm A, B, C, D, E, F ở câu a. Tìm hệ số góc của  $d$ .
9. Một xe khách khởi hành từ bến xe phía Nam bưu điện thành phố Huế để đi vào thành phố Quy Nhơn với tốc độ 50 km/h.



Hình 7

- a) Cho biết bến xe cách bưu điện thành phố Huế 4 km. Sau  $x$  giờ, xe khách cách bưu điện thành phố Huế  $y$  km. Tính  $y$  theo  $x$ .
- b) Tìm hệ số góc của đường thẳng là đồ thị của hàm số  $y$  ở câu a.
10. Một người bắt đầu mở một vòi nước vào một cái bể đã chứa sẵn  $3 \text{ m}^3$  nước, mỗi giờ chảy được  $1 \text{ m}^3$ .
- a) Tính thể tích  $y$  ( $\text{m}^3$ ) của nước có trong bể sau  $x$  giờ.
- b) Vẽ đồ thị của hàm số  $y$  theo biến số  $x$ .



### Sau bài học này, em đã làm được những gì?

- Nhận biết được khái niệm hệ số góc của đường thẳng  $y = ax + b$  ( $a \neq 0$ ).
- Sử dụng được hệ số góc của đường thẳng để nhận biết và giải thích được sự cắt nhau hoặc song song của hai đường thẳng cho trước.

## BÀI TẬP CUỐI CHƯƠNG 5

### CÂU HỎI TRẮC NGHIỆM

**Chọn phương án đúng.**

1. Vẽ một hệ trục tọa độ Oxy và đánh dấu các điểm  $M(1; 1)$ ,  $N(4; 1)$ ,  $P(2; -1)$ ,  $Q(-1; -1)$ . Tứ giác  $MNPQ$  là hình gì?
  - A. Hình bình hành.
  - B. Hình thang cân.
  - C. Hình vuông.
  - D. Hình chữ nhật.
2. Độ dài cạnh  $MN$  của tứ giác trong câu 1 là
  - A. 3.
  - B. 5.
  - C.  $\sqrt{3}$ .
  - D.  $\sqrt{5}$ .
3. Một người bắt đầu mở một vòi nước vào một cái bể đã chứa sẵn  $2 \text{ m}^3$  nước, mỗi giờ chảy được  $3 \text{ m}^3$  nước. Thể tích  $y$  ( $\text{m}^3$ ) của nước có trong bể sau  $x$  giờ bằng
  - A.  $y = 2x + 3$ .
  - B.  $y = 3x + 2$ .
  - C.  $y = 6x$ .
  - D.  $y = x + 6$ .
4. Trong các điểm sau, điểm nào thuộc đồ thị của hàm số  $y = 2 - 4x$ ?
  - A.  $(1; 1)$ .
  - B.  $(2; 0)$ .
  - C.  $(1; -1)$ .
  - D.  $(1; -2)$ .
5. Trong các điểm sau, điểm nào thuộc đồ thị của hàm số  $y = -5x + 5$ ?
  - A.  $(1; 1)$ .
  - B.  $(2; 0)$ .
  - C.  $(0; 4)$ .
  - D.  $(2; -5)$ .
6. Đường thẳng song song với đường thẳng  $y = 2x$  và cắt trục tung tại điểm có tung độ bằng 1 là
  - A.  $y = 2x - 1$ .
  - B.  $y = -2x - 1$ .
  - C.  $y = 2x + 1$ .
  - D.  $y = 6 - 2(1 - x)$ .
7. Cho hai đường thẳng  $y = \frac{1}{2}x + 3$  và  $y = -\frac{1}{2}x + 3$ . Hai đường thẳng đã cho
  - A. cắt nhau tại điểm có hoành độ là 3.
  - B. song song với nhau.
  - C. cắt nhau tại điểm có tung độ là 3.
  - D. trùng nhau.
8. Cho các hàm số bậc nhất  $y = \frac{1}{3}x + 2$ ;  $y = -\frac{1}{3}x + 2$ ;  $y = -3x + 2$ . Kết luận nào sau đây là đúng?
  - A. Đồ thị của các hàm số trên là các đường thẳng song song với nhau.
  - B. Đồ thị của các hàm số trên là các đường thẳng đi qua gốc tọa độ.
  - C. Đồ thị của các hàm số trên là các đường thẳng trùng nhau.
  - D. Đồ thị của các hàm số trên là các đường thẳng cắt nhau tại một điểm.
9. Đồ thị hàm số  $y = \frac{-x + 10}{5}$ 
  - A. là một đường thẳng có hệ số góc là  $-1$ .
  - B. không phải là một đường thẳng.
  - C. cắt trục hoành tại điểm có hoành độ là 10.
  - D. đi qua điểm  $(200; 50)$ .

## BÀI TẬP TỰ LUẬN

10. Cho hàm số  $y = f(x) = \frac{5}{4x}$ .

a) Tính  $f\left(\frac{1}{5}\right)$ ;  $f(-5)$ ;  $f\left(\frac{4}{5}\right)$ .

b) Hãy tìm các giá trị tương ứng của hàm số trong bảng sau:

$x$	-3	-2	-1	- $\frac{1}{2}$	- $\frac{1}{4}$	1	2
$y = f(x) = \frac{5}{4x}$	?	?	?	?	?	?	?

11. Cho hàm số  $y = f(x) = -x^2 + 1$ . Tính  $f(-3)$ ;  $f(-2)$ ;  $f(-1)$ ;  $f(0)$ ;  $f(1)$ .

12. Vẽ một hệ trục tọa độ Oxy và đánh dấu các điểm  $A(-2; 0)$ ,  $B(0; 4)$ ,  $C(5; 4)$ ,  $D(3; 0)$ . Tứ giác ABCD là hình gì?

13. Cho biết đồ thị của hàm số  $y = ax$  đi qua điểm  $P\left(1; -\frac{4}{5}\right)$ .

a) Xác định hệ số a.

b) Vẽ điểm trên đồ thị có hoành độ bằng -5.

c) Vẽ điểm trên đồ thị có tung độ bằng 2.

14. Tìm hàm số có đồ thị là đường thẳng song song với đồ thị hàm số  $y = -2x + 10$ .

15. Một người đi bộ với tốc độ không đổi 3 km/h. Gọi s (km) là quãng đường đi được trong t (giờ).

a) Lập công thức tính s theo t.

b) Vẽ đồ thị của hàm số s theo biến số t.

16. Tìm m để các hàm số bậc nhất  $y = 2mx - 2$  và  $y = 6x + 3$  có đồ thị là những đường thẳng song song với nhau.

17. Tìm n để các hàm số bậc nhất  $y = 3nx + 4$  và  $y = 6x + 4$  có đồ thị là những đường thẳng trùng nhau.

18. Tìm k để các hàm số bậc nhất  $y = kx - 1$  và  $y = 4x + 1$  có đồ thị là những đường thẳng cắt nhau.

19. Cho hai hàm số  $y = x + 3$ ,  $y = -x + 3$  có đồ thị lần lượt là các đường thẳng  $d_1$  và  $d_2$ .

a) Bằng cách vẽ hình, tìm tọa độ giao điểm A của hai đường thẳng nói trên và tìm các giao điểm B, C lần lượt của  $d_1$  và  $d_2$  với trục Ox.

b) Dùng thước đo góc để tìm góc tạo bởi  $d_1$  và  $d_2$  lần lượt với trục Ox.

c) Tính chu vi và diện tích của tam giác ABC.

## Chương

# 6

## PHƯƠNG TRÌNH

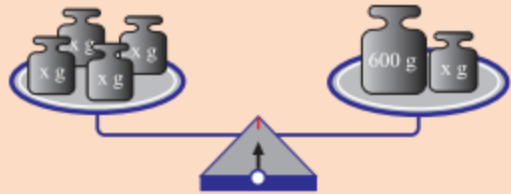
Trong chương này, các em sẽ tìm hiểu những kiến thức về phương trình bậc nhất một ẩn, đó là các bài toán tìm  $x$  mà các em đã biết. Qua đó các em sẽ phát triển kỹ năng giải phương trình bậc nhất một ẩn và áp dụng để giải quyết được một số vấn đề thực tiễn gắn với phương trình bậc nhất.



Phương trình bậc nhất một ẩn có thể được dùng để tính lãi suất tiền gửi tiết kiệm ngân hàng.





Quan sát hình bên. Biết rằng cân thăng bằng, có thể tìm được khối lượng của quả cân  $x$  g không? Tìm bằng cách nào?



### 1. PHƯƠNG TRÌNH MỘT ẨN



- Ở  trên, viết các biểu thức biểu thị tổng khối lượng của các vật trên mỗi đĩa cân. Từ điều kiện cân thăng bằng, hai biểu thức có mối quan hệ như thế nào?
- Nếu  $x = 200$  thì cân có thăng bằng không? Tại sao?  
Nếu  $x = 100$  thì cân có thăng bằng không? Tại sao?

Trong  trên, do cân thăng bằng nên tổng khối lượng các vật trên hai đĩa cân bằng nhau, từ đó ta nhận được

$$4x = 600 + x. \quad (1)$$

Ta gọi (1) là một *phương trình* với ẩn số  $x$  (hay ẩn  $x$ ).

Khi  $x = 200$ , hai vế của (1) có giá trị bằng nhau, đều bằng 800. Ta nói số 200 thoả mãn (hoặc nghiệm đúng) phương trình (1). Ta cũng nói số 200 (hay  $x = 200$ ) là một *nghiệm* của phương trình (1).

Tổng quát, phương trình với ẩn  $x$  có dạng  $A(x) = B(x)$ , trong đó vế trái  $A(x)$  và vế phải  $B(x)$  là hai biểu thức của cùng một biến  $x$ . Người ta thường dùng phương trình khi nói về việc tìm  $x_0$  để  $A(x_0) = B(x_0)$ .

Giá trị của biến làm cho hai vế của phương trình có giá trị bằng nhau gọi là nghiệm của phương trình đó.

**Ví dụ 1.** Năm nay mẹ 39 tuổi, gấp 3 lần tuổi của Lan năm ngoái.

- Hãy viết phương trình ẩn  $x$  biểu thị điều này bằng cách kí hiệu  $x$  là tuổi của Lan năm nay.
- Mình nói rằng tuổi của Lan năm nay là 13, còn Mai nói tuổi của Lan năm nay là 14. Bạn nào nói đúng? Hãy giải thích.



*Giải*

a) Tuổi của Lan năm ngoái là  $x - 1$ . Theo đề bài, ta có phương trình:

$$3(x - 1) = 39.$$

b) Với  $x = 13$ , vế trái của phương trình trên có giá trị  $3(13 - 1) = 3 \cdot 12 = 36 \neq 39$ .

Vậy 13 không thoả mãn phương trình trên.

Với  $x = 14$ , vế trái của phương trình trên có giá trị  $3(14 - 1) = 3 \cdot 13 = 39$ , bằng giá trị vế phải. Do đó, 14 là nghiệm của phương trình trên.

Vậy tuổi của Lan năm nay là 14. Bạn Mai nói đúng.

**Thực hành 1.** Cho phương trình  $4x - 3 = 12 - x$ .

Trong hai số 3 và 5, có số nào là nghiệm của phương trình đã cho không?

**Vận dụng 1.** Đặt lên hai đĩa những quả cân như Hình 1.

a) Biết rằng cân thăng bằng, hãy viết phương trình biểu thị sự thăng bằng này.

b) Nếu  $x = 100$  thì cân có thăng bằng không? Vì sao?

Nếu  $x = 150$  thì cân có thăng bằng không? Vì sao?

Từ đó, chỉ ra một nghiệm của phương trình ở câu a.



Hình 1

## 2. PHƯƠNG TRÌNH BẬC NHẤT MỘT ẨN VÀ CÁCH GIẢI

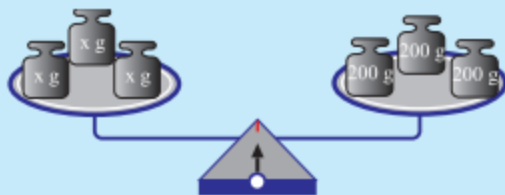


2 Xét cân thăng bằng ở

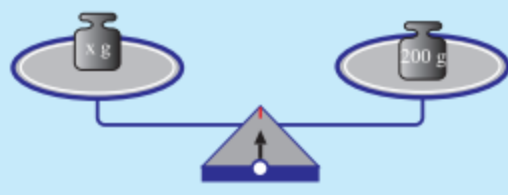
a) Giải thích tại sao nếu bỏ ra khỏi mỗi đĩa cân một quả cân thì cân vẫn thăng bằng.

b) Nếu thay quả cân bằng ba quả cân (Hình 2) thì cân còn thăng bằng không? Tại sao?


c) Tiếp theo, chia các quả cân trên mỗi đĩa cân thành ba phần bằng nhau, rồi bỏ đi hai phần (Hình 3). Khi đó, cân còn thăng bằng không? Tại sao?



Hình 2



Hình 3

Tương ứng với các bước ở , ta thực hiện các biến đổi sau đối với phương trình (1):

$$\begin{aligned}4x &= 600 + x \\4x - x &= 600 + x - x && \text{(trừ hai vế cho } x\text{)} \\3x &= 600 && \text{(thu gọn hai vế)} \\x &= 200. && \text{(chia hai vế cho } 3\text{)}\end{aligned}$$

Như vậy, bằng các biến đổi như trên ta đã tìm được nghiệm  $x = 200$  của phương trình (1). Ta có thể thay đổi cách viết và nói các biến đổi trên như sau:

$$\begin{aligned}4x &= 600 + x \\4x - x &= 600 && \text{(chuyển hạng tử } x \text{ từ vế phải sang vế trái và đổi dấu)} \\3x &= 600 && \text{(thu gọn vế trái)} \\x &= 200. && \text{(chia hai vế cho } 3\text{)}\end{aligned}$$

Người ta thường viết phương trình về dạng có một vế bằng 0, chẳng hạn phương trình  $3x = 600$  được viết thành  $3x - 600 = 0$  (chuyển 600 sang vế trái và đổi dấu).



Phương trình dạng  $ax + b = 0$ , với  $a$  và  $b$  là hai số đã cho và  $a \neq 0$ , được gọi là *phương trình bậc nhất một ẩn*.

Việc tìm các nghiệm của một phương trình gọi là *giải* phương trình đó.

Như đã làm với phương trình (1), để giải phương trình, ta thường sử dụng các quy tắc biến đổi sau:

- Chuyển một hạng tử từ vế này sang vế kia và đổi dấu hạng tử đó (Quy tắc chuyển vế);
- Nhân cả hai vế với cùng một số khác 0 (Quy tắc nhân với một số);
- Chia hai vế cho cùng một số khác 0 (Quy tắc chia cho một số).

Áp dụng các quy tắc trên, ta giải phương trình bậc nhất một ẩn như sau:

$$\begin{aligned}ax + b &= 0 \\ax &= -b && \text{(chuyển } b \text{ từ vế trái sang vế phải và đổi dấu thành } -b\text{)} \\x &= \frac{-b}{a}. && \text{(chia hai vế cho } a\text{)}\end{aligned}$$

Vậy phương trình có nghiệm  $x = \frac{-b}{a}$ .

**Ví dụ 2.** Giải các phương trình sau:

$$\text{a) } -3x - 6 = 0; \qquad \text{b) } 2 - \frac{5}{3}x = 0.$$

Giải

$$\begin{aligned}\text{a) } -3x - 6 &= 0 \\-3x &= 6 && \text{(chuyển } -6 \text{ sang vế phải và đổi dấu)} \\x &= -2. && \text{(chia hai vế cho } -3\text{)}\end{aligned}$$

Vậy phương trình có nghiệm  $x = -2$ .

$$b) 2 - \frac{5}{3}x = 0$$

$$-\frac{5}{3}x = -2$$

(chuyển 2 sang về phải và đổi dấu)

$$x = (-2) : \left(-\frac{5}{3}\right)$$

(chia hai vế cho  $-\frac{5}{3}$ )

$$x = \frac{6}{5}$$

Vậy phương trình có nghiệm  $x = \frac{6}{5}$ .

**Thực hành 2.** Giải các phương trình sau:

$$a) \frac{2}{3}x + 1\frac{1}{2} = 0;$$

$$b) 2\frac{1}{2} - 0,75x = 0.$$

*Chú ý:* Trong thực hành, nhiều trường hợp để giải một phương trình ta phải biến đổi để đưa các phương trình về dạng phương trình bậc nhất một ẩn.

**Ví dụ 3.** Giải các phương trình sau bằng cách đưa về phương trình bậc nhất một ẩn.

$$a) 5x - (7 - 2x) = 14;$$

$$b) \frac{7x-1}{6} + 2x = \frac{16-x}{5}.$$

Giải

$$a) 5x - (7 - 2x) = 14$$

$$5x - 7 + 2x = 14$$

(bỏ dấu ngoặc)

$$5x + 2x = 14 + 7$$

(chuyển vế)

$$7x = 21$$

(rút gọn)

$$x = 3.$$

(chia hai vế cho 7)

Vậy phương trình có nghiệm  $x = 3$ .

$$b) \frac{7x-1}{6} + 2x = \frac{16-x}{5}$$

$$\frac{5(7x-1)}{6 \cdot 5} + \frac{2x \cdot 30}{30} = \frac{6(16-x)}{5 \cdot 6} \quad (\text{quy đồng mẫu số ở hai vế})$$

$$35x - 5 + 60x = 96 - 6x$$

(nhân hai vế với 30 để khử mẫu và bỏ dấu ngoặc)

$$35x + 60x + 6x = 96 + 5$$

(chuyển vế)

$$101x = 101$$

(rút gọn)

$$x = 1.$$

(chia hai vế cho 101)

Vậy phương trình có nghiệm  $x = 1$ .

**Thực hành 3.** Giải các phương trình sau:

$$a) 15 - 4x = x - 5;$$

$$b) \frac{5x+2}{4} + \frac{3x-2}{3} = \frac{3}{2}.$$

*Chú ý:* Quá trình giải phương trình có thể dẫn đến trường hợp đặc biệt là hệ số của ẩn bằng 0. Khi đó, phương trình có thể không có nghiệm (vô nghiệm) hoặc nghiệm đúng với mọi  $x$ .

**Ví dụ 4.** Giải phương trình  $x + 7 = x - 7$ .

*Giải*

$$x + 7 = x - 7$$

$$x - x = -7 - 7$$

$$0x = -14.$$

Vậy phương trình vô nghiệm.

**Ví dụ 5.** Giải phương trình  $x + 7 = x + 7$ .

*Giải*

$$x + 7 = x + 7$$

$$x - x = 7 - 7$$

$$0x = 0.$$

Vậy phương trình nghiệm đúng với mọi  $x$ .

**Vận dụng 2.** Hai bạn An và Mai giải phương trình  $x = 2x$  như sau:

An:  $x = 2x$

$$1 = 2. \quad (\text{chia hai vế cho } x)$$

Vậy phương trình vô nghiệm.

Mai:  $x = 2x$

$$x - 2x = 0 \quad (\text{chuyển } 2x \text{ sang vế trái})$$

$$-x = 0 \quad (\text{rút gọn})$$

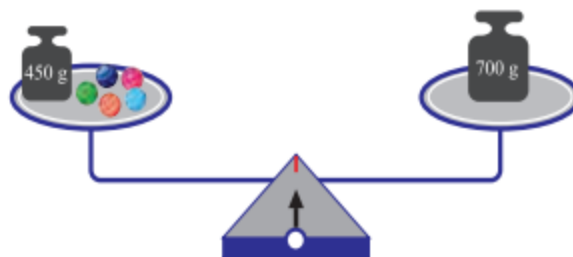
$$x = 0. \quad (\text{nhân hai vế với } -1)$$

Vậy phương trình có nghiệm  $x = 0$ .

Em hãy cho biết bạn nào giải đúng.

## BÀI TẬP

1. Trong Hình 4, cho biết các viên bi có cùng khối lượng là  $x$  (g) và cân thăng bằng. Viết phương trình biểu diễn liên hệ giữa khối lượng của các vật ở hai đĩa cân.



Hình 4

2. Trong các phương trình sau, phương trình nào là phương trình bậc nhất một ẩn? Xác định các hệ số a và b của phương trình bậc nhất một ẩn đó.

a)  $7x + \frac{4}{7} = 0$ ;

b)  $\frac{3}{2}y - 5 = 4$ ;

c)  $0t + 6 = 0$ ;

d)  $x^2 + 3 = 0$ .

3. Giải các phương trình sau:

a)  $5x - 30 = 0$ ;

b)  $4 - 3x = 11$ ;

c)  $3x + x + 20 = 0$ ;

d)  $\frac{1}{3}x + \frac{1}{2} = x + 2$ .

4. Giải các phương trình sau:

a)  $8 - (x - 15) = 2(3 - 2x)$ ;

b)  $-6(1,5 - 2u) = 3(-15 + 2u)$ ;

c)  $(x + 3)^2 - x(x + 4) = 13$ ;

d)  $(y + 5)(y - 5) - (y - 2)^2 = -5$ .

5. Giải các phương trình sau:

a)  $\frac{5x - 3}{4} = \frac{x + 2}{3}$ ;

b)  $\frac{9x + 5}{6} = 1 - \frac{6 + 3x}{8}$ ;

c)  $\frac{2(x + 1)}{3} - \frac{1}{2} = \frac{1 + 3x}{4}$ ;

d)  $\frac{x + 3}{5} - \frac{2}{3}x = \frac{3}{10}$ .

6. Tìm x, biết rằng nếu lấy x trừ đi  $\frac{1}{2}$ , rồi nhân kết quả với  $\frac{1}{2}$  thì được  $\frac{1}{8}$ .



**Sau bài học này, em đã làm được những gì?**

- Hiểu được phương trình bậc nhất một ẩn.
- Giải được phương trình bậc nhất một ẩn.



Sau khi giảm giá 15% thì đôi giày thể thao có giá là 1 275 000 đồng. Hỏi lúc chưa giảm giá thì đôi giày có giá là bao nhiêu?

**Giảm giá 15%**



### 1. BIỂU DIỄN MỘT ĐẠI LƯỢNG BỞI BIỂU THỨC CHỨA ẨN



1 Một mảnh vườn hình chữ nhật có chiều rộng là  $x$  (m), chiều dài hơn chiều rộng 20 m. Hãy viết biểu thức với biến  $x$  biểu thị:

- Chiều dài của hình chữ nhật;
- Chu vi của hình chữ nhật;
- Diện tích của hình chữ nhật.

Trong thực tế đời sống cũng như trong toán học, nhiều đại lượng phụ thuộc lẫn nhau. Nếu kí hiệu một trong các đại lượng ấy là  $x$  thì các đại lượng khác có thể được biểu diễn dưới dạng một biểu thức chứa biến  $x$ .

**Ví dụ 1.** Một ô tô khởi hành từ thành phố A đến thành phố B với tốc độ 40 km/h. Khi từ B quay về A xe chạy với tốc độ 50 km/h. Gọi  $x$  (km) là chiều dài quãng đường AB. Viết biểu thức biểu thị:

- Thời gian ô tô đi từ A đến B;
- Tổng thời gian ô tô đi từ A đến B và từ B về A.

*Giải*

- Thời gian ô tô đi từ A đến B là  $\frac{x}{40}$  (giờ).
- Tổng thời gian ô tô đi từ A đến B và từ B về A là  $\frac{x}{40} + \frac{x}{50}$  (giờ).

**Thực hành 1.** Tiền lương cơ bản của anh Minh mỗi tháng là  $x$  (triệu đồng). Tiền phụ cấp mỗi tháng là 3 500 000 đồng.

- Viết biểu thức biểu thị tiền lương mỗi tháng của anh Minh. Biết tiền lương mỗi tháng bằng tổng tiền lương cơ bản và tiền phụ cấp.
- Tháng Tết, anh Minh được thưởng 1 tháng lương cùng với 60% tiền phụ cấp. Viết biểu thức chỉ số tiền anh Minh được nhận ở tháng Tết.

## 2. GIẢI BÀI TOÁN BẰNG CÁCH LẬP PHƯƠNG TRÌNH BẬC NHẤT



2 Thay dấu [?] bằng các dữ liệu thích hợp để hoàn thành lời giải bài toán.  
Một người đi xe gắn máy từ A đến B với tốc độ 40 km/h. Lúc về người đó đi với tốc độ 50 km/h nên thời gian về ít hơn thời gian đi là 30 phút. Tìm chiều dài quãng đường AB.

*Giải*

Gọi chiều dài quãng đường AB là x (km). Điều kiện  $x > [?]$ .

Thời gian đi là:  $\frac{x}{40}$  giờ.

Thời gian về là: [?].

Ta có: 30 phút =  $\frac{1}{2}$  giờ.

Vì thời gian về ít hơn thời gian đi là  $\frac{1}{2}$  giờ nên ta có phương trình:

$$\frac{x}{40} - [?] = \frac{1}{2}$$

Giải phương trình, ta được  $x = [?]$  thoả mãn điều kiện  $x > [?]$ .

Vậy chiều dài quãng đường AB là [?].



*Tóm tắt các bước giải bài toán bằng cách lập phương trình:*

*Bước 1. Lập phương trình.*

- Chọn ẩn số và đặt điều kiện thích hợp cho ẩn số.
- Biểu diễn các đại lượng chưa biết theo ẩn và theo các đại lượng đã biết.
- Lập phương trình biểu diễn mối quan hệ giữa các đại lượng.

*Bước 2. Giải phương trình.*

*Bước 3. Trả lời.*

- Kiểm tra xem trong các nghiệm của phương trình, nghiệm nào thoả mãn điều kiện của ẩn, nghiệm nào không.
- Kết luận.

**Ví dụ 2.** Bác Thanh gửi 300 000 000 đồng vào một ngân hàng với kì hạn một năm. Sau một năm bác rút về được cả vốn lẫn lãi là 318 600 000 đồng. Tính lãi suất tiền gửi ngân hàng.

*Giải*

Gọi lãi suất tiền gửi một năm là x. Điều kiện:  $x > 0$ .

Tiền lãi sau một năm gửi là:  $300\,000\,000 \cdot x$  (đồng).

Vì cả vốn lẫn lãi sau một năm là 318 600 000 đồng nên ta có phương trình:

$$300\,000\,000 + 300\,000\,000x = 318\,600\,000$$

$$300\,000\,000x = 18\,600\,000$$

$$x = 0,062.$$

Ta có  $x = 0,062 = 6,2\%$  thoả mãn điều kiện  $x > 0$ .

Vậy lãi suất tiền gửi ngân hàng là 6,2% một năm.

**Ví dụ 3.** Năm nay tuổi của mẹ gấp ba lần tuổi của Trang. Biết rằng 5 năm sau tổng số tuổi của mẹ và Trang là 66 tuổi. Hỏi năm nay Trang bao nhiêu tuổi?

*Giải*

Gọi tuổi của Trang năm nay là  $x$ . Điều kiện:  $x \in \mathbb{N}^*$ .

Tuổi của mẹ năm nay là:  $3x$  (tuổi).

Tuổi của Trang 5 năm sau là:  $x + 5$  (tuổi).

Tuổi của mẹ 5 năm sau là:  $3x + 5$  (tuổi).

Vì 5 năm sau tổng số tuổi của hai người là 66 tuổi, nên ta có phương trình:

$$x + 5 + 3x + 5 = 66$$

$$4x + 10 = 66$$

$$4x = 56$$

$$x = 14.$$

Ta có  $x = 14$  thoả mãn điều kiện  $x \in \mathbb{N}^*$ .


Vậy năm nay Trang 14 tuổi.

**Thực hành 2.** Một người mua 36 bông hoa hồng và bông hoa cẩm chướng hết tất cả 136 800 đồng. Giá mỗi bông hoa hồng là 3 000 đồng, giá mỗi bông hoa cẩm chướng là 4 800 đồng. Tính số bông hoa mỗi loại.



Hoa hồng  
3 000 đồng/bông

Hoa cẩm chướng  
4 800 đồng/bông

**Vận dụng.** Giải bài toán đã cho trong  (trang 37).

## BÀI TẬP

1. Một nhân viên giao hàng trong hai ngày đã giao được 95 đơn hàng. Biết số đơn hàng ngày thứ hai giao được nhiều hơn ngày thứ nhất là 15 đơn. Tính số đơn hàng nhân viên đó giao được trong ngày thứ nhất.
2. Anh Bình tiêu hao 14 calo cho mỗi phút bơi và 10 calo cho mỗi phút chạy bộ. Trong 40 phút với hai hoạt động trên, anh Bình đã tiêu hao 500 calo. Tính thời gian chạy bộ của anh Bình.



3. Một cửa hàng ngày thứ nhất bán được nhiều hơn ngày thứ hai 560 kg gạo. Tính số gạo cửa hàng bán được trong ngày thứ nhất, biết rằng nếu ngày thứ nhất bán được thêm 60 kg gạo thì sẽ gấp 1,5 lần ngày thứ hai.
4. Một xe tải đi từ A đến B với tốc độ 50 km/h. Khi từ B quay về A xe chạy với tốc độ 40 km/h. Thời gian cả đi lẫn về mất 5 giờ 24 phút không kể thời gian nghỉ. Tính chiều dài quãng đường AB.
5. Bác Năm gửi tiết kiệm một số tiền tại một ngân hàng theo thẻ thức kì hạn một năm với lãi suất 6,2%/năm, tiền lãi sau mỗi năm gửi tiết kiệm sẽ được nhập vào tiền vốn để tính lãi cho năm tiếp theo. Sau hai năm gửi bác Năm rút hết tiền về và nhận được cả vốn lẫn lãi là 225 568 800 đồng. Hỏi số tiền ban đầu bác Năm gửi tiết kiệm là bao nhiêu?
6. Tổng số học sinh khối 8 và khối 9 của một trường là 580 em, trong đó có 256 em là học sinh giỏi. Tính số học sinh của mỗi khối, biết rằng số học sinh giỏi khối 8 chiếm tỉ lệ 40% số học sinh khối 8, số học sinh giỏi khối 9 chiếm tỉ lệ 48% số học sinh khối 9.
7. Một lọ dung dịch chứa 12% muối. Nếu pha thêm 350 g nước vào lọ thì được một dung dịch 5% muối. Tính khối lượng dung dịch trong lọ lúc đầu.
8. Để khuyến khích tiết kiệm điện, giá bán lẻ điện sinh hoạt năm 2022 được tính lũy tiến, nghĩa là sử dụng càng nhiều điện thì giá mỗi kWh càng tăng theo các mức như sau:  
Mức 1: Tính cho 50 kWh đầu tiên.  
Mức 2: Tính cho số kWh từ 51 đến 100 kWh, mỗi kWh ở mức 2 cao hơn 56 đồng so với ở mức 1.  
Mức 3: Tính cho số kWh từ 101 đến 200 kWh, mỗi kWh ở mức 3 cao hơn 280 đồng so với ở mức 2.  
Mức 4: Tính cho số kWh từ 201 đến 300 kWh, mỗi kWh ở mức 4 cao hơn 522 đồng so với ở mức 3.  
...  
Ngoài ra, người sử dụng điện còn phải trả thêm 10% thuế giá trị gia tăng.  
Tháng vừa rồi nhà bạn Minh đã sử dụng hết 185 kWh và phải trả 375 969 đồng. Hỏi mỗi kWh ở mức 3 giá bao nhiêu?



### Sau bài học này, em đã làm được những gì?

Giải quyết được một số vấn đề thực tiễn gắn với phương trình bậc nhất.

## BÀI TẬP CUỐI CHƯƠNG 6

### CÂU HỎI TRẮC NGHIỆM

Chọn phương án đúng.

1. Phương trình  $ax + b = 0$  là phương trình bậc nhất một ẩn nếu  
A.  $a = 0$ . B.  $b \neq 0$ .  
C.  $b = 0$ . D.  $a \neq 0$ .
2. Phương trình nào sau đây là phương trình bậc nhất một ẩn?  
A.  $3x + 2y - 6 = 0$ . B.  $3x + 6 = 0$ .  
C.  $x^2 = 4$ . D.  $y^2 - x + 1 = 0$ .
3. Phương trình nào sau đây nhận  $x = 2$  là nghiệm?  
A.  $3x + 6 = 0$ . B.  $2x - 4 = 0$ .  
C.  $2x + 3 = 1 + x$ . D.  $x + 2 = 4 + x$ .
4. Nghiệm của phương trình  $5x + 3 = 18$  là  
A.  $x = -3$ . B.  $x = 5$ .  
C.  $x = 3$ . D.  $x = -5$ .
5. Phương trình  $x - 4 = 10 - x$  có nghiệm là  
A. 3. B. 14.  
C. 7. D. -7.
6. Cho biết  $3x - 9 = 0$ . Khi đó giá trị của biểu thức  $x^2 - 2x - 3$  là  
A. -3. B. 1.  
C. 0. D. 6.

### BÀI TẬP TỰ LUẬN

7. Giải các phương trình sau:  
a)  $5x - 12 = 3$ ; b)  $2,5y + 6 = -6,5$ ;  
c)  $\frac{1}{5}x - 2 = \frac{3}{5}$ ; d)  $\frac{1}{2}x + \frac{2}{3} = x + 1$ .
8. Giải các phương trình sau:  
a)  $10 - (x - 5) = 20$ ;  
b)  $-12 + 3(1,5 - 3u) = 15$ ;  
c)  $(x + 2)^2 - x(x - 3) = -12$ ;  
d)  $(x + 5)(x - 5) - (x - 3)^2 = 6$ .
9. Giải các phương trình sau:  
a)  $\frac{3x - 1}{6} = \frac{3 + 2x}{3}$ ; b)  $\frac{x + 5}{3} = 1 - \frac{x - 2}{4}$ ;  
c)  $\frac{3x - 2}{5} + \frac{3}{2} = \frac{4 - x}{10}$ ; d)  $\frac{x}{3} + \frac{2x + 1}{6} = \frac{4(x - 2)}{5}$ .

10. Một tổ may có kế hoạch mỗi ngày phải may 30 chiếc áo. Trong thực tế mỗi ngày tổ đã may được 40 chiếc áo. Do đó xưởng đã hoàn thành kế hoạch sớm hơn 3 ngày và may thêm được 20 chiếc áo nữa. Tính số áo mà tổ phải may theo kế hoạch.
11. Trong một cuộc thi, học sinh cần trả lời 50 câu hỏi trắc nghiệm, mỗi câu trả lời đúng được 5 điểm, mỗi câu trả lời sai (hoặc không trả lời) bị trừ 2 điểm. An đã tham gia cuộc thi trên và đã ghi được tổng cộng là 194 điểm. Hỏi An trả lời đúng mấy câu?
12. Biết rằng trong 500 g dung dịch nước muối chứa 150 g muối nguyên chất. Hỏi cần phải thêm vào dung dịch đó bao nhiêu gam nước để dung dịch có nồng độ là 20%?
13. Một ô tô dự định đi từ A đến B với tốc độ 50 km/h. Sau khi đi được  $\frac{2}{3}$  quãng đường với tốc độ đó, vì đường xấu nên người lái xe phải giảm tốc độ còn 40 km/h trên quãng đường còn lại. Vì thế ô tô đã đến B chậm hơn dự định 30 phút. Tính chiều dài quãng đường AB.
14. Một hình chữ nhật có chiều dài gấp 3 lần chiều rộng. Nếu tăng chiều dài thêm 3 m và giảm chiều rộng 2 m thì diện tích giảm 90 m<sup>2</sup>. Tính chiều dài và chiều rộng của hình chữ nhật.
15. Trong tháng 4, một công nhân nhận được tiền lương là 7 800 000 đồng gồm tiền lương của 24 ngày làm việc bình thường và 4 ngày làm tăng ca (ngày Chủ nhật và ngày lễ). Biết tiền lương của một ngày tăng ca nhiều hơn tiền lương của một ngày làm việc bình thường là 200 000 đồng. Tính tiền lương của một ngày làm việc bình thường.
16. Một siêu thị điện máy có chương trình khuyến mãi giảm giá tủ lạnh, sau hai lần giảm giá, mỗi lần giảm 20% so với giá tại thời điểm đó thì giá bán của một chiếc tủ lạnh là 12 800 000 đồng. Tính giá tiền tủ lạnh đó lúc chưa giảm giá lần nào.

Chân trời sáng tạo

# Phần HÌNH HỌC VÀ ĐO LƯỜNG

## HÌNH HỌC PHẪNG

### Chương

# 7

## ĐỊNH LÍ THALÈS

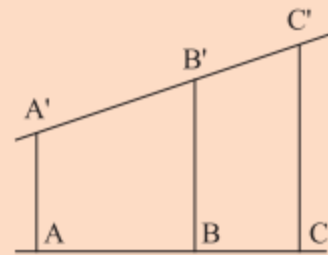
Trong chương này, các em sẽ tìm hiểu về định lí Thalès: Một định lí về tính chia tỉ lệ của các đường thẳng song song. Chúng ta cũng sẽ học về đường trung bình trong tam giác và tính chất chia tỉ lệ của các đường phân giác trong tam giác, đồng thời vận dụng các kiến thức đó vào giải toán và giải quyết một số vấn đề thực tiễn.



*Đường vào Tam Cốc – Bích Động (thuộc tỉnh Ninh Bình).  
Làm thế nào để đo khoảng cách AB mà không phải vượt qua sông?*



Những sợi cáp treo của cầu Thuận Phước (thuộc thành phố Đà Nẵng) cho ta hình ảnh những đoạn thẳng song song. Các đoạn thẳng  $AA'$ ,  $BB'$ ,  $CC'$  thể hiện ba sợi cáp của cầu. Nếu biết độ dài các đoạn  $AB$ ,  $BC$ ,  $A'B'$ , có thể tính độ dài  $B'C'$  không?




**1. ĐOẠN THẲNG TỈ LỆ**

Tỉ số của hai đoạn thẳng



- 1 a) Cho hai số 5 và 8. Hãy tính tỉ số giữa hai số đã cho.  
b) Hãy đo và tính tỉ số giữa hai độ dài (theo mm) của hai đoạn thẳng  $AB$  và  $CD$  trong Hình 1.



Hình 1

Tỉ số của hai đoạn thẳng là tỉ số độ dài của chúng theo cùng một đơn vị đo.

Tỉ số của hai đoạn thẳng  $AB$  và  $CD$  được kí hiệu là:  $\frac{AB}{CD}$ .

**Ví dụ 1.** Tính tỉ số của hai đoạn thẳng  $MN$  và  $RS$  trong các trường hợp sau:

- a)  $MN = 7$  cm,  $RS = 14$  cm;                      b)  $MN = 150$  cm,  $RS = 2$  m.

*Giải*

a) Ta có  $\frac{MN}{RS} = \frac{7}{14} = \frac{1}{2}$ .

b) Ta có  $MN = 150$  cm = 1,5 m;  $RS = 2$  m = 200 cm.

$$\frac{MN}{RS} = \frac{1,5}{2} = \frac{150}{200} = \frac{3}{4}$$

*Chú ý:*

- Để tính tỉ số của hai đoạn thẳng, ta phải đưa chúng về cùng một đơn vị đo.
- Tỉ số của hai đoạn thẳng không phụ thuộc vào đơn vị đo độ dài đoạn thẳng.

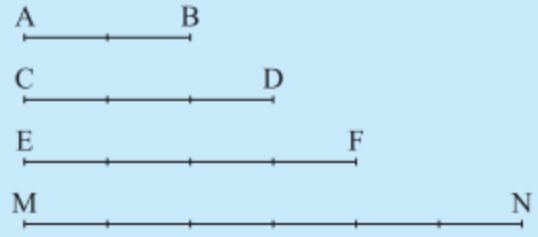
**Thực hành 1.** Hãy tính tỉ số của hai đoạn thẳng  $AB$  và  $CD$  trong các trường hợp sau:

- a)  $AB = 6$  cm;  $CD = 8$  cm;                      b)  $AB = 1,2$  m;  $CD = 42$  cm.

## Đoạn thẳng tỉ lệ



2 So sánh tỉ số của hai đoạn thẳng AB và CD với tỉ số của hai đoạn thẳng EF và MN trong Hình 2.



Hình 2

Hai đoạn thẳng AB và CD được gọi là tỉ lệ với hai đoạn thẳng EF và MN nếu:

$$\frac{AB}{CD} = \frac{EF}{MN} \text{ hay } \frac{AB}{EF} = \frac{CD}{MN}.$$

Từ nay, độ dài các đoạn thẳng được coi như cùng một đơn vị đo nếu không nói gì thêm.

**Ví dụ 2.** Trong Hình 2, chứng minh rằng hai đoạn thẳng AB và CD tỉ lệ với hai đoạn thẳng EF và MN.

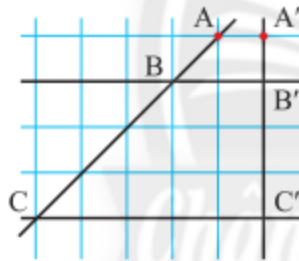
*Giải*

Ta có  $\frac{AB}{CD} = \frac{2}{4} = \frac{1}{2}$  và  $\frac{EF}{MN} = \frac{6}{12} = \frac{1}{2}$ . Suy ra  $\frac{AB}{CD} = \frac{EF}{MN}$ .

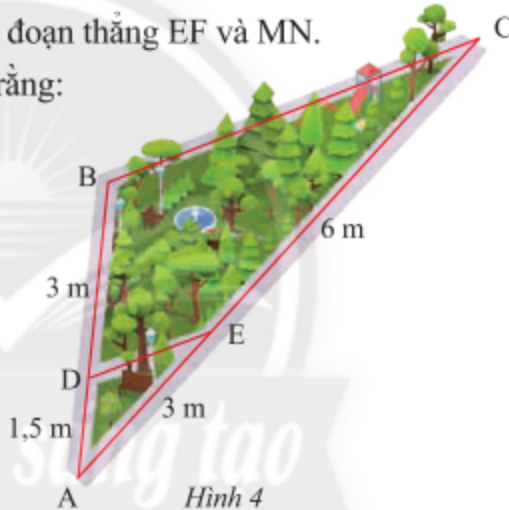
Vậy hai đoạn thẳng AB và CD tỉ lệ với hai đoạn thẳng EF và MN.

**Thực hành 2.** Trong Hình 3, chứng minh rằng:

- AB và BC tỉ lệ với A'B' và B'C';
- AC và A'C' tỉ lệ với AB và A'B'.



Hình 3



Hình 4

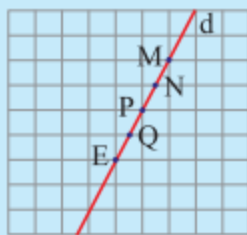
**Vận dụng 1.** Hãy tìm các đoạn thẳng tỉ lệ trong hình vẽ sơ đồ một góc công viên ở Hình 4.

## 2. ĐỊNH LÍ THALÈS TRONG TAM GIÁC

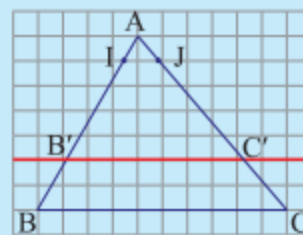


3 Trên một tờ giấy kẻ caro có các đường kẻ ngang song song và cách đều nhau.

a) Vẽ một đường thẳng d cắt các đường kẻ ngang của tờ giấy như trong Hình 5a. Hãy so sánh độ dài các đoạn thẳng MN, NP, PQ và QE.



a)



b)

Hình 5

b) Vẽ một tam giác ABC rồi vẽ một đường thẳng song song với cạnh BC và cắt hai cạnh AB, AC lần lượt tại B' và C'. Trên cạnh AB, lấy đoạn AI làm đơn vị đo tính tỉ số AB' và B'B; trên cạnh AC, lấy đoạn AJ làm đơn vị đo tính tỉ số AC' và C'C (Hình 5b).

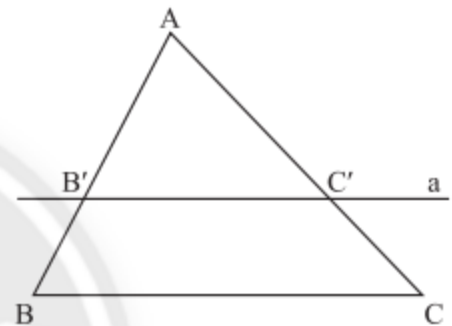
So sánh các tỉ số  $\frac{AB'}{AB}$  và  $\frac{AC'}{AC}$ ;  $\frac{AB'}{B'B}$  và  $\frac{AC'}{C'C}$ ;  $\frac{B'B}{AB}$  và  $\frac{C'C}{AC}$ .

### Định lí Thalès



Nếu một đường thẳng song song với một cạnh của tam giác và cắt hai cạnh còn lại thì nó định ra trên hai cạnh đó các đoạn thẳng tương ứng tỉ lệ.

GT	$\triangle ABC, B'C' \parallel BC (B' \in AB, C' \in AC)$
KL	$\frac{AB'}{AB} = \frac{AC'}{AC}; \frac{AB'}{B'B} = \frac{AC'}{C'C}; \frac{B'B}{AB} = \frac{C'C}{AC}$ .



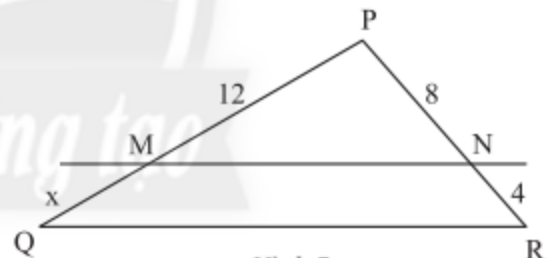
Hình 6

**Ví dụ 3.** Tính độ dài x trong Hình 7, cho biết  $MN \parallel QR$ .

*Giải*

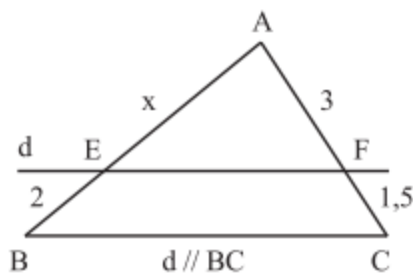
Xét  $\triangle PQR$ , có  $MN \parallel QR$ , nên theo định lí Thalès ta có:

$$\frac{MQ}{MP} = \frac{NR}{NP}, \text{ suy ra } \frac{x}{12} = \frac{4}{8}, \text{ vậy } x = \frac{4 \cdot 12}{8} = 6.$$

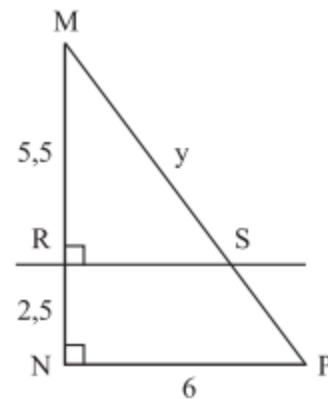


Hình 7

**Thực hành 3.** Tính độ dài x, y trong Hình 8.



a)



b)

Hình 8



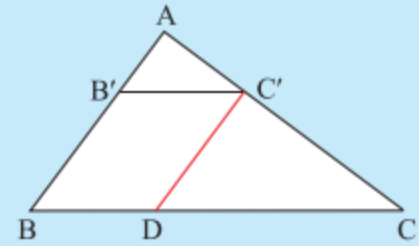
4 Cho tam giác ABC có  $AB = 6$  cm,  $AC = 8$  cm và  $BC = 10$  cm.

Lấy điểm  $B'$  trên  $AB$  sao cho  $AB' = 2$  cm. Qua  $B'$  vẽ đường thẳng song song với  $BC$  và cắt  $AC$  tại  $C'$ .

a) Tính  $AC'$ .

b) Qua  $C'$  vẽ đường thẳng song song với  $AB$  và cắt  $BC$  tại  $D$ . Tính  $BD$ ,  $B'C'$ .

c) Tính và so sánh các tỉ số:  $\frac{AB'}{AB}$ ,  $\frac{AC'}{AC}$  và  $\frac{B'C'}{BC}$ .



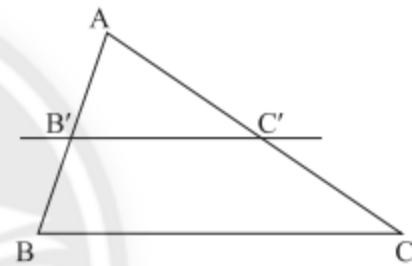
Hình 9

### Hệ quả của định lí Thalès



Nếu một đường thẳng cắt hai cạnh của một tam giác và song song với cạnh thứ ba thì tạo ra một tam giác mới có ba cạnh tương ứng tỉ lệ với ba cạnh của tam giác đã cho.

GT	$\Delta ABC, B'C' \parallel BC (B' \in AB, C' \in AC)$
KL	$\frac{AB'}{AB} = \frac{AC'}{AC} = \frac{B'C'}{BC}$ .



Hình 10

**Ví dụ 4.** Hãy tính  $EF$  trong Hình 11. Cho biết  $MN \parallel EF$ .

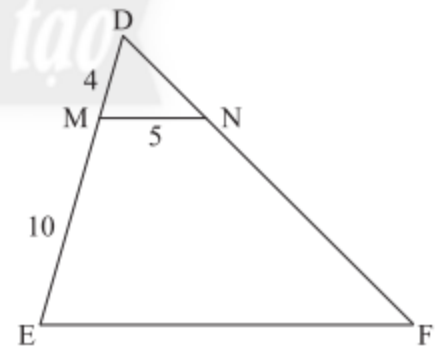
*Giải*

Trong tam giác  $DEF$ , ta có  $MN \parallel EF$ .

Theo hệ quả của định lí Thalès, ta có:

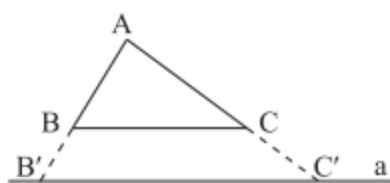
$$\frac{DM}{DE} = \frac{MN}{EF}. \text{ Suy ra } \frac{4}{14} = \frac{5}{EF}.$$

$$\text{Vậy } EF = \frac{5 \cdot 14}{4} = 17,5.$$

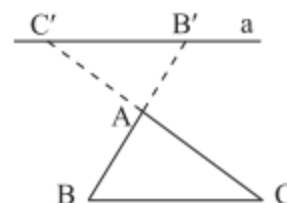


Hình 11

**Chú ý:** Hệ quả của định lí Thalès vẫn đúng cho trường hợp đường thẳng  $a$  song song với một cạnh của tam giác và cắt phần kéo dài của hai cạnh còn lại (Hình 12).



a)

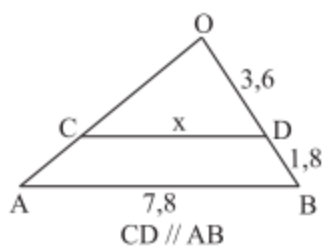


b)

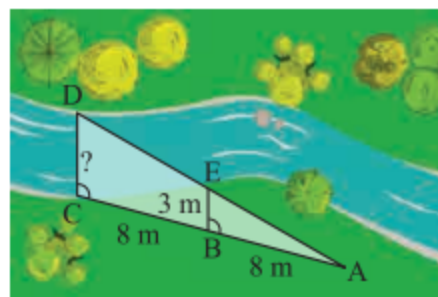
Hình 12



**Thực hành 4.** Tìm độ dài  $x$  trên Hình 13.



Hình 13



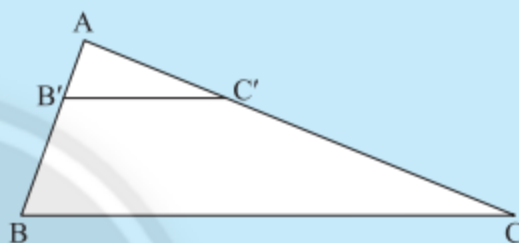
Hình 14

**Vận dụng 2.** Với số liệu đo đạc được ghi trên Hình 14, hãy tính bề rộng  $CD$  của con kênh.



**5** Cho tam giác  $ABC$  có  $AB = 6$  cm,  $AC = 15$  cm. Trên  $AB$ ,  $AC$  lần lượt lấy  $B'$ ,  $C'$  sao cho  $AB' = 2$  cm,  $AC' = 5$  cm.

- Tính các tỉ số  $\frac{AB'}{AB}$  và  $\frac{AC'}{AC}$ .
- Qua  $B'$  vẽ đường thẳng song song với  $BC$  cắt  $AC$  tại  $E$ . Tính  $AE$ .
- So sánh  $AE$  và  $AC'$ .
- Hãy nhận xét về vị trí của  $E$  và  $C'$ , vị trí của hai đường thẳng  $B'C'$  và  $B'E$ .



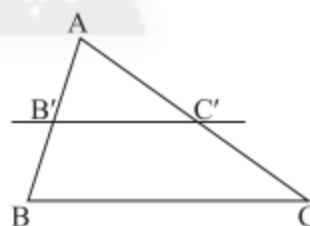
Hình 15

### Định lí Thalès đảo



Nếu một đường thẳng cắt hai cạnh của một tam giác và định ra trên hai cạnh này những đoạn thẳng tương ứng tỉ lệ thì đường thẳng đó song song với cạnh còn lại của tam giác.

GT	$\Delta ABC, B' \in AB, C' \in AC$ $\frac{AB'}{B'B} = \frac{AC'}{C'C}$
KL	$B'C' \parallel BC$



Hình 16

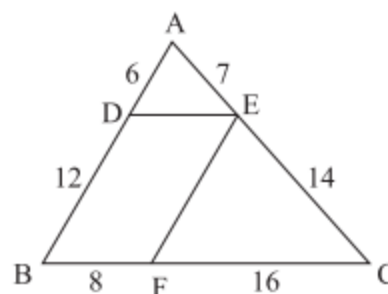
**Ví dụ 5.** Quan sát Hình 17. Chứng minh rằng  $DE \parallel BC$  và  $EF \parallel AB$ .

*Giải*

Ta có  $\frac{AD}{DB} = \frac{6}{12} = \frac{1}{2}$  và  $\frac{AE}{EC} = \frac{7}{14} = \frac{1}{2}$ , suy ra  $\frac{AD}{DB} = \frac{AE}{EC}$ .

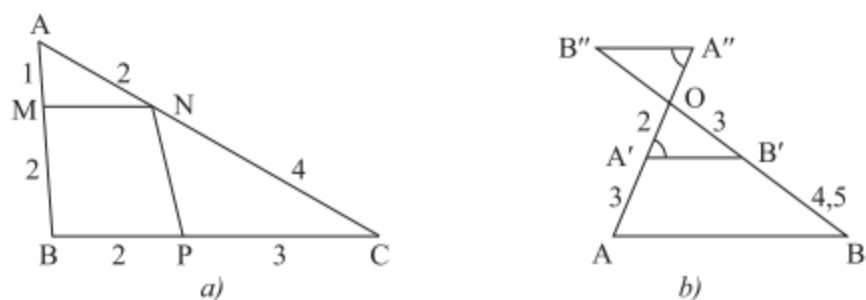
Theo định lí Thalès đảo trong  $\Delta ABC$ , ta có  $DE \parallel BC$ .

Tương tự, ta cũng có  $\frac{CE}{EA} = \frac{CF}{FB}$ . Suy ra  $EF \parallel AB$ .



Hình 17

**Thực hành 5.** Hãy chỉ ra các cặp đường thẳng song song với nhau trong mỗi hình dưới đây.



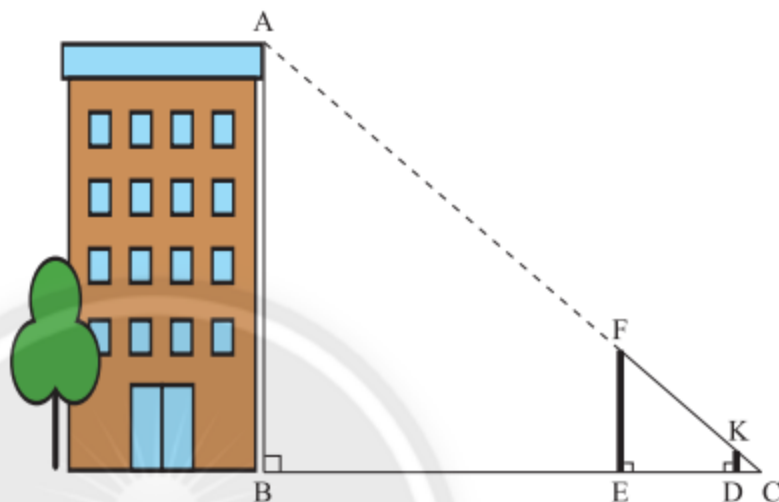
Hình 18

**Vận dụng 3.** Đo chiều cao AB của một toà nhà bằng hai cây cọc FE, DK, một sợi dây và một thước cuộn như sau:

– Đặt cọc FE cố định, di chuyển cọc DK sao cho nhìn thấy K, F, A thẳng hàng.

– Căng thẳng dây FC đi qua K và cắt mặt đất tại C.

– Đo khoảng cách BC và DC trên mặt đất.

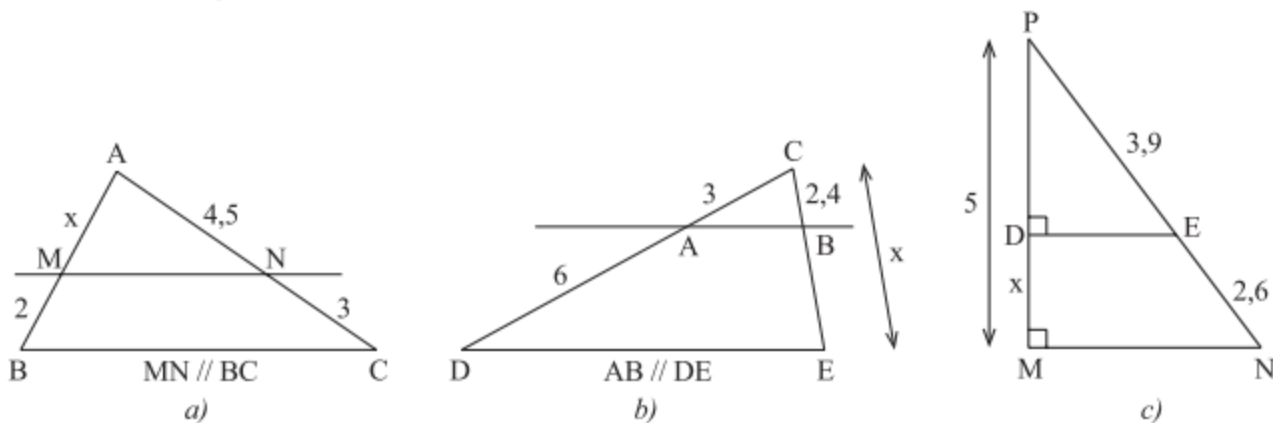


Hình 19

Cho biết  $DK = 1\text{ m}$ ,  $BC = 24\text{ m}$ ,  $DC = 1,2\text{ m}$ . Tính chiều cao AB của toà nhà.

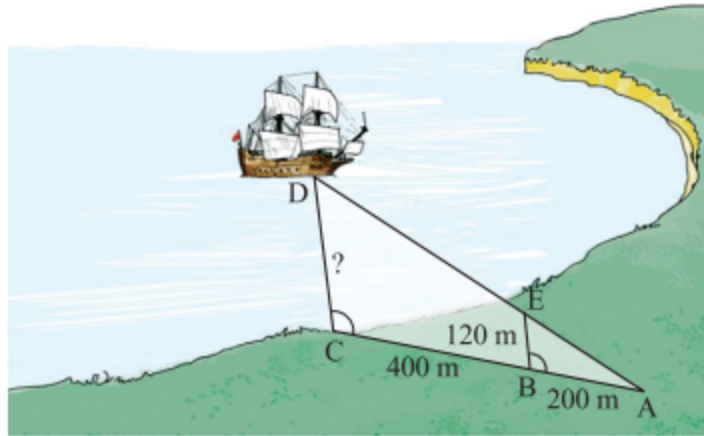
## BÀI TẬP

- Hãy đo chiều dài và chiều rộng cái bàn học của em và tính tỉ số giữa hai kích thước này.
  - Quãng đường từ Thành phố Hồ Chí Minh đi Mỹ Tho là 70 km, quãng đường từ Thành phố Hồ Chí Minh đi Cà Mau là 350 km. Tính tỉ số giữa hai quãng đường này.
  - Cho biết  $\frac{AB}{CD} = \frac{3}{5}$  và  $AB = 6\text{ cm}$ . Hãy tính CD.
- Tìm x trong Hình 20.



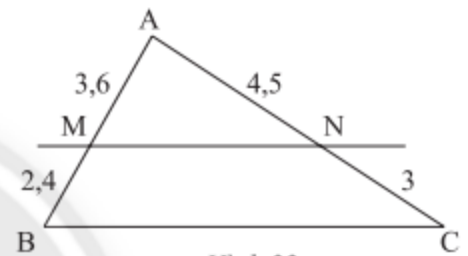
Hình 20

3. Với số liệu được ghi trên Hình 21. Hãy tính khoảng cách CD từ con tàu đến trạm quan trắc đặt tại điểm C.



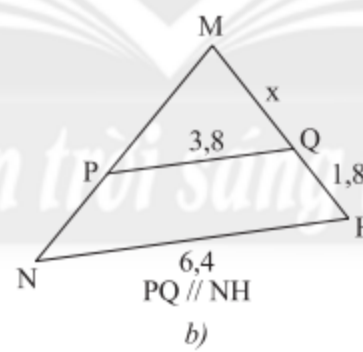
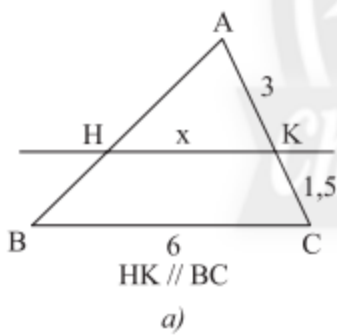
Hình 21

4. Quan sát Hình 22, chứng minh rằng  $MN \parallel BC$ .

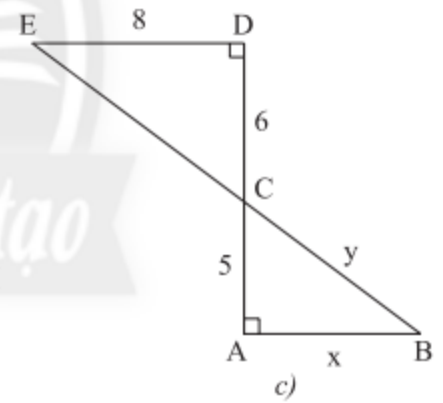


Hình 22

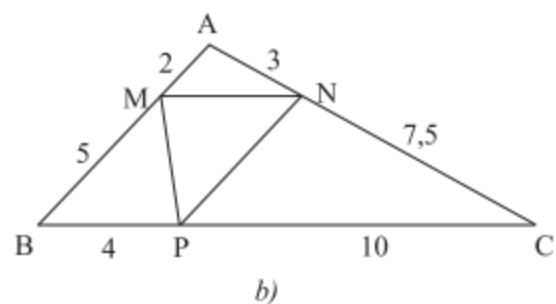
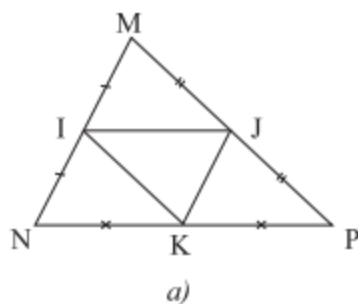
5. Tính các độ dài x, y trong Hình 23.



Hình 23



6. Quan sát Hình 24, chỉ ra các cặp đường thẳng song song và chứng minh điều ấy.



Hình 24

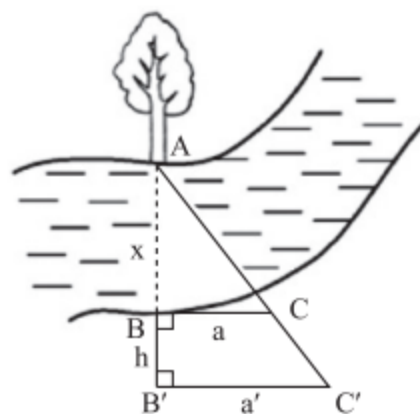
7. Cho hình thang ABCD ( $AB \parallel CD$ ) có hai đường chéo AC và BD cắt nhau tại O.

Chứng minh rằng:  $OA \cdot OD = OB \cdot OC$ .

8. Cho hình thang ABCD ( $AB \parallel CD$ ). Đường thẳng song song với AB cắt AD, BD, AC và BC theo thứ tự tại các điểm M, N, P, Q.

Chứng minh rằng  $MN = PQ$ .

9. Quan sát Hình 25 và chứng minh  $x = \frac{ah}{a' - a}$ .



Hình 25

## Em có biết?

### KIM TỰ THÁP CAO BAO NHIÊU?

Thalès, một trong bảy nhà hiền triết của Hy Lạp, sống ở thành phố Milet khoảng từ năm 625 đến 547 trước Công nguyên. Ông có những công trình vĩ đại về Toán học, Thiên văn học, Triết học, Chính trị, Khoa học tự nhiên. Vào hơn 2600 năm trước có một quốc vương Ai Cập, vì muốn biết Kim tự tháp lớn có độ cao chính xác là bao nhiêu, đã nhờ Thalès đo đạc giúp. Khi đến hẹn, ông chỉ mang theo một cái cọc và một cây thước. Mọi người rất thất vọng và bàn tán xôn xao vì họ không tin rằng chỉ với dụng cụ đơn sơ như thế mà có thể đo được chiều cao của một kim tự tháp khổng lồ. Tuy nhiên, ông vẫn thản nhiên, cắm cọc xuống đất (Hình 26) rồi lần lượt đo chiều cao của cái cọc, bóng của cái cọc và bóng của kim tự tháp. Như trong Hình 26 thì ông sẽ có số đo của d, OA và OB, từ đó ông tính được x, tức chiều cao của kim tự tháp.

Chiều cao của kim tự tháp được tính như sau:

$$\frac{x}{d} = \frac{OB}{OA}, \text{ suy ra } x = d \cdot \frac{OB}{OA}.$$

(Nguồn: <https://www.britannica.com/summary/Thales-of-Miletus>.)



Hình 26

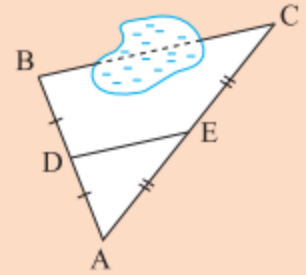


### Sau bài học này, em đã làm được những gì?

- Giải thích được định lý Thalès trong tam giác (định lý thuận và đảo).
- Tính được độ dài đoạn thẳng bằng cách sử dụng định lý Thalès. Giải quyết được một số vấn đề thực tiễn gắn với việc vận dụng định lý Thalès (ví dụ: tính khoảng cách giữa hai vị trí, ...).



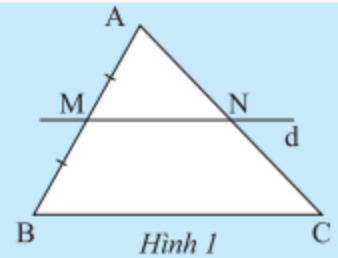
Giữa hai điểm B và C có một hồ nước (xem hình bên). Biết  $DE = 45$  m. Làm thế nào để tính được khoảng cách giữa hai điểm B và C?



**1. ĐƯỜNG TRUNG BÌNH CỦA TAM GIÁC**



1 Cho tam giác ABC, vẽ đường thẳng d đi qua trung điểm M của cạnh AB, song song với cạnh BC và cắt AC tại N (Hình 1). Hãy chứng minh N là trung điểm của AC.

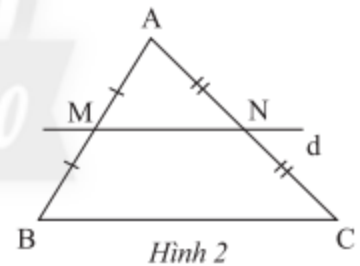


*Chú ý:* Đường thẳng đi qua trung điểm một cạnh của tam giác và song song với cạnh thứ hai thì đi qua trung điểm cạnh thứ ba.



Đường trung bình của tam giác là đoạn thẳng nối trung điểm hai cạnh của tam giác.

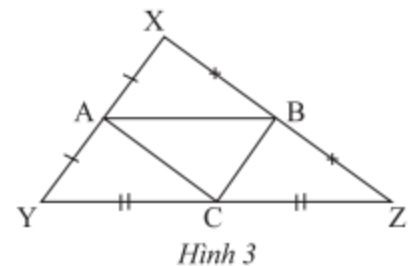
Trong Hình 2, đoạn MN là đường trung bình của tam giác ABC.



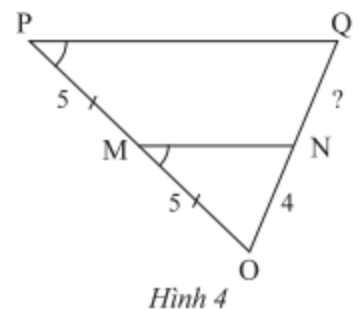
**Ví dụ 1.** Trong Hình 3, tìm các đường trung bình của tam giác XYZ.

*Giải*

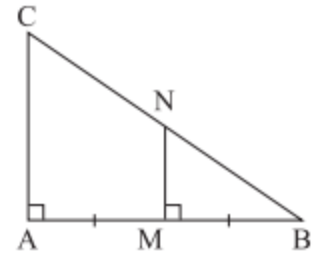
Vì A, B lần lượt là trung điểm của XY và XZ nên AB là đường trung bình của tam giác XYZ. Tương tự, ta cũng có BC và CA là các đường trung bình của tam giác XYZ.



**Thực hành 1.** Tìm độ dài đoạn thẳng NQ trong Hình 4.



**Vận dụng 1.** Trong Hình 5, chứng minh MN là đường trung bình của tam giác ABC.



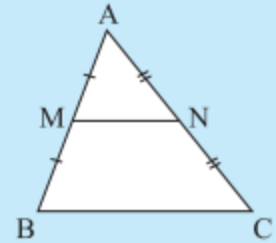
Hình 5

## 2. TÍNH CHẤT CỦA ĐƯỜNG TRUNG BÌNH



2 Cho M, N lần lượt là trung điểm của hai cạnh AB và AC của tam giác ABC.

- Tính các tỉ số  $\frac{AM}{AB}$ ,  $\frac{AN}{AC}$ ;
- Chứng minh  $MN \parallel BC$ ;
- Chứng minh  $\frac{MN}{BC} = \frac{1}{2}$ .



Hình 6



Đường trung bình của tam giác thì song song với cạnh thứ ba và bằng nửa cạnh ấy.

**Ví dụ 2.** Trong Hình 7, cho biết  $OP = 12$  cm và các điểm R, S, T, U lần lượt là trung điểm các cạnh OX, PX, OY, PY.

- Chứng minh  $RS \parallel TU$ .
- Tính độ dài RS và TU.



Hình 7

*Giải*

a) Trong  $\Delta OPX$ , ta có R là trung điểm của OX và S là trung điểm của PX, nên RS là đường trung bình của  $\Delta OPX$ . Suy ra  $RS \parallel OP$ . (1)

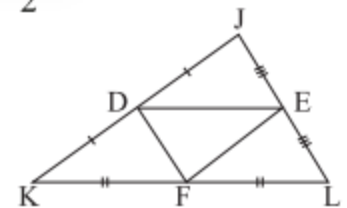
Tương tự, ta chứng minh được TU là đường trung bình của  $\Delta OPY$ . Suy ra  $TU \parallel OP$ . (2)

Từ (1) và (2) suy ra  $RS \parallel TU$ .

b) Theo tính chất của đường trung bình ta có:  $RS = TU = \frac{OP}{2} = \frac{12}{2} = 6$  (cm).

**Thực hành 2.** Trong Hình 8, cho biết  $JK = 10$  cm,  $DE = 6,5$  cm,  $EL = 3,7$  cm. Tính DJ, EF, DF, KL.

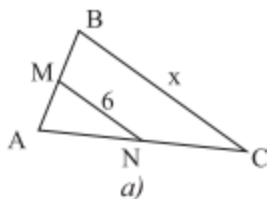
**Vận dụng 2.** Hãy tính khoảng cách BC trong phần (trang 52).



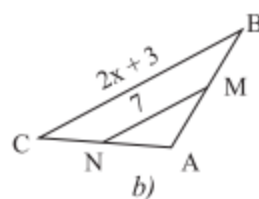
Hình 8

## BÀI TẬP

1. Cho MN là đường trung bình của mỗi tam giác ABC trong Hình 9. Hãy tìm giá trị x trong mỗi hình.

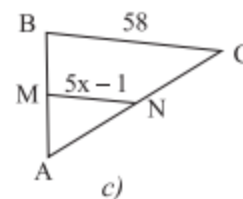


a)



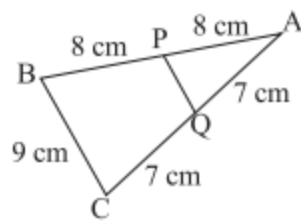
b)

Hình 9

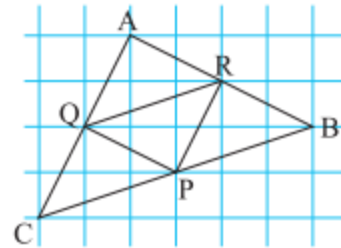


c)

2. Tính độ dài đoạn PQ (Hình 10).



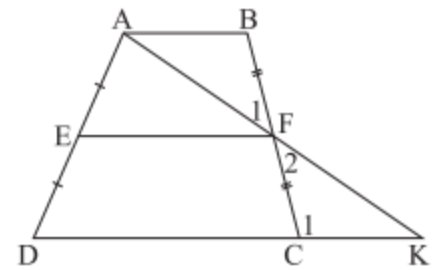
Hình 10



Hình 11

3. Cho biết cạnh mỗi ô vuông bằng 1 cm. Tính độ dài các đoạn PQ, PR, RQ, AB, BC, CA trong Hình 11.

4. Cho hình thang ABCD ( $AB \parallel CD$ ) có E và F lần lượt là trung điểm hai cạnh bên AD và BC. Gọi K là giao điểm của AF và DC (Hình 12).



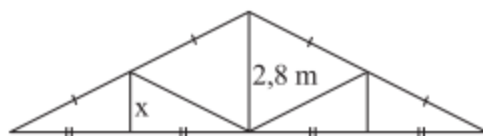
Hình 12

- a) Tam giác FBA và tam giác FCK có bằng nhau không? Vì sao?  
 b) Chứng minh  $EF \parallel CD \parallel AB$ .  
 c) Chứng minh  $EF = \frac{AB + CD}{2}$ .

5. Cho tam giác ABC nhọn. Gọi M, N, P lần lượt là trung điểm của AB, AC, BC. Kẻ đường cao AH. Chứng minh rằng tứ giác MNPH là hình thang cân.

6. Một mái nhà được vẽ lại như Hình 13. Tính độ dài x trong hình mái nhà.

7. Ảnh chụp từ Google Maps của một trường học được cho trong Hình 14. Hãy tính chiều dài cạnh DE, cho biết  $BC = 232$  m và B, C lần lượt là trung điểm của AD và AE.



Hình 13



Hình 14

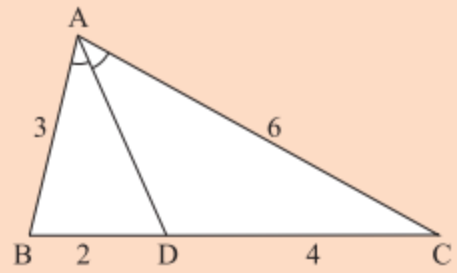


**Sau bài học này, em đã làm được những gì?**

- Mô tả được định nghĩa đường trung bình của tam giác.
- Giải thích được tính chất đường trung bình của tam giác (đường trung bình của tam giác thì song song với cạnh thứ ba và bằng nửa cạnh đó).
- Biết vận dụng tính chất của đường trung bình của tam giác trong giải toán và giải quyết một số vấn đề thực tế.



Đường phân giác AD của tam giác ABC chia cạnh đối diện BC thành hai đoạn tỉ lệ với hai đoạn thẳng nào trong hình?

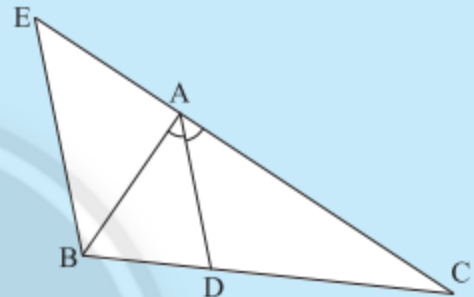


**1. TÍNH CHẤT ĐƯỜNG PHÂN GIÁC CỦA TAM GIÁC**



Cho tam giác ABC có đường phân giác AD. Vẽ đường thẳng qua B song song với AD và cắt đường thẳng AC tại E (Hình 1). Hãy giải thích tại sao:

- a) Tam giác BAE cân tại A.
- b)  $\frac{DB}{DC} = \frac{AE}{AC} = \frac{AB}{AC}$ .



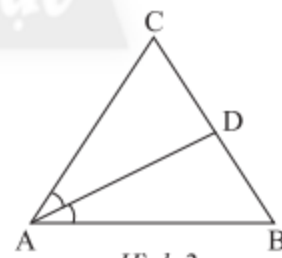
Hình 1

**Định lí**



Trong tam giác, đường phân giác của một góc chia cạnh đối diện thành hai đoạn thẳng tỉ lệ với hai cạnh kề hai đoạn ấy.

GT	AD là đường phân giác của góc A trong $\Delta ABC$ , $D \in BC$
KL	$\frac{DB}{DC} = \frac{AB}{AC}$



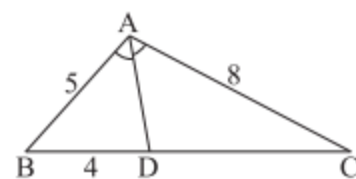
Hình 2

**Ví dụ 1.** Cho tam giác ABC có  $AB = 5$  cm,  $AC = 8$  cm. Đường phân giác của góc A cắt BC tại D. Biết  $DB = 4$  cm, tính DC.

*Giải*

Trong tam giác ABC, ta có AD là đường phân giác của  $\widehat{CAB}$ , suy ra  $\frac{DB}{DC} = \frac{AB}{AC}$  nên  $\frac{4}{DC} = \frac{5}{8}$ .

Suy ra  $DC = \frac{4 \cdot 8}{5} = 6,4$  (cm).



Hình 3



## 2. ỨNG DỤNG TÍNH CHIA TỈ LỆ CỦA ĐƯỜNG PHÂN GIÁC CỦA TAM GIÁC

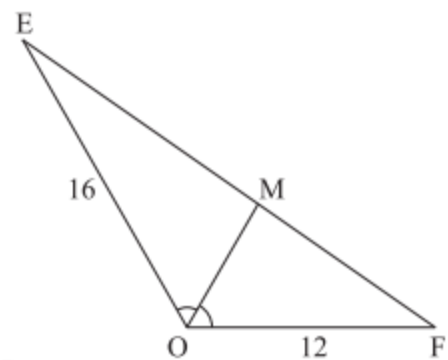
Ta có thể vận dụng tính chất của đường phân giác trong tam giác để tính tỉ lệ các đoạn thẳng hoặc khoảng cách.

**Ví dụ 2.** Cho tam giác OEF như trong Hình 4. Tính tỉ số hai đoạn thẳng ME và MF.

*Giải*

Ta có OM là đường phân giác của  $\widehat{EOF}$  trong tam giác OEF, suy ra:

$$\frac{ME}{MF} = \frac{OE}{OF} = \frac{16}{12} = \frac{4}{3}.$$



Hình 4

**Ví dụ 3.** Tính độ dài các đoạn BZ, UC, UZ trong Hình 5.

*Giải*

Tam giác BCZ vuông tại C nên ta có:

$$BZ = \sqrt{BC^2 + CZ^2} = \sqrt{64 + 36} = 10.$$

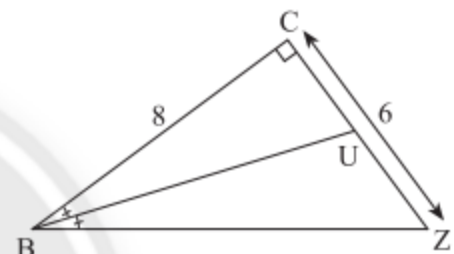
Ta có BU là đường phân giác của  $\widehat{CBZ}$  trong tam giác BCZ, suy ra:

$$\frac{UC}{UZ} = \frac{BC}{BZ} = \frac{8}{10} = \frac{4}{5}. \quad (1)$$

Ta lại có CZ = 6. (2)

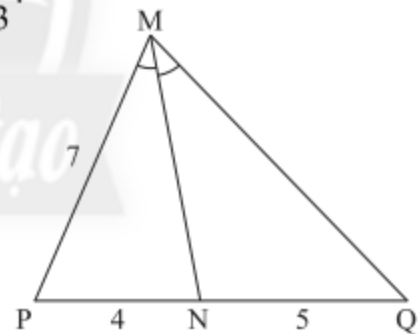
$$\text{Từ (1) và (2), ta có } \frac{UC}{4} = \frac{UZ}{5} = \frac{UC + UZ}{4 + 5} = \frac{CZ}{9} = \frac{6}{9} = \frac{2}{3}.$$

$$\text{Suy ra } UC = 4 \cdot \frac{2}{3} = \frac{8}{3}; \quad UZ = 5 \cdot \frac{2}{3} = \frac{10}{3}.$$



Hình 5

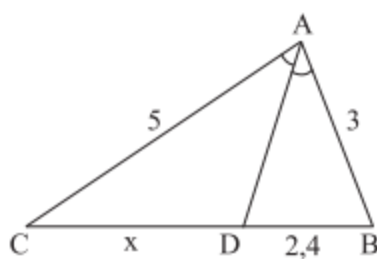
**Thực hành.** Tính độ dài cạnh MQ của tam giác MPQ trong Hình 6.



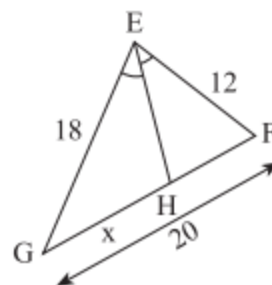
Hình 6

## BÀI TẬP

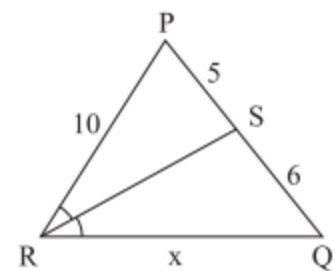
1. Tính độ dài x trong Hình 7.



a)



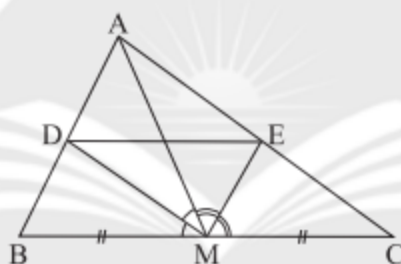
b)



c)

Hình 7

2. Tam giác ABC có  $AB = 6$  cm,  $AC = 8$  cm,  $BC = 10$  cm. Đường phân giác của góc BAC cắt cạnh BC tại D.
  - a) Tính độ dài các đoạn thẳng DB và DC.
  - b) Tính tỉ số diện tích giữa  $\triangle ADB$  và  $\triangle ADC$ .
3. Tam giác ABC có  $AB = 15$  cm,  $AC = 20$  cm,  $BC = 25$  cm. Đường phân giác của góc BAC cắt BC tại D. Qua D vẽ  $DE \parallel AB$  ( $E \in AC$ ).
  - a) Tính độ dài các đoạn thẳng DB, DC và DE.
  - b) Chứng minh ABC là tam giác vuông. Tính diện tích tam giác ABC.
  - c) Tính diện tích các tam giác ADB, ADE và DCE.
4. Cho tam giác ABC vuông tại A có  $AB = 3$  cm,  $AC = 4$  cm. Đường phân giác của góc A cắt BC tại D.
  - a) Tính BC, DB, DC.
  - b) Vẽ đường cao AH. Tính AH, HD và AD.
5. Cho tam giác ABC có trung tuyến AM. Đường phân giác của góc AMB cắt AB tại D và đường phân giác của góc AMC cắt AC tại E (Hình 8). Chứng minh  $DE \parallel BC$ .



Hình 8

*Chân trời sáng tạo*



**Sau bài học này, em đã làm được những gì?**

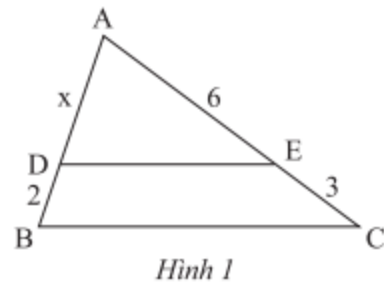
- Giải thích được tính chất đường phân giác của tam giác.
- Giải quyết được một số vấn đề thực tiễn gắn với tính chất đường phân giác của tam giác.

## BÀI TẬP CUỐI CHƯƠNG 7

### CÂU HỎI TRẮC NGHIỆM

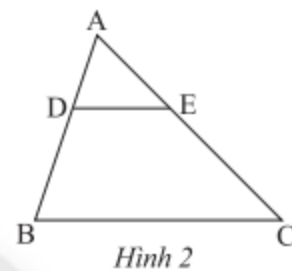
Chọn phương án đúng.

1. Cho tam giác ABC, biết  $DE \parallel BC$  và  $AE = 6 \text{ cm}$ ,  $EC = 3 \text{ cm}$ ,  $DB = 2 \text{ cm}$  (Hình 1). Độ dài đoạn thẳng AD là
- A. 4 cm.                      B. 3 cm.  
C. 5 cm.                      D. 3,5 cm.

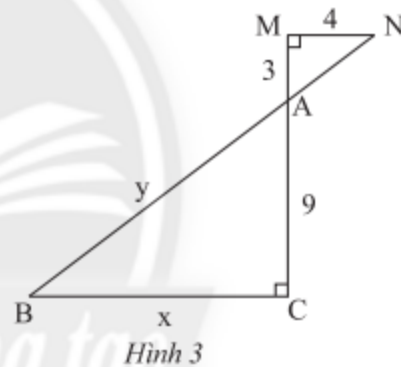


2. Cho tam giác ABC, biết  $DE \parallel BC$  (Hình 2). Trong các khẳng định sau, khẳng định nào sai?

- A.  $\frac{AD}{DB} = \frac{AE}{EC}$ .      B.  $\frac{AD}{AB} = \frac{AE}{AC}$ .  
C.  $\frac{AE}{AC} = \frac{DE}{BC}$ .      D.  $\frac{DB}{AB} = \frac{DE}{BC}$ .



3. Cho Hình 3, biết  $AM = 3 \text{ cm}$ ,  $MN = 4 \text{ cm}$ ,  $AC = 9 \text{ cm}$ . Giá trị của biểu thức  $x - y$  là
- A. 4.                          B. -3.  
C. 3.                          D. -4.

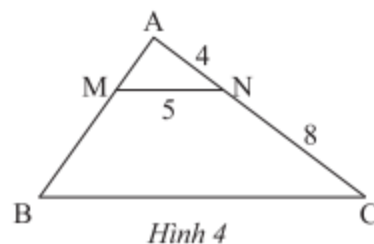


4. Cho tam giác MNP có MD là tia phân giác của góc M ( $D \in NP$ ). Trong các khẳng định sau, khẳng định nào đúng?

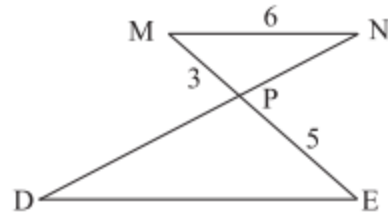
- A.  $\frac{DN}{MN} = \frac{DP}{MP}$ .      B.  $\frac{DN}{MN} = \frac{MP}{DP}$ .      C.  $\frac{DN}{MN} = \frac{MP}{DP}$ .      D.  $\frac{MN}{MP} = \frac{DP}{DN}$ .

5. Cho hai đoạn thẳng  $AB = 12 \text{ cm}$  và  $CD = 18 \text{ cm}$ . Tỉ số của hai đoạn thẳng AB và CD là
- A.  $\frac{4}{3}$ .                          B.  $\frac{3}{4}$ .                          C.  $\frac{2}{3}$ .                          D.  $\frac{3}{2}$ .

6. Cho Hình 4, biết  $MN \parallel BC$ ,  $AN = 4 \text{ cm}$ ,  $NC = 8 \text{ cm}$ ,  $MN = 5 \text{ cm}$ . Độ dài cạnh BC là
- A. 10 cm.                      B. 20 cm.  
C. 15 cm.                      D. 16 cm.



7. Cho Hình 5, biết  $MN \parallel DE$ ,  $MN = 6$  cm,  $MP = 3$  cm,  $PE = 5$  cm. Độ dài đoạn thẳng  $DE$  là
- A. 6 cm.                      B. 5 cm.  
C. 8 cm.                      D. 10 cm.



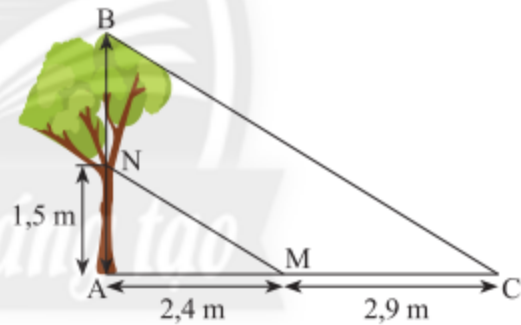
Hình 5

8. Cho  $\Delta ABC$ , một đường thẳng song song với  $BC$  cắt  $AB$  và  $AC$  lần lượt tại  $D$  và  $E$ . Qua  $E$  kẻ đường thẳng song song với  $CD$  cắt  $AB$  tại  $F$ . Biết  $AB = 25$  cm,  $AF = 9$  cm,  $EF = 12$  cm, độ dài đoạn  $DC$  là
- A. 25 cm.                      B. 20 cm.                      C. 15 cm.                      D. 12 cm.
9. Cho  $\Delta ABC$  biết  $AM$  là đường phân giác. Trong các khẳng định sau, khẳng định nào đúng?
- A.  $\frac{BM}{MC} = \frac{AB}{AC}$ .      B.  $\frac{AB}{MC} = \frac{BM}{AC}$ .      C.  $\frac{AM}{MC} = \frac{AB}{AC}$ .      D.  $\frac{BM}{MC} = \frac{AM}{AC}$ .

### BÀI TẬP TỰ LUẬN

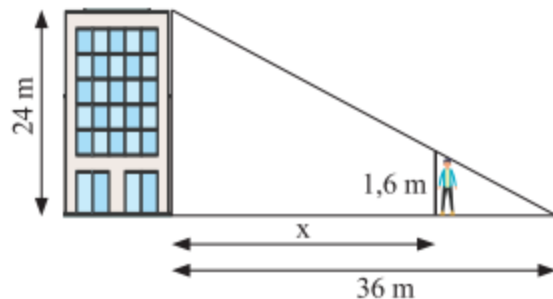
10. Cho tam giác  $ABC$  và điểm  $D$  trên cạnh  $AB$  sao cho  $AD = 13,5$  cm,  $DB = 4,5$  cm. Tính tỉ số các khoảng cách từ các điểm  $D$  và  $B$  đến cạnh  $AC$ .

11. a) Độ cao  $AN$  và chiều dài bóng nắng của các đoạn thẳng  $AN$ ,  $BN$  trên mặt đất được ghi lại như trong Hình 6. Tìm chiều cao  $AB$  của cái cây.



Hình 6

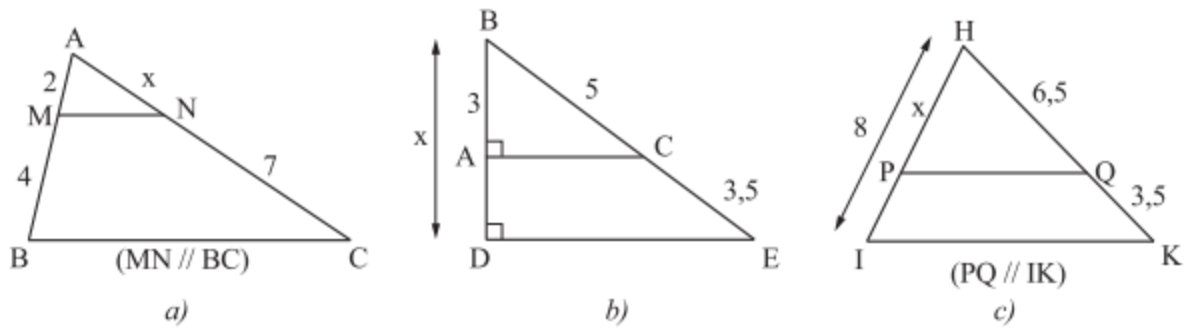
- b) Một toà nhà cao 24 m, độ bóng nắng dài 36 m trên đường như Hình 7. Một người cao 1,6 m muốn đứng trong bóng râm của toà nhà. Hỏi người đó có thể đứng cách toà nhà xa nhất bao nhiêu mét?



Hình 7

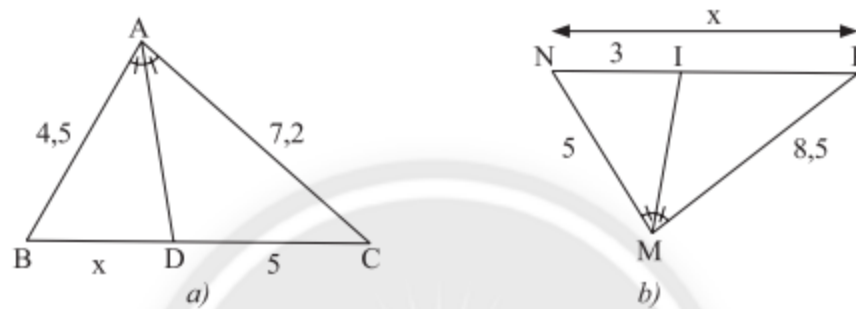
12. Cho tam giác  $ABC$  có  $BC$  bằng 30 cm. Trên đường cao  $AH$  lấy các điểm  $K$ ,  $I$  sao cho  $AK = KI = IH$ . Qua  $I$  và  $K$  vẽ các đường  $EF \parallel BC$ ,  $MN \parallel BC$  ( $E, M \in AB$ ;  $F, N \in AC$ ).
- a) Tính độ dài các đoạn thẳng  $MN$  và  $EF$ .
- b) Tính diện tích tứ giác  $MNFE$  biết rằng diện tích tam giác  $ABC$  là  $10,8$   $dm^2$ .

13. Tính độ dài  $x$  trong Hình 8.



Hình 8

14. Tính độ dài  $x$  trong Hình 9.



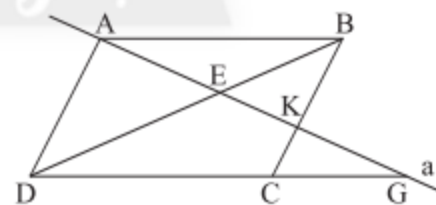
Hình 9

15. Cho tứ giác ABCD có AC và BD cắt nhau tại O. Qua O, kẻ đường thẳng song song với BC cắt AB tại E, kẻ đường thẳng song song với CD cắt AD tại F.

- Chứng minh  $FE \parallel BD$ ;
- Từ O kẻ đường thẳng song song với AB cắt BC tại G và đường thẳng song song với AD cắt CD tại H. Chứng minh rằng  $CG \cdot DH = BG \cdot CH$ .

16. Cho hình bình hành ABCD. Đường thẳng  $a$  đi qua A cắt BD, BC, DC lần lượt tại E, K, G (Hình 10). Chứng minh rằng:

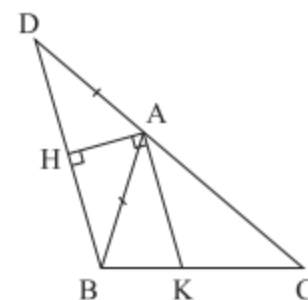
- $AE^2 = EK \cdot EG$ ;
- $\frac{1}{AE} = \frac{1}{AK} + \frac{1}{AG}$ .



Hình 10

17. a) Quan sát Hình 11, chứng minh AK là đường phân giác của góc A trong tam giác ABC.

- Dựa vào kết quả của câu a, hãy nêu cách vẽ đường phân giác của một góc trong tam giác bằng thước kẻ và êke.



Hình 11

## Chương

# 8

## HÌNH ĐỒNG DẠNG

Chương này giới thiệu những hình có hình dạng giống nhau nhưng kích thước có thể khác nhau, đó là những hình đồng dạng; giúp các em giải thích được các trường hợp đồng dạng của hai tam giác; đồng thời nhận biết được hình đồng dạng phối cảnh, hình đồng dạng qua hình ảnh cụ thể; cảm nhận được vẻ đẹp của hình đồng dạng trong thế giới tự nhiên, trong kiến trúc và trong nghệ thuật.



Hình ảnh những con chim cánh cụt giống nhau về hình dạng, xinh đẹp và đáng yêu cho ta cảm nhận được vẻ đẹp của hình đồng dạng trong thế giới tự nhiên.

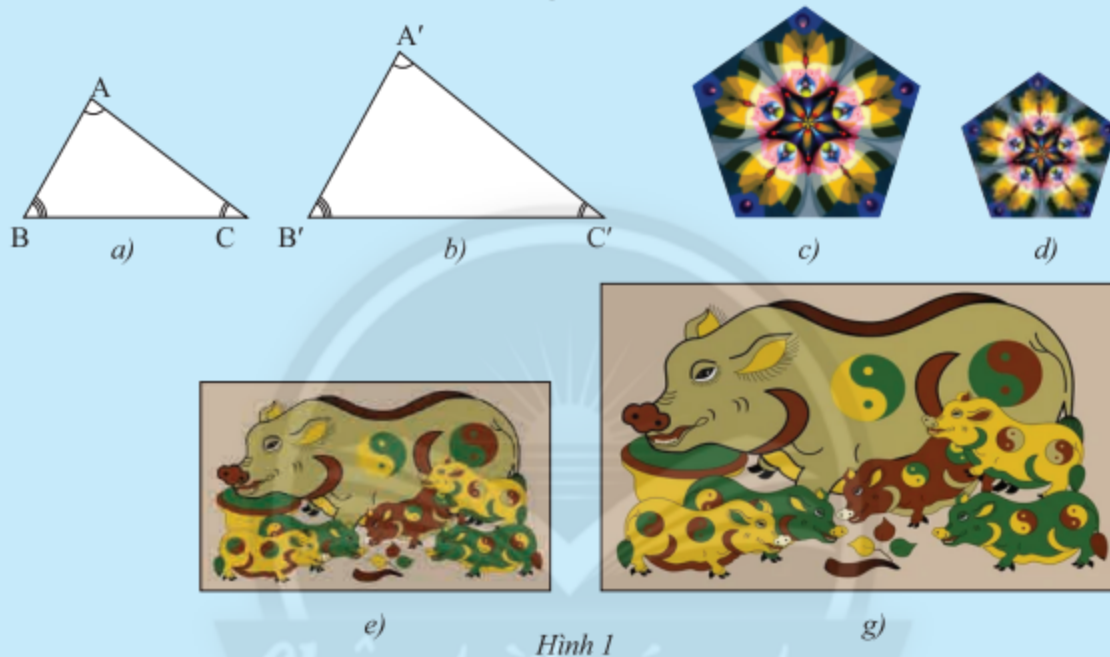


Hai tam giác có ba cạnh bằng nhau thì bằng nhau. Còn hai tam giác có ba góc bằng nhau thì có bằng nhau không?

### 1. TAM GIÁC ĐỒNG DẠNG



1 Nêu nhận xét về hình dạng và kích thước của từng cặp hình: Hình 1a và Hình 1b, Hình 1c và Hình 1d, Hình 1e và Hình 1g.



Hình 1

Hai hình trong mỗi cặp hình của  gọi là hai hình đồng dạng. Trong bài này, ta chỉ xét các tam giác đồng dạng.

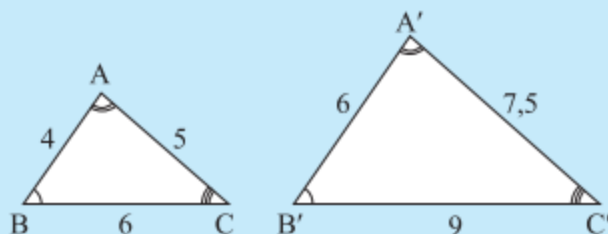


2 Cho tam giác ABC và tam giác A'B'C' như Hình 2.

a) Hãy viết các cặp góc bằng nhau.

b) Tính và so sánh các tỉ số

$$\frac{A'B'}{AB}, \frac{A'C'}{AC}, \frac{B'C'}{BC}.$$



Hình 2



Tam giác A'B'C' gọi là đồng dạng với tam giác ABC nếu:

$$\widehat{A'} = \widehat{A}; \widehat{B'} = \widehat{B}; \widehat{C'} = \widehat{C} \text{ và } \frac{A'B'}{AB} = \frac{A'C'}{AC} = \frac{B'C'}{BC}.$$

Tam giác  $A'B'C'$  đồng dạng với tam giác  $ABC$  được kí hiệu là  $\Delta A'B'C' \sim \Delta ABC$  (các đỉnh được viết theo thứ tự tương ứng).

Tỉ số các cạnh tương ứng  $\frac{A'B'}{AB} = \frac{A'C'}{AC} = \frac{B'C'}{BC} = k$  gọi là *tỉ số đồng dạng*.

**Ví dụ 1.** Ở Hình 2 trong ,  $\Delta A'B'C' \sim \Delta ABC$  với tỉ số đồng dạng là bao nhiêu?

*Giải*  
 $\Delta A'B'C' \sim \Delta ABC$  với tỉ số đồng dạng  $k = \frac{A'B'}{AB} = \frac{6}{4} = \frac{3}{2}$ .

**Ví dụ 2.** Cho biết  $\Delta MNP \sim \Delta ABC$ .

a) Hãy viết các cặp góc bằng nhau.

b) Cho  $MN = 15$  cm,  $AB = 6$  cm, tính tỉ số  $\frac{MP}{AC}$ .

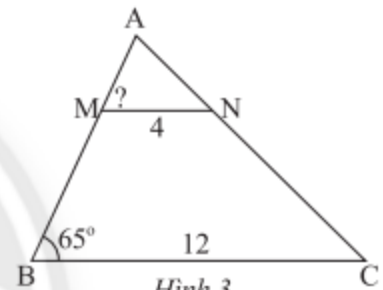
*Giải*  
 a) Vì  $\Delta MNP \sim \Delta ABC$  nên  $\widehat{M} = \widehat{A}$ ,  $\widehat{N} = \widehat{B}$ ,  $\widehat{P} = \widehat{C}$ .

b) Vì  $\Delta MNP \sim \Delta ABC$  nên  $\frac{MP}{AC} = \frac{MN}{AB} = \frac{15}{6} = \frac{5}{2}$ .

**Thực hành 1.** Quan sát Hình 3, cho biết  $\Delta AMN \sim \Delta ABC$ .

a) Hãy viết tỉ số của các cạnh tương ứng và tính tỉ số đồng dạng.

b) Tính  $\widehat{AMN}$ .



Hình 3

## 2. TÍNH CHẤT



**3** a) Nếu  $\Delta A'B'C' = \Delta ABC$  thì tam giác  $A'B'C'$  có đồng dạng với tam giác  $ABC$  không? Tỉ số đồng dạng là bao nhiêu?

b) Cho  $\Delta A'B'C' \sim \Delta ABC$  theo tỉ số  $k$  thì  $\Delta ABC \sim \Delta A'B'C'$  theo tỉ số nào?

Ta có các tính chất đơn giản của hai tam giác đồng dạng:

Tính chất 1: Mỗi tam giác đồng dạng với chính nó theo tỉ số  $k = 1$ .

Tính chất 2: Nếu  $\Delta A'B'C' \sim \Delta ABC$  theo tỉ số  $k$  thì  $\Delta ABC \sim \Delta A'B'C'$  theo tỉ số  $\frac{1}{k}$ .

Ta nói  $\Delta A'B'C'$  và  $\Delta ABC$  *đồng dạng* với nhau.

Tính chất 3: Nếu  $\Delta A'B'C' \sim \Delta A''B''C''$  và  $\Delta A''B''C'' \sim \Delta ABC$  thì  $\Delta A'B'C' \sim \Delta ABC$ .

**Ví dụ 3.** Cho  $\Delta MNP \sim \Delta DEF$  và  $\Delta DEF \sim \Delta ABC$ , biết  $\widehat{M} = 48^\circ$ . Tính  $\widehat{A}$ .

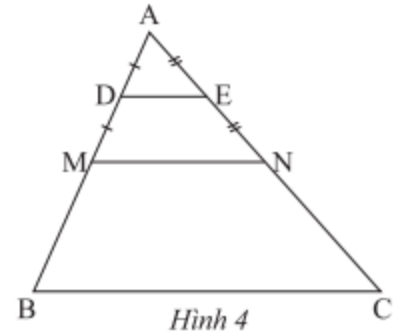
*Giải*

Ta có  $\Delta MNP \sim \Delta DEF$  và  $\Delta DEF \sim \Delta ABC$ , nên  $\Delta MNP \sim \Delta ABC$ .

Do đó  $\widehat{M} = \widehat{A}$ . Vì  $\widehat{M} = 48^\circ$ , suy ra  $\widehat{A} = 48^\circ$ .



**Thực hành 2.** Quan sát Hình 4, cho biết  $\triangle ADE \sim \triangle AMN$ ,  $\triangle AMN \sim \triangle ABC$ , DE là đường trung bình của tam giác AMN, MN là đường trung bình của tam giác ABC. Tam giác ADE đồng dạng với tam giác ABC theo tỉ số đồng dạng là bao nhiêu?



### 3. ĐỊNH LÝ



4 Quan sát Hình 5, biết  $MN \parallel BC$ . Hãy điền vào  $\square$  cho thích hợp.

$\triangle AMN$  và  $\triangle ABC$  có:

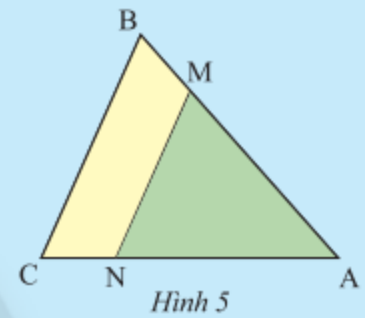
$\widehat{A}$  chung;

$\widehat{M} = \square$ ;

$\widehat{N} = \square$ ;

$\frac{AM}{AB} = \frac{AN}{AC} = \frac{\square}{\square}$ .

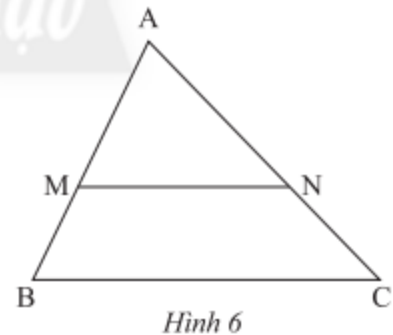
Nêu nhận xét về mối quan hệ giữa tam giác AMN và tam giác ABC.



Nếu một đường thẳng cắt hai cạnh của một tam giác và song song với cạnh còn lại thì nó tạo thành một tam giác mới đồng dạng với tam giác đã cho.

*Chân trời sáng tạo*

GT	$\triangle ABC, MN \parallel BC, M \in AB, N \in AC$
KL	$\triangle AMN \sim \triangle ABC$



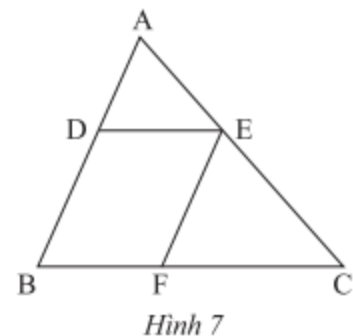
**Ví dụ 4.** Quan sát Hình 7, cho biết  $DE \parallel BC$ ,  $EF \parallel AB$ . Chứng minh rằng  $\triangle ADE \sim \triangle EFC$ .

*Giải*

Ta có:  $DE \parallel BC$  nên  $\triangle ADE \sim \triangle ABC$ ;

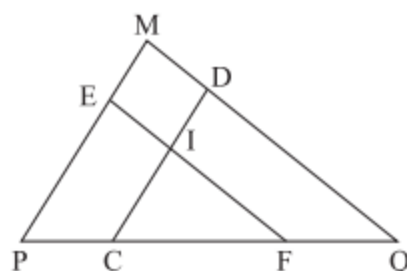
$EF \parallel AB$  nên  $\triangle EFC \sim \triangle ABC$ .

Do đó  $\triangle ADE \sim \triangle EFC$ .



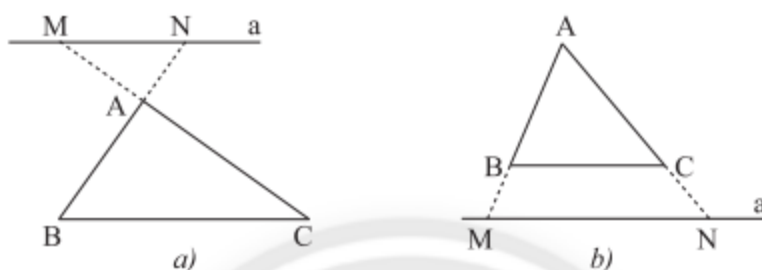
**Thực hành 3.** Quan sát Hình 8, cho biết  $DC \parallel MP$ ,  $EF \parallel MQ$ .

- Chứng minh rằng  $\triangle EPF \sim \triangle DCQ$ .
- $\triangle ICF$  có đồng dạng với  $\triangle MPQ$  không? Tại sao?



Hình 8

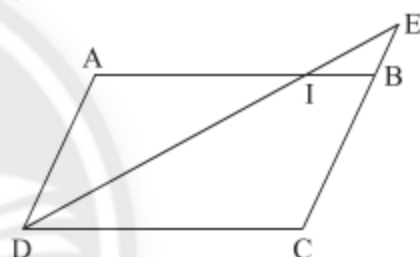
*Chú ý:* Định lí trên cũng đúng trong trường hợp đường thẳng  $a$  cắt phần kéo dài của hai cạnh của tam giác và song song với cạnh còn lại (Hình 9a, 9b).



Hình 9

**Vận dụng.** Trong Hình 10, cho biết ABCD là hình bình hành.

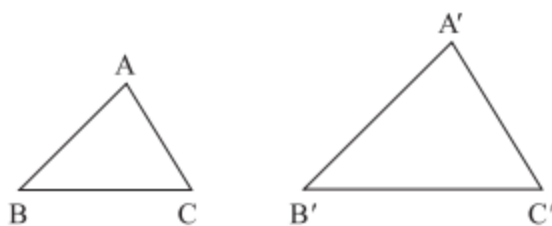
- Chứng minh rằng  $\triangle IEB \sim \triangle IDA$ .
- Cho biết  $CB = 3BE$  và  $AI = 9$  cm. Tính độ dài DC.



Hình 10

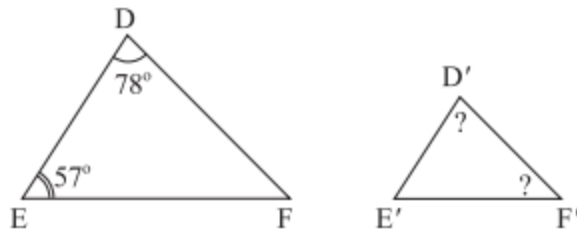
## BÀI TẬP

- Trong hai khẳng định sau, khẳng định nào đúng, khẳng định nào sai? Tại sao?
  - Hai tam giác bằng nhau thì đồng dạng với nhau.
  - Hai tam giác đồng dạng với nhau thì bằng nhau.
- Cho tam giác ABC, hãy vẽ một tam giác đồng dạng với tam giác ABC theo tỉ số đồng dạng  $k = \frac{1}{2}$ .
- a) Trong Hình 11, cho biết  $\triangle ABC \sim \triangle A'B'C'$ . Viết tỉ số của các cạnh tương ứng và chỉ ra các cặp góc tương ứng.



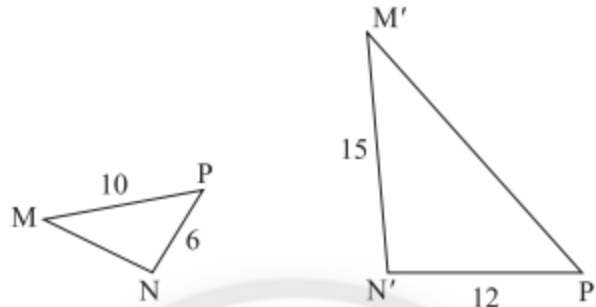
Hình 11

b) Trong Hình 12, cho biết  $\triangle DEF \sim \triangle D'E'F'$ . Tính số đo  $\widehat{D'}$  và  $\widehat{F'}$ .



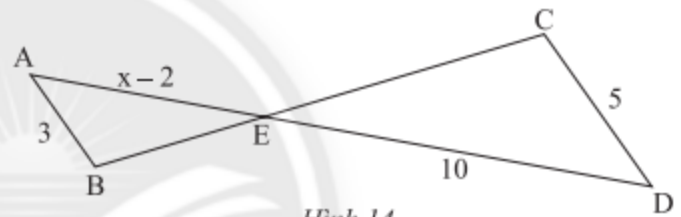
Hình 12

c) Trong Hình 13, cho biết  $\triangle MNP \sim \triangle M'N'P'$ . Tính độ dài các đoạn thẳng MN và MP'.



Hình 13

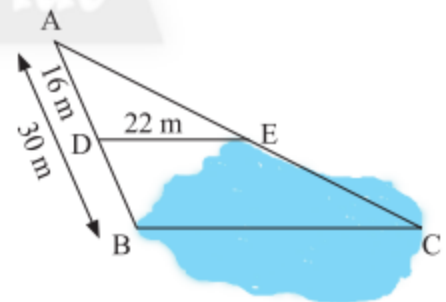
4. Trong Hình 14, cho biết  $AB \parallel CD$ .  
 a) Chứng minh rằng  $\triangle AEB \sim \triangle DEC$ .  
 b) Tìm x.



Hình 14

5. Cho  $\triangle ABC \sim \triangle DEF$  theo tỉ số đồng dạng  $k = \frac{2}{5}$ .  
 a) Tính tỉ số chu vi của hai tam giác đã cho.  
 b) Cho biết hiệu chu vi của hai tam giác trên là 36 cm, tính chu vi của mỗi tam giác.

6. Người ta ứng dụng hai tam giác đồng dạng để đo khoảng cách BC ở hai địa điểm không thể đến được (Hình 15). Biết  $DE \parallel BC$ .  
 a) Chứng minh rằng  $\triangle ADE \sim \triangle ABC$ .  
 b) Tính khoảng cách BC.



Hình 15



**Sau bài học này, em đã làm được những gì?**

- Mô tả được định nghĩa của hai tam giác đồng dạng, kí hiệu, cách viết, tỉ số đồng dạng.
- Giải quyết được một số vấn đề thực tiễn gắn với việc vận dụng kiến thức về hai tam giác đồng dạng.



Các trường hợp đồng dạng của hai tam giác có điều gì khác với các trường hợp bằng nhau của hai tam giác?

**1. TRƯỜNG HỢP ĐỒNG DẠNG THỨ NHẤT (c.c.c)**

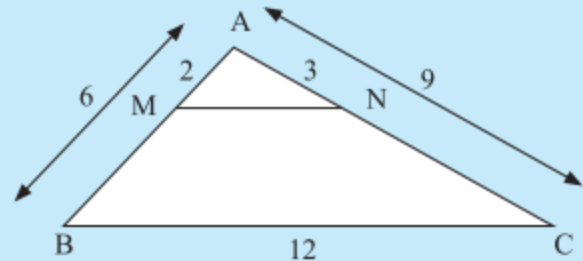


1 Cho tam giác ABC và tam giác A'B'C' có các kích thước như Hình 1. Trên cạnh AB và AC của tam giác ABC lần lượt lấy hai điểm M, N sao cho AM = 2 cm, AN = 3 cm.

a) So sánh các tỉ số  $\frac{A'B'}{AB}$ ,  $\frac{A'C'}{AC}$ ,  $\frac{B'C'}{BC}$ .

b) Tính độ dài đoạn thẳng MN.

c) Em có nhận xét gì về mối quan hệ giữa các tam giác ABC, AMN và A'B'C'?



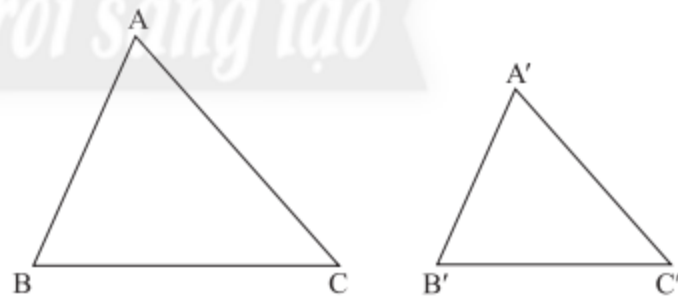
Hình 1

**Định lí:**



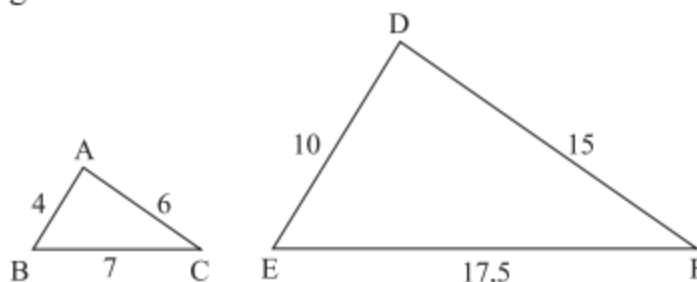
Nếu ba cạnh của tam giác này tỉ lệ với ba cạnh của tam giác kia thì hai tam giác đó đồng dạng.

GT	$\Delta ABC$ và $\Delta A'B'C'$ , $\frac{A'B'}{AB} = \frac{A'C'}{AC} = \frac{B'C'}{BC}$
KL	$\Delta A'B'C' \sim \Delta ABC$



Hình 2

**Ví dụ 1.** Cho tam giác ABC và tam giác DEF có kích thước các cạnh như Hình 3. Chứng minh rằng  $\Delta ABC \sim \Delta DEF$ .



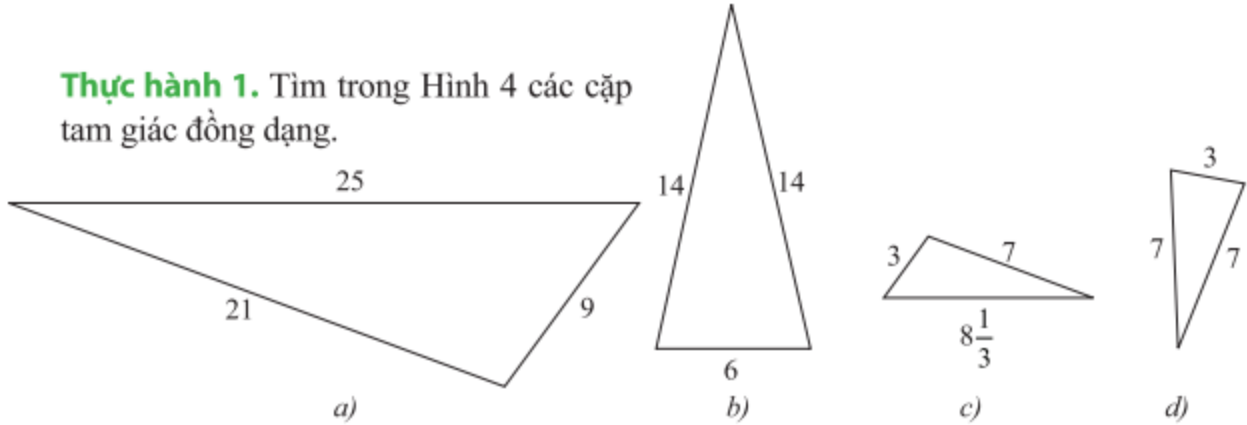
Hình 3

Giải

$$\Delta ABC \text{ và } \Delta DEF \text{ có: } \frac{AB}{DE} = \frac{4}{10} = \frac{2}{5}; \frac{AC}{DF} = \frac{6}{15} = \frac{2}{5}; \frac{BC}{EF} = \frac{7}{17,5} = \frac{2}{5}.$$

Suy ra  $\frac{AB}{DE} = \frac{AC}{DF} = \frac{BC}{EF}$ . Vậy  $\Delta ABC \sim \Delta DEF$  (c.c.c).

**Thực hành 1.** Tìm trong Hình 4 các cặp tam giác đồng dạng.



Hình 4

**Nhận xét:** Nếu tam giác  $A'B'C'$  đồng dạng với tam giác  $ABC$  theo tỉ số  $k$  thì tỉ số chu vi của hai tam giác đó cũng bằng  $k$ .

## 2. TRƯỜNG HỢP ĐỒNG DẠNG THỨ HAI (c.g.c)



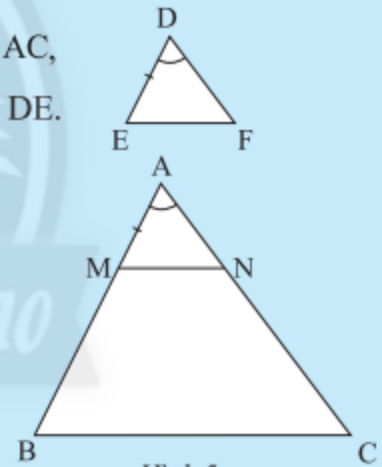
2 Cho tam giác  $DEF$  và tam giác  $ABC$  có  $DE = \frac{1}{3}AB$ ,  $DF = \frac{1}{3}AC$ ,  $\widehat{D} = \widehat{A}$  (Hình 5). Trên tia  $AB$ , lấy điểm  $M$  sao cho  $AM = DE$ . Qua  $M$  kẻ  $MN \parallel BC$  ( $N \in AC$ ).

a) So sánh các tỉ số  $\frac{AM}{AB}$  và  $\frac{AN}{AC}$ .

b) So sánh  $AN$  với  $DF$ .

c) Tam giác  $AMN$  có đồng dạng với tam giác  $ABC$  không?

d) Dự đoán sự đồng dạng của hai tam giác  $DEF$  và  $ABC$ .



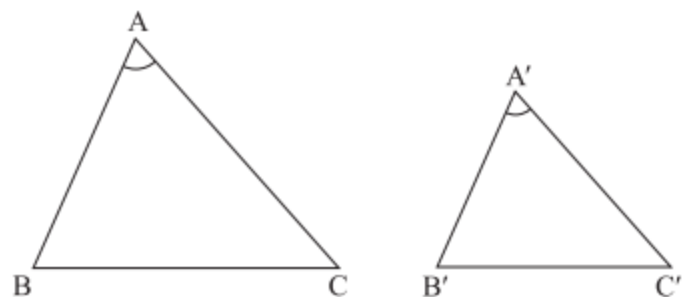
Hình 5

**Định lí:**



Nếu hai cạnh của tam giác này tỉ lệ với hai cạnh của tam giác kia và hai góc tạo bởi các cặp cạnh đó bằng nhau, thì hai tam giác đó đồng dạng.

GT	$\Delta ABC$ và $\Delta A'B'C'$ , $\frac{A'B'}{AB} = \frac{A'C'}{AC}$ , $\widehat{A'} = \widehat{A}$
KL	$\Delta A'B'C' \sim \Delta ABC$



Hình 6

**Ví dụ 2.** Cho hai tam giác DEF và ABC có  $DE = 3$  cm,  $DF = 5$  cm,  $AB = 9$  cm,  $AC = 15$  cm,  $\widehat{D} = \widehat{A}$  (Hình 7). Chứng minh rằng  $\triangle DEF \sim \triangle ABC$ .

Giải

Ta có:  $\frac{DE}{AB} = \frac{3}{9} = \frac{1}{3}$ ;  $\frac{DF}{AC} = \frac{5}{15} = \frac{1}{3}$ .

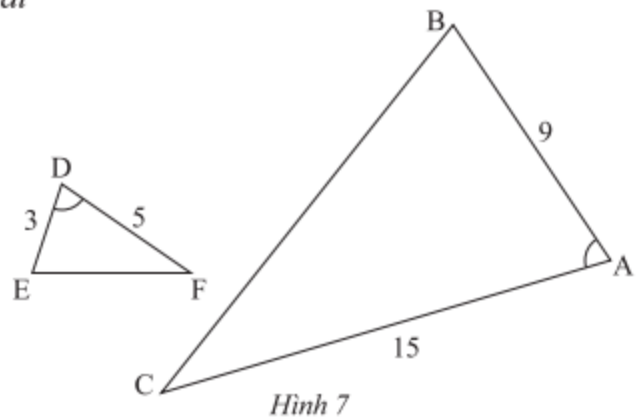
Suy ra  $\frac{DE}{AB} = \frac{DF}{AC}$ .

Tam giác DEF và tam giác ABC có:

$$\frac{DE}{AB} = \frac{DF}{AC} \text{ (chứng minh trên),}$$

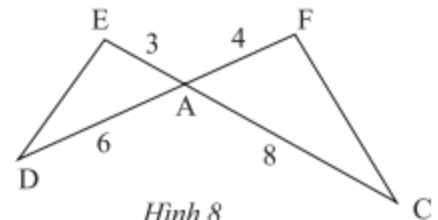
$$\widehat{D} = \widehat{A} \text{ (giả thiết).}$$

Vậy  $\triangle DEF \sim \triangle ABC$  (c.g.c).



Hình 7

**Thực hành 2.** Cho tam giác ADE và tam giác ACF có các kích thước như trong Hình 8. Chứng minh rằng  $\triangle ADE \sim \triangle ACF$ .



Hình 8

**Nhận xét:** Nếu tam giác A'B'C' đồng dạng với tam giác ABC theo tỉ số k thì tỉ số của hai đường trung tuyến tương ứng của hai tam giác đó cũng bằng k.

### 3. TRƯỜNG HỢP ĐỒNG DẠNG THỨ BA (g.g)



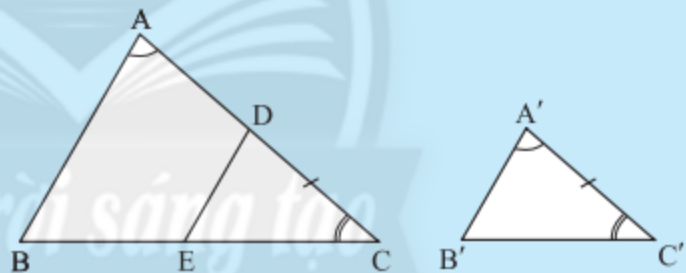
3 Cho hai tam giác ABC và A'B'C' có  $\widehat{A} = \widehat{A'}$ ,  $\widehat{C} = \widehat{C'}$  (Hình 9).

Trên cạnh AC, lấy điểm D sao cho  $DC = A'C'$ . Qua D kẻ đường thẳng song song với AB cắt cạnh BC tại E.

a) Tam giác DEC có đồng dạng với tam giác ABC không?

b) Nhận xét về mối quan hệ giữa tam giác A'B'C' và tam giác DEC.

c) Dự đoán về sự đồng dạng của hai tam giác A'B'C' và ABC.



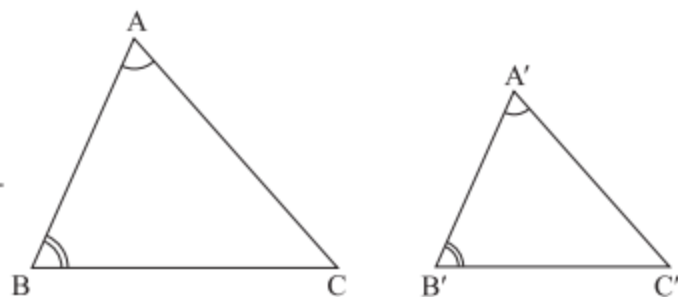
Hình 9

**Định lý:**



Nếu hai góc của tam giác này lần lượt bằng hai góc của tam giác kia thì hai tam giác đó đồng dạng với nhau.

GT	$\triangle ABC$ và $\triangle A'B'C'$ $\widehat{A'} = \widehat{A}$ , $\widehat{B'} = \widehat{B}$
KL	$\triangle A'B'C' \sim \triangle ABC$



Hình 10

**Ví dụ 3.** Trong Hình 11, cho biết  $AD \parallel BC$ ,  $BE \parallel DC$ . Chứng minh rằng  $\triangle ADC \sim \triangle CBE$ .

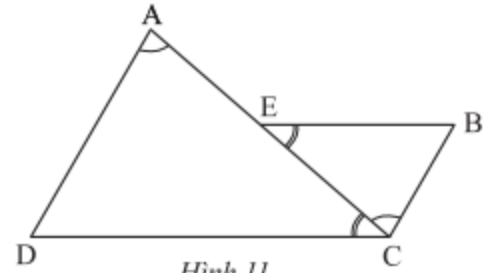
*Giải*

Xét  $\triangle ADC$  và  $\triangle CBE$  có:

$AD \parallel BC$  nên  $\widehat{DAC} = \widehat{BCE}$  (so le trong);

$BE \parallel DC$  nên  $\widehat{DCA} = \widehat{BEC}$  (so le trong).

Suy ra  $\triangle ADC \sim \triangle CBE$  (g.g).

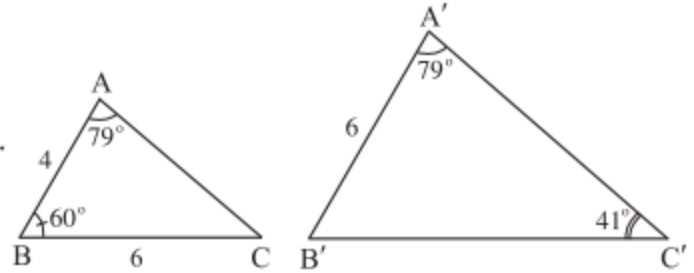


Hình 11

**Thực hành 3.** Quan sát Hình 12.


a) Chứng minh rằng  $\triangle ABC \sim \triangle A'B'C'$ .

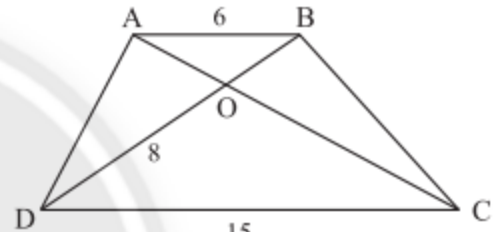
b) Tính độ dài cạnh  $B'C'$ .



Hình 12

**Vận dụng 1.** Cho hình thang ABCD ( $AB \parallel CD$ ) có  $AB = 6$  m,  $CD = 15$  m,  $OD = 8$  m (Hình 13). Tính độ dài đoạn thẳng OB.

**Vận dụng 2.** Qua các trường hợp đồng dạng của hai tam giác, hãy trả lời câu hỏi ở  (trang 67).



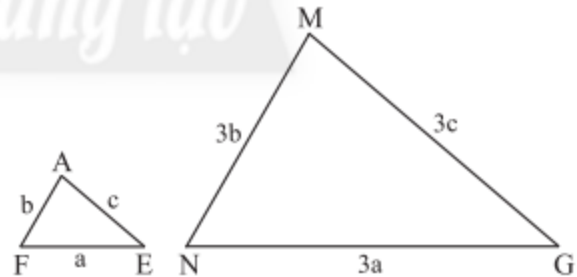
Hình 13

*Nhận xét:* Nếu tam giác  $A'B'C'$  đồng dạng với tam giác ABC theo tỉ số k thì tỉ số của hai đường phân giác tương ứng của hai tam giác đó cũng bằng k.

## BÀI TẬP

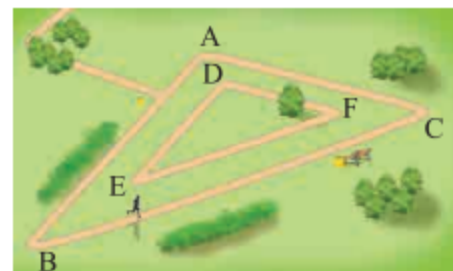
**Trường hợp đồng dạng thứ nhất (c.c.c)**

- a) Tam giác AFE và MNG ở Hình 14 có đồng dạng với nhau không? Vì sao?  
b) Biết tam giác AFE có chu vi bằng 15 cm. Tính chu vi tam giác MNG.



Hình 14

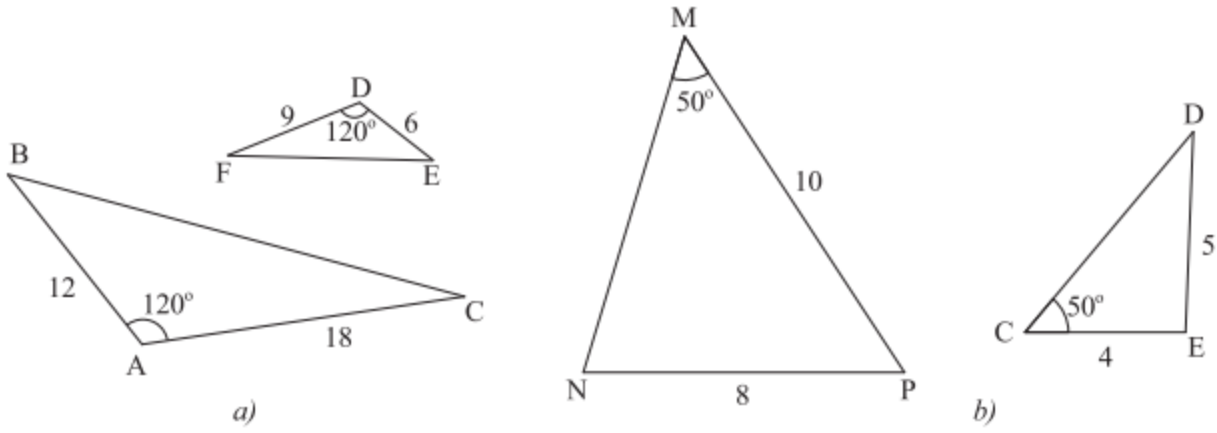
- Tam giác ABC có độ dài  $AB = 4$  cm,  $AC = 6$  cm,  $BC = 9$  cm. Tam giác  $A'B'C'$  đồng dạng với tam giác ABC và có chu vi bằng 66,5 cm. Hãy tính độ dài các cạnh của tam giác  $A'B'C'$ .
- Một công viên có hai đường chạy bộ hình tam giác đồng dạng như Hình 15. Kích thước của con đường bên trong lần lượt là 300 m, 350 m và 550 m. Cạnh ngắn nhất của con đường bên ngoài là 600 m. Nam chạy bốn vòng trên con đường bên trong, Hùng chạy hai vòng trên con đường bên ngoài. So sánh quãng đường chạy được của hai bạn.



Hình 15

**Trường hợp đồng dạng thứ hai (c.g.c)**

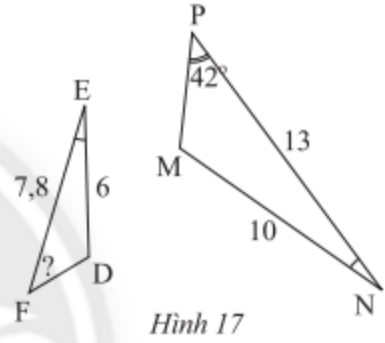
4. Xét xem cặp tam giác nào trong các Hình 16a, 16b đồng dạng?



Hình 16

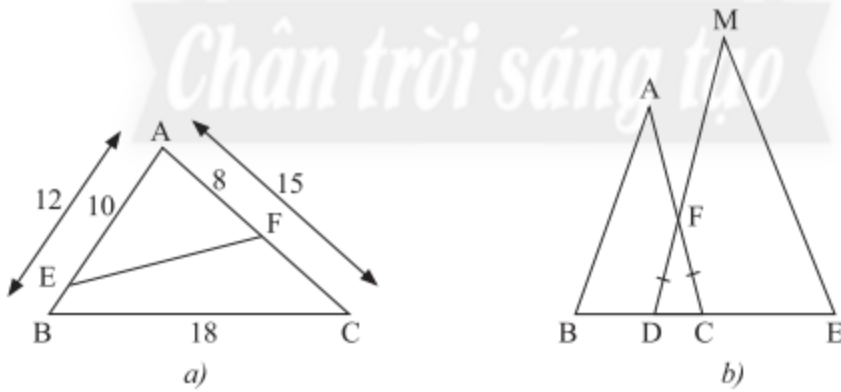
5. Trong Hình 17, cho biết  $DE = 6$  cm,  $EF = 7,8$  cm,  $NP = 13$  cm,  $NM = 10$  cm,  $\hat{E} = \hat{N}$  và  $\hat{P} = 42^\circ$ . Tính  $\hat{F}$ .

6. a) Cho tam giác ABC có  $AB = 12$  cm,  $AC = 15$  cm,  $BC = 18$  cm. Trên cạnh AB, lấy điểm E sao cho  $AE = 10$  cm. Trên cạnh AC, lấy điểm F sao cho  $AF = 8$  cm (Hình 18a). Tính độ dài đoạn thẳng EF.



Hình 17

b) Trong Hình 18b, cho biết  $FD = FC$ ,  $BC = 9$  dm,  $DE = 12$  dm,  $AC = 15$  dm,  $MD = 20$  dm. Chứng minh rằng  $\triangle ABC \sim \triangle MED$ .



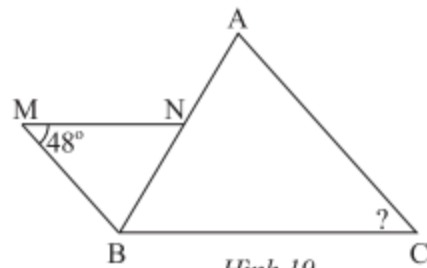
Hình 18

**Trường hợp đồng dạng thứ ba (g.g)**

7. Trong Hình 19, cho biết  $MN \parallel BC$ ,  $MB \parallel AC$ .

a) Chứng minh rằng  $\triangle BNM \sim \triangle ABC$ .

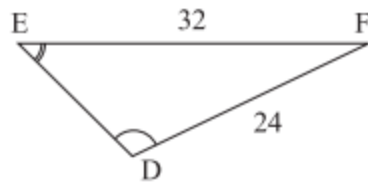
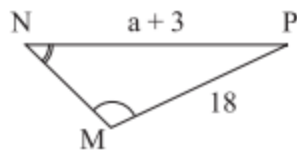
b) Tính  $\hat{C}$ .



Hình 19

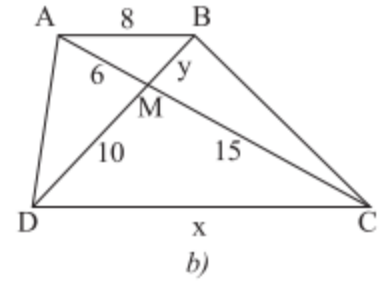


8. a) Trong Hình 20a, cho biết  $\widehat{N} = \widehat{E}$ ,  $\widehat{M} = \widehat{D}$ ,  $MP = 18$  m,  $DF = 24$  m,  $EF = 32$  m,  $NP = a + 3$  (m). Tìm  $a$ .  
 b) Cho ABCD là hình thang ( $AB \parallel CD$ ) (Hình 20b).  
 Chứng minh rằng  $\triangle AMB \sim \triangle CMD$ . Tìm  $x, y$ .



a)

Hình 20

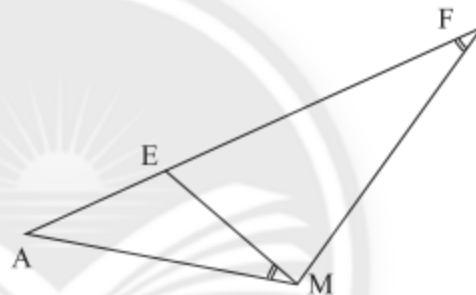


b)

9. a) Trong Hình 21a, cho biết  $\widehat{HOP} = \widehat{HPE}$ ,  $\widehat{HPO} = \widehat{HEP}$ ,  $OH = 6$  cm và  $HE = 4$  cm. Tính độ dài đoạn thẳng HP.  
 b) Trong Hình 21b, cho biết  $\widehat{AME} = \widehat{AFM}$ . Chứng minh rằng  $AM^2 = AE \cdot AF$ .



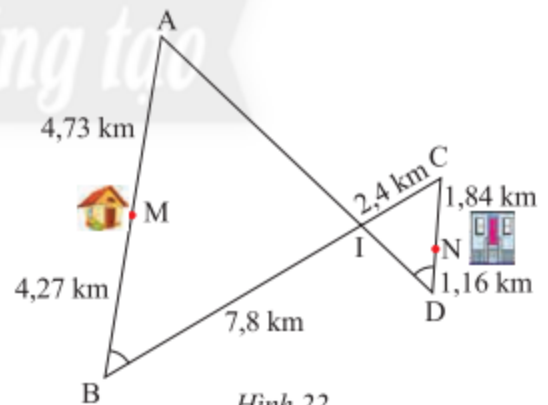
a)



b)

Hình 21

10. Đường đi và khoảng cách từ nhà anh Thanh (điểm M) đến công ty (điểm N) được thể hiện trong Hình 22. Hãy tìm con đường ngắn nhất để đi từ nhà của anh Thanh đến công ty.



Hình 22

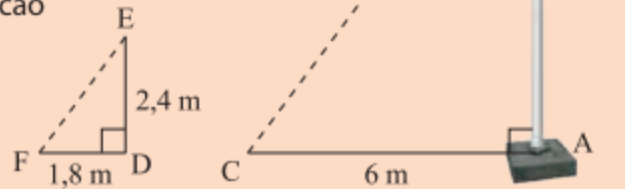


**Sau bài học này, em đã làm được những gì?**

- Giải thích được các trường hợp đồng dạng của hai tam giác.
- Vận dụng kiến thức đã học để giải các bài toán về hai tam giác đồng dạng.
- Giải quyết được một số vấn đề thực tiễn gắn với việc vận dụng kiến thức về hai tam giác đồng dạng.



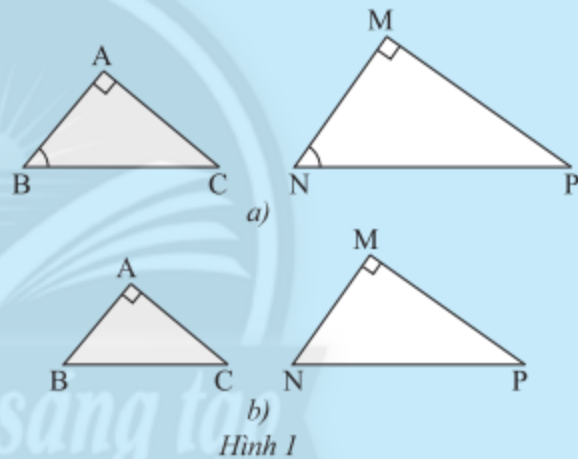
Bóng của một cột cờ trên mặt đất dài 6 m. Cùng thời điểm đó một thanh sắt cao 2,4 m cắm vuông góc với mặt đất có bóng dài 1,8 m. Tính chiều cao của cột cờ.



**1. ỨNG DỤNG CÁC TRƯỜNG HỢP ĐỒNG DẠNG CỦA TAM GIÁC VÀO TAM GIÁC VUÔNG**



- 1 a) Từ trường hợp đồng dạng thứ ba của hai tam giác, xét xem tam giác ABC vuông tại A và tam giác MNP vuông tại M có  $\widehat{B} = \widehat{N}$  thì hai tam giác đó có đồng dạng với nhau không.
- b) Từ trường hợp đồng dạng thứ hai của hai tam giác, xét xem nếu tam giác ABC vuông tại A và tam giác MNP vuông tại M có  $\frac{AB}{MN} = \frac{AC}{MP}$  thì hai tam giác đó có đồng dạng với nhau không.



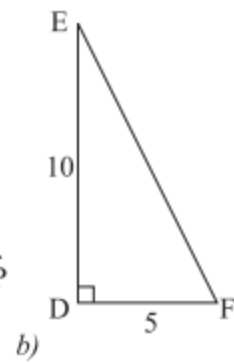
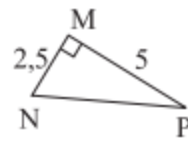
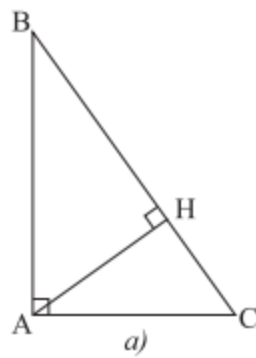
Hình 1



Nếu tam giác *vuông* này có *một góc nhọn* bằng *góc nhọn* của tam giác *vuông* kia thì hai tam giác *vuông* đó đồng dạng với nhau.  
 Nếu tam giác *vuông* này có *hai cạnh góc vuông* tỉ lệ với *hai cạnh góc vuông* của tam giác *vuông* kia thì hai tam giác *vuông* đó đồng dạng với nhau.

**Ví dụ 1.**

- a) Cho tam giác ABC vuông tại A, đường cao AH (Hình 2a). Chứng minh rằng  $\triangle ABC \sim \triangle HBA$ .
- b) Tam giác vuông MPN và tam giác vuông DEF có các kích thước như Hình 2b có đồng dạng với nhau không?



Hình 2

Giải

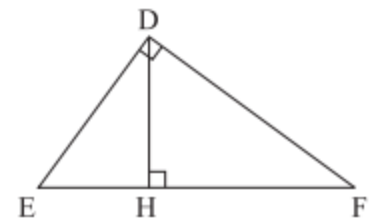
a) Tam giác ABC vuông tại A và tam giác HBA vuông tại H có  $\widehat{B}$  chung.

Vậy  $\Delta ABC \sim \Delta HBA$  (g.g).


b) Tam giác DEF vuông tại D và tam giác MPN vuông tại M có  $\frac{MN}{DF} = \frac{MP}{DE}$  (vì  $\frac{2,5}{5} = \frac{5}{10}$ ).

Vậy  $\Delta MPN \sim \Delta DEF$  (c.g.c).

**Thực hành 1.** Cho tam giác DEF vuông tại D có DH là đường cao (Hình 3). Chứng minh rằng  $DE^2 = EH \cdot EF$ .



Hình 3

**Vận dụng 1.** Tính chiều cao của cột cờ trong  (trang 73).

## 2. THÊM MỘT DẤU HIỆU NHẬN BIẾT HAI TAM GIÁC VUÔNG ĐỒNG DẠNG

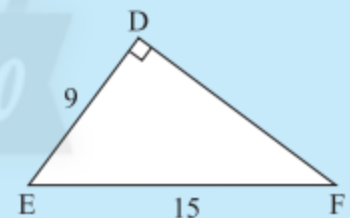
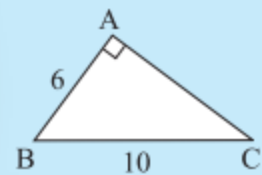


2 Cho hai tam giác vuông ABC và DEF có các kích thước như Hình 4.

a) Hãy tính độ dài cạnh AC và DF.

b) So sánh các tỉ số  $\frac{AB}{DE}$ ,  $\frac{AC}{DF}$  và  $\frac{BC}{EF}$ .

c) Dự đoán sự đồng dạng của hai tam giác ABC và DEF.



Hình 4



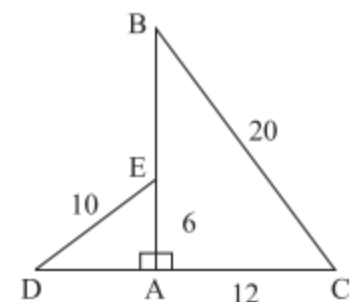
Nếu cạnh huyền và một cạnh góc vuông của tam giác vuông này tỉ lệ với cạnh huyền và một cạnh góc vuông của tam giác vuông kia thì hai tam giác vuông đó đồng dạng.

**Ví dụ 2.** Cho hai tam giác vuông ABC và ADE có các kích thước như Hình 5. Chứng minh rằng  $\Delta ADE \sim \Delta ABC$ .

Giải

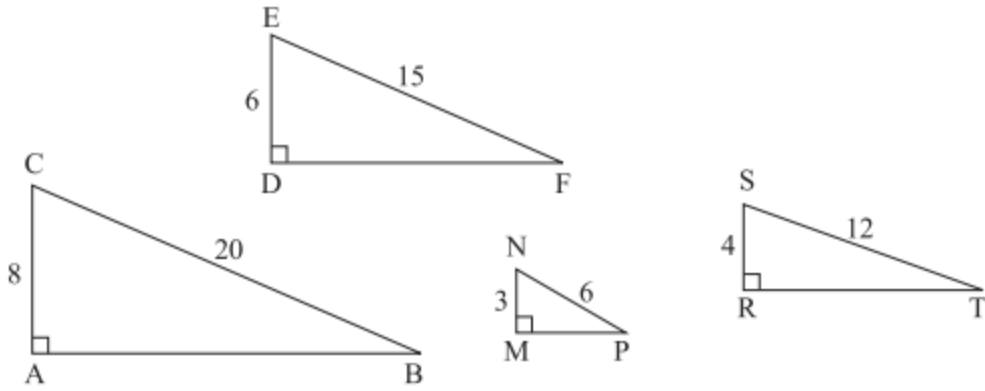
$\Delta ADE$  và  $\Delta ABC$  có:  $\frac{AE}{AC} = \frac{6}{12} = \frac{1}{2}$ ;  $\frac{DE}{BC} = \frac{10}{20} = \frac{1}{2}$ .

Suy ra  $\frac{AE}{AC} = \frac{DE}{BC}$ . Vậy  $\Delta ADE \sim \Delta ABC$ .



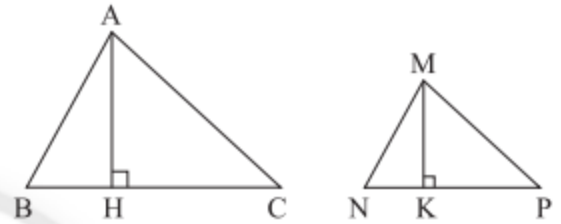
Hình 5

**Thực hành 2.** Trong Hình 6, tam giác nào đồng dạng với tam giác DEF?



Hình 6

**Vận dụng 2.** Trong Hình 7, biết  $\triangle MNP \sim \triangle ABC$  với tỉ số đồng dạng  $k = \frac{MN}{AB}$ , hai đường cao tương ứng là MK và AH.



Hình 7

a) Chứng minh rằng  $\triangle MNK \sim \triangle ABH$  và  $\frac{MK}{AH} = k$ .

b) Gọi  $S_1$  là diện tích tam giác MNP và  $S_2$  là diện tích tam giác ABC.

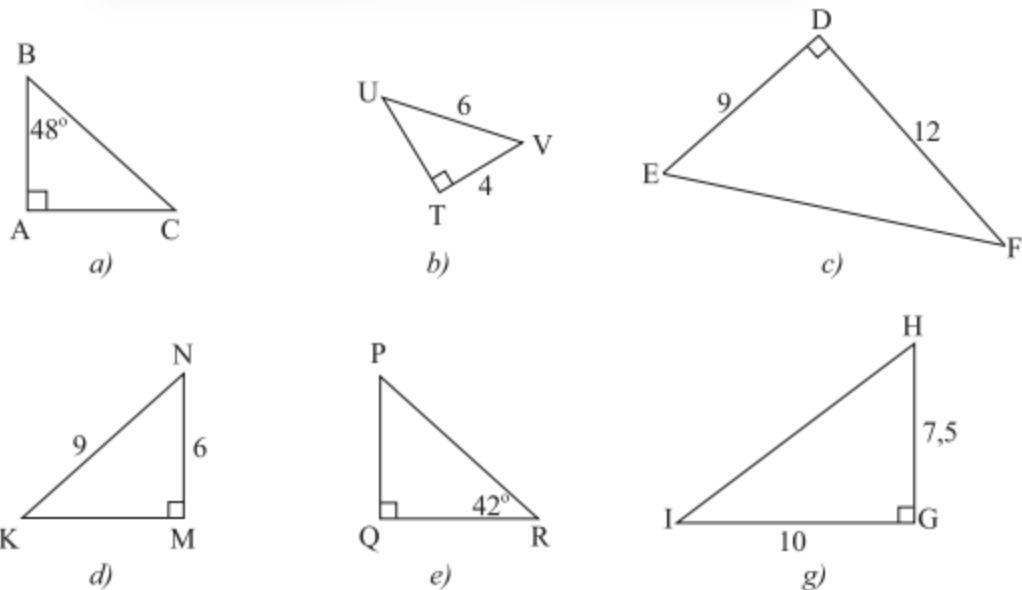
Chứng minh rằng  $\frac{S_1}{S_2} = k^2$ .

*Chú ý:*

- Tỉ số hai đường cao tương ứng của hai tam giác đồng dạng bằng tỉ số đồng dạng.
- Tỉ số diện tích của hai tam giác đồng dạng bằng bình phương tỉ số đồng dạng.

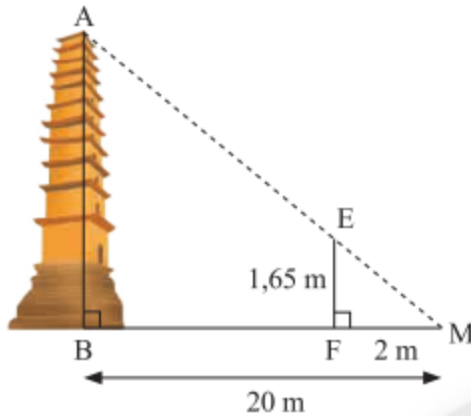
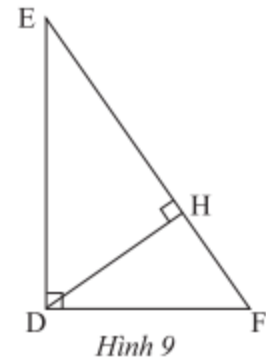
## Chân trời sáng tạo **BÀI TẬP**

1. Hãy tìm cặp tam giác vuông đồng dạng trong Hình 8.

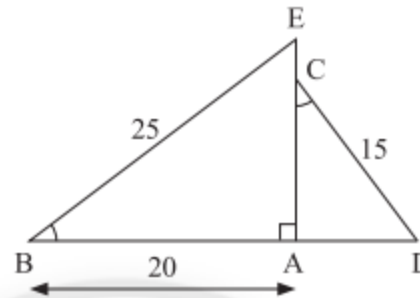


Hình 8

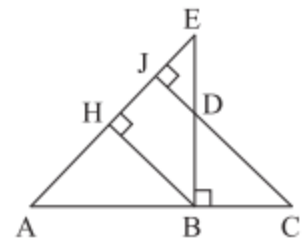
2. Quan sát Hình 9.
- Chứng minh rằng  $\triangle DEF \sim \triangle HDF$ .
  - Chứng minh rằng  $DF^2 = FH \cdot FE$ .
  - Biết  $EF = 15$  cm,  $FH = 5,4$  cm. Tính độ dài đoạn thẳng  $DF$ .
3. Trong Hình 10, biết  $MB = 20$  m,  $MF = 2$  m,  $EF = 1,65$  m. Tính chiều cao  $AB$  của ngọn tháp.



Hình 10



Hình 11



Hình 12

- Trong Hình 11, cho biết  $\widehat{B} = \widehat{C}$ ,  $BE = 25$  cm,  $AB = 20$  cm,  $DC = 15$  cm. Tính độ dài đoạn thẳng  $CE$ .
- Quan sát Hình 12. Chứng minh rằng:
  - $\triangle ABH \sim \triangle DCB$ ;
  - $\frac{BC}{BE} = \frac{BD}{BA}$ .
- Một người đo chiều cao của một toà nhà nhờ một cọc chôn xuống đất, cọc cao 3 m và đặt cách xa toà nhà 27 m. Sau khi người ấy lùi ra xa cách cọc 1,2 m thì nhìn thấy đầu cọc và đỉnh toà nhà cùng nằm trên một đường thẳng. Hỏi toà nhà cao bao nhiêu mét, biết rằng khoảng cách từ chân đến mắt người ấy là 1,5 m?
- Cho tam giác  $ABC$  vuông tại  $A$  có đường cao  $AH$ . Kẻ  $HM$  vuông góc với  $AB$  tại  $M$ .
  - Chứng minh rằng  $\triangle AMH \sim \triangle AHB$ .
  - Kẻ  $HN$  vuông góc với  $AC$  tại  $N$ . Chứng minh rằng  $AM \cdot AB = AN \cdot AC$ .
  - Chứng minh rằng  $\triangle ANM \sim \triangle ABC$ .
  - Cho biết  $AB = 9$  cm,  $AC = 12$  cm. Tính diện tích tam giác  $AMN$ .



**Sau bài học này, em đã làm được những gì?**

- Giải thích được các trường hợp đồng dạng của hai tam giác vuông.
- Giải quyết được một số vấn đề thực tiễn gắn với việc vận dụng kiến thức về hai tam giác đồng dạng.



Những cành lá giống nhau về hình dạng nhưng khác nhau về kích thước tạo nên vẻ đẹp hài hoà trong tự nhiên.



**1. HÌNH ĐỒNG DẠNG PHỐI CẢNH**



1 a) Cho đoạn thẳng AB và điểm O. Kẻ các tia OA, OB. Trên tia OA, OB lần lượt lấy các điểm A', B' sao cho  $OA' = 3OA$ ,  $OB' = 3OB$  (Hình 1a).

i) A'B' có song song với AB không?

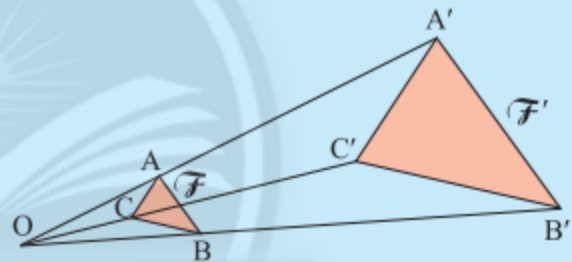
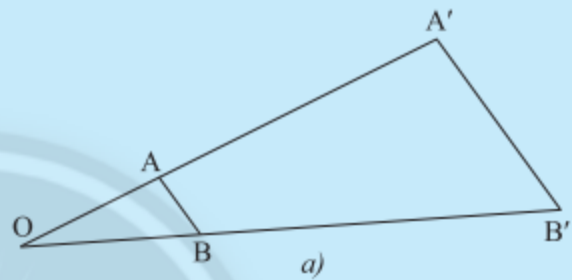
ii) Tính tỉ số  $\frac{A'B'}{AB}$ .

b) Cho tam giác ABC và điểm O. Kẻ các tia OA, OB, OC. Trên tia OA, OB, OC lần lượt lấy các điểm A', B', C' sao cho  $OA' = 3OA$ ,  $OB' = 3OB$ ,  $OC' = 3OC$  (Hình 1b).

i) Tính và so sánh các tỉ số

$$\frac{A'B'}{AB}, \frac{A'C'}{AC}, \frac{B'C'}{BC}.$$

ii) Chứng minh tam giác A'B'C' (hình  $\mathcal{F}'$ ) đồng dạng với tam giác ABC (hình  $\mathcal{F}$ ).



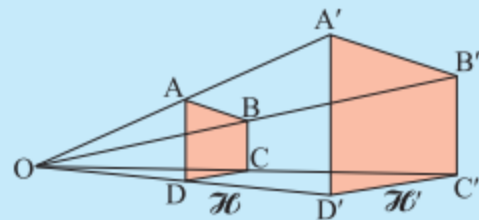
Hình 1



2 Tương tự, thực hiện cách dựng như trên với tứ giác ABCD. Trên tia OA, OB, OC, OD lần lượt lấy các điểm A', B', C', D' sao cho  $OA' = 2OA$ ,  $OB' = 2OB$ ,  $OC' = 2OC$ ,  $OD' = 2OD$  (Hình 2).

Tính và so sánh các tỉ số

$$\frac{A'B'}{AB}, \frac{A'D'}{AD}, \frac{B'C'}{BC}, \frac{C'D'}{CD}.$$

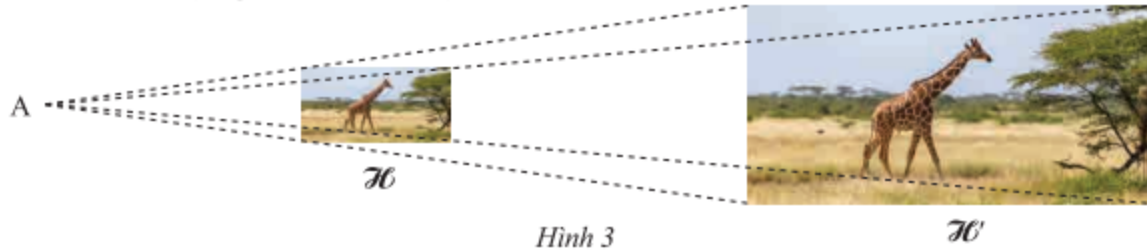


Hình 2

Những cặp hình  $\mathcal{F}$  và  $\mathcal{F}'$ ,  $\mathcal{H}$  và  $\mathcal{H}'$  được gọi là những hình đồng dạng phối cảnh.

Tỉ số  $\frac{A'B'}{AB} = \frac{A'D'}{AD} = \frac{B'C'}{BC} = \frac{C'D'}{CD} = k$  gọi là tỉ số đồng dạng của hai hình đồng dạng phối cảnh.

**Ví dụ 1.** Trong Hình 3, hình  $\mathcal{H}$  và hình  $\mathcal{H}'$  là hai hình đồng dạng phối cảnh với tỉ số  $k$ . Hình  $\mathcal{H}'$  là hình “phóng to” của hình  $\mathcal{H}$  (ứng với tỉ số  $k > 1$ ), hình  $\mathcal{H}$  là hình “thu nhỏ” của hình  $\mathcal{H}'$  (ứng với tỉ số  $k < 1$ ).




Hình 3

**Ví dụ 2.** Trong Hình 4, Hình  $\mathcal{M}'$  là hình “phóng to” của hình  $\mathcal{M}$ ,  $\mathcal{M}$  là hình “thu nhỏ” của hình  $\mathcal{M}'$ .



Hình 4

**Thực hành 1.** Trong các hình ở Hình 5, hình nào đồng dạng phối cảnh với hình  $\mathcal{B}$  theo tỉ số  $k > 1$ ? Hình nào đồng dạng phối cảnh với hình  $\mathcal{B}$  theo tỉ số  $k < 1$ ?



Hình 5

## 2. HAI HÌNH ĐỒNG DẠNG



3

Cho hai hình đồng dạng phối cảnh  $\mathcal{H}$  và  $\mathcal{H}_1$ , biết tỉ số đồng dạng  $k = \frac{2}{3}$ .

a) Tính  $x, y$ .

b) So sánh hình  $\mathcal{H}_1$  với hình  $\mathcal{H}'$ .




Hai hình  $\mathcal{H}, \mathcal{H}'$  được gọi là *đồng dạng* nếu có hình đồng dạng phối cảnh của hình  $\mathcal{H}$  bằng hình  $\mathcal{H}'$ .

Nói một cách đơn giản, hình  $\mathcal{H}$  đồng dạng với hình  $\mathcal{H}'$  nếu  $\mathcal{H}'$  bằng  $\mathcal{H}$  hoặc bằng một hình “phóng to” hoặc “thu nhỏ” của  $\mathcal{H}$ .

**Ví dụ 3.** Trong các hình dưới đây, Hình 7a đồng dạng với Hình 7c; Hình 7b đồng dạng với Hình 7d.

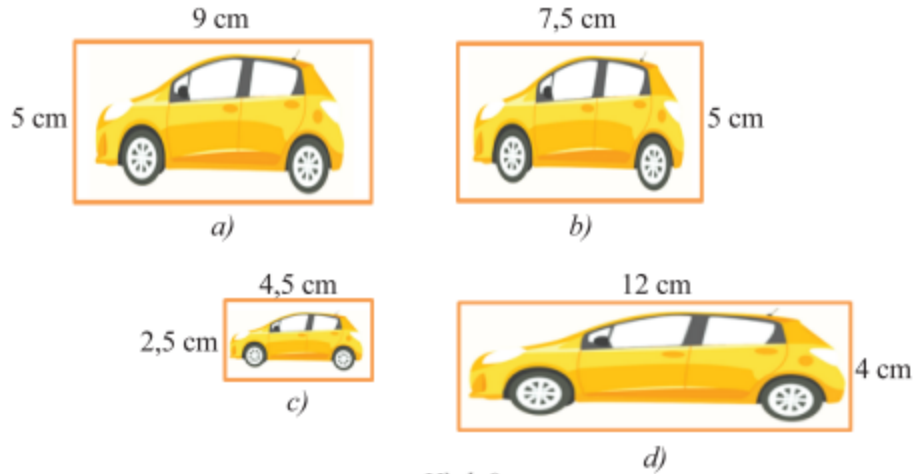


**Thực hành 2.** Trong Hình 8 dưới đây, hãy chọn ra các cặp hình đồng dạng với nhau.





**Vận dụng.** Trong các Hình 9b, c, d, hình nào đồng dạng với Hình 9a? Giải thích.



Hình 9

### 3. HÌNH ĐỒNG DẠNG TRONG TỰ NHIÊN VÀ ĐỜI SỐNG

Hình đồng dạng phối cảnh có nhiều ứng dụng trong kiến trúc, xây dựng và hội họa.

**Trong kiến trúc, xây dựng, trang trí nội thất**

Hình đồng dạng giúp các kiến trúc sư thiết kế các công trình đẹp, hài hoà, có giá trị cao về mỹ thuật.



a)




b)


Hình 10

**Trong công nghệ chế tạo**

Với các hoạ tiết hình đồng dạng, các vật dụng được tạo ra có tính hài hoà, cân đối, vững chắc.



a)



b)

Hình 11

### Trong hội hoạ, nhiếp ảnh


Những bông hoa đồng dạng đem lại cảm hứng trong sáng tác cho các họa sĩ và nhiếp ảnh gia.



Hình 12

### Thiết kế, trang trí

Hình đồng dạng được các nghệ nhân sử dụng để thiết kế ra các hoa văn trên những tấm thổ cẩm với nét nghệ thuật đặc trưng, độc đáo.



a)



b)

Hình 13

### Trong tự nhiên

Trong tự nhiên, hình đồng dạng tạo nên vẻ đẹp hài hoà của các loài thực vật và động vật.



a)



b)

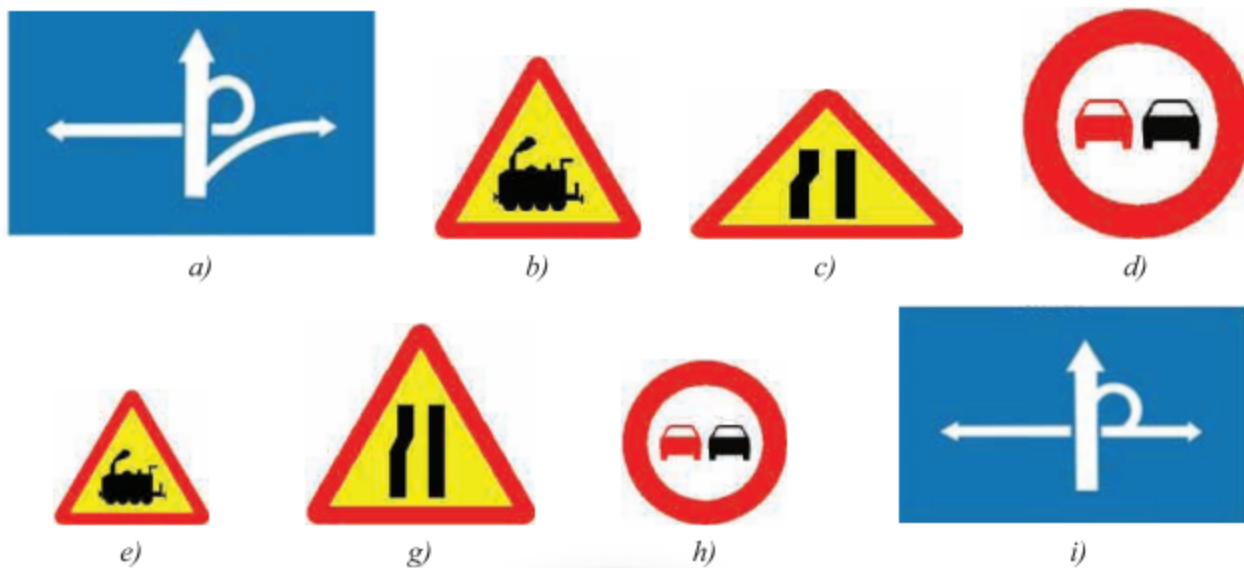


c)

Hình 14


## BÀI TẬP

1. Trong các hình dưới đây, hãy chọn ra các cặp hình đồng dạng.



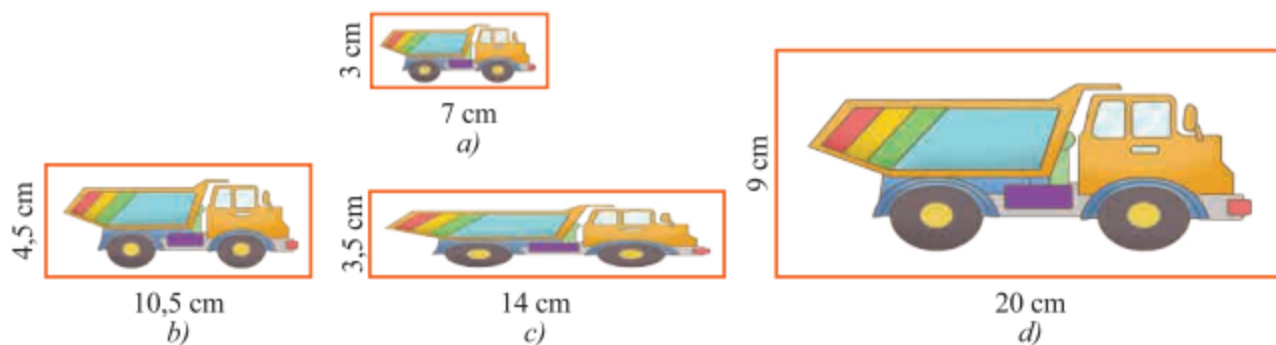
Hình 15

2. Trong các hình dưới đây, hai hình nào đồng dạng với nhau?



Hình 16

3. Trong các Hình 17b, c, d, hình nào đồng dạng với Hình 17a? Giải thích.



Hình 17

4. Hình 18b là Hình 18a sau khi phóng to với  $k = 1,5$ . Nếu kích thước của Hình 18a là  $4 \times 6$  thì kích thước của Hình 18b là bao nhiêu?



a)



b)

Hình 18



**Sau bài học này, em đã làm được những gì?**

- Nhận biết được hình đồng dạng phối cảnh (hình vị tự), hình đồng dạng qua các hình ảnh cụ thể.
- Nhận biết được vẻ đẹp trong tự nhiên, nghệ thuật, kiến trúc, công nghệ chế tạo, ... biểu hiện qua hình đồng dạng.

## BÀI TẬP CUỐI CHƯƠNG 8

### CÂU HỎI TRẮC NGHIỆM

Chọn phương án đúng.

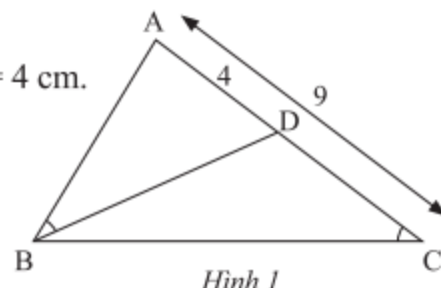
- Trong các khẳng định sau, khẳng định nào đúng?  
A. Hai tam giác đồng dạng thì bằng nhau.  
B. Hai tam giác bằng nhau thì đồng dạng.  
C. Hai tam giác bằng nhau thì không đồng dạng.  
D. Hai tam giác cân thì luôn đồng dạng.
- Nếu  $\triangle ABC \sim \triangle MNP$  theo tỉ số  $k = 3$  thì  $\triangle MNP \sim \triangle ABC$  theo tỉ số  
A.  $\frac{1}{3}$ .                      B.  $\frac{1}{9}$ .                      C. 3.                      D. 9.
- Nếu tam giác ABC có  $MN \parallel AB$  (với  $M \in AC, N \in BC$ ) thì  
A.  $\triangle CMN \sim \triangle ABC$ .                      B.  $\triangle CNM \sim \triangle CAB$ .  
C.  $\triangle CNM \sim \triangle ABC$ .                      D.  $\triangle MNC \sim \triangle ABC$ .
- Cho  $\triangle ABD \sim \triangle DEF$  với tỉ số đồng dạng  $k = \frac{1}{3}$ , biết  $AB = 9$  cm. Khi đó DE bằng  
A. 6 cm.                      B. 12 cm.                      C. 3 cm.                      D. 27 cm.
- Nếu tam giác ABC và tam giác EFG có  $\hat{A} = \hat{E}, \hat{B} = \hat{F}$  thì  
A.  $\triangle ABC \sim \triangle EGF$ .                      B.  $\triangle ABC \sim \triangle EFG$ .  
C.  $\triangle ACB \sim \triangle GFE$ .                      D.  $\triangle CBA \sim \triangle FGE$ .
- Cho  $\triangle XYZ \sim \triangle EFG$ , biết  $XY = 6$  cm;  $EF = 8$  cm;  $EG = 12$  cm. Khi đó XZ bằng  
A. 10 cm.                      B. 9 cm.                      C. 12 cm.                      D. 16 cm.
- Cho  $\triangle ABC \sim \triangle DEF$ , biết  $\hat{A} = 85^\circ, \hat{B} = 60^\circ$ . Khi đó số đo  $\hat{F}$  bằng  
A.  $60^\circ$ .                      B.  $85^\circ$ .                      C.  $35^\circ$ .                      D.  $45^\circ$ .
- Cho hình thang ABCD ( $AB \parallel CD$ ), có hai đường chéo AC và BD cắt nhau tại O. Biết  $AB = 8$  cm,  $CD = 20$  cm. Khi đó  $\triangle AOB \sim \triangle COD$  với tỉ số đồng dạng là  
A.  $k = \frac{2}{3}$ .                      B.  $k = \frac{3}{2}$ .                      C.  $k = \frac{2}{5}$ .                      D.  $k = \frac{5}{2}$ .

## BÀI TẬP TỰ LUẬN

9. Trong Hình 1, cho biết  $\widehat{ABD} = \widehat{ACB}$ ,  $AC = 9$  cm,  $AD = 4$  cm.

a) Chứng minh tam giác  $\triangle ABD \sim \triangle ACB$ .

b) Tính độ dài cạnh  $AB$ .



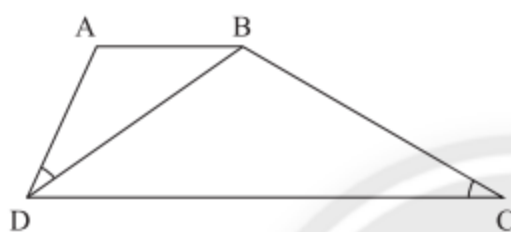
Hình 1

10. a) Cho hình thang  $ABCD$  ( $AB \parallel CD$ ), biết  $\widehat{ADB} = \widehat{DCB}$  (Hình 2a).

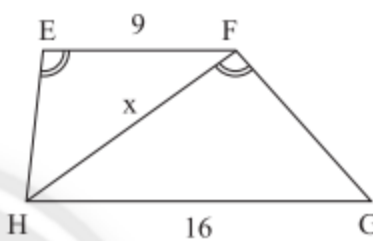
Chứng minh rằng  $BD^2 = AB \cdot CD$ .

b) Cho hình thang  $EFGH$  ( $EF \parallel GH$ ),  $\widehat{HEF} = \widehat{HFG}$ ,  $EF = 9$  m,  $GH = 16$  m (Hình 2b).

Tính độ dài  $x$  của  $HF$ .



a)

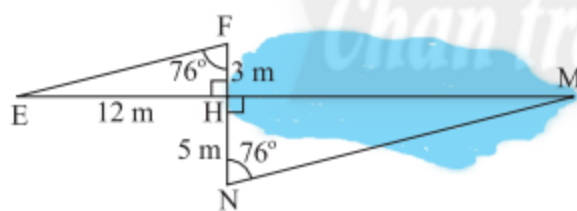


b)

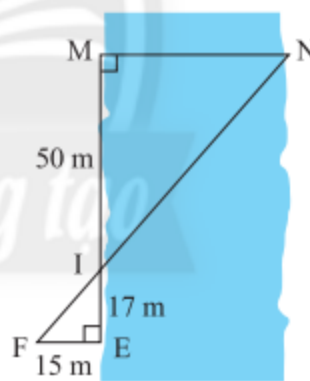
Hình 2

11. a) Tính khoảng cách  $HM$  của mặt hồ ở Hình 3a.

b) Tính khoảng cách  $MN$  của một khúc sông ở Hình 3b.



a)

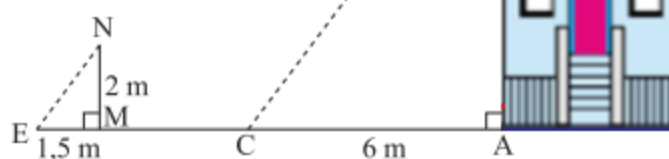


b)

Hình 3

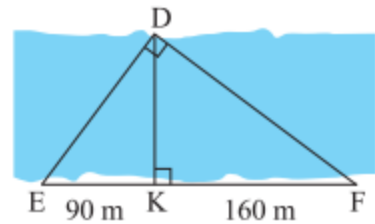
12. Bóng của một căn nhà trên mặt đất có độ dài 6 m.

Cùng thời điểm đó, một cọc sắt cao 2 m cắm vuông góc với mặt đất có bóng dài 1,5 m (Hình 4). Tính chiều cao ngôi nhà.



Hình 4

13. Người ta đo khoảng cách giữa hai điểm D và K ở hai bờ một dòng sông (Hình 5). Cho biết  $KE = 90$  m,  $KF = 160$  m. Tính khoảng cách DK.



Hình 5

14. Cho tam giác ABC nhọn có hai đường cao BE, CF cắt nhau tại H. Chứng minh rằng  
a)  $\triangle AEB \sim \triangle AFC$ .

b)  $\frac{HE}{HC} = \frac{HF}{HB}$ .

c)  $\triangle HEF \sim \triangle HCB$ .

15. Cho tam giác ABC nhọn có hai đường cao BM, CN cắt nhau tại H.

a) Chứng minh rằng  $\triangle AMN \sim \triangle ABC$ .

b) Phân giác của  $\widehat{BAC}$  cắt MN và BC lần lượt tại I và K. Chứng minh rằng  $\frac{IM}{IN} = \frac{KB}{KC}$ .

16. Cho tam giác ABC vuông tại A ( $AB < AC$ ). Kẻ đường cao AH ( $H \in BC$ ).

a) Chứng minh rằng  $\triangle ABH \sim \triangle CBA$ , suy ra  $AB^2 = BH \cdot BC$ .

b) Vẽ HE vuông góc với AB tại E, vẽ HF vuông góc với AC tại F. Chứng minh rằng  $AE \cdot AB = AF \cdot AC$ .

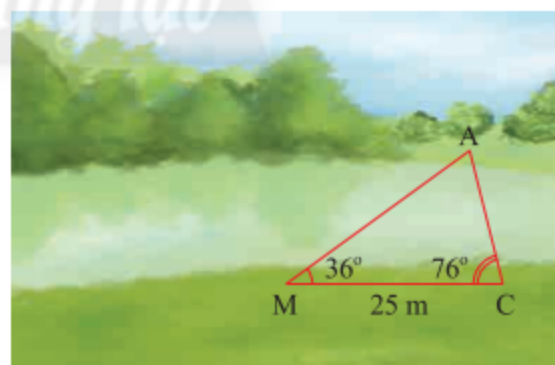
c) Chứng minh rằng  $\triangle AFE \sim \triangle ABC$ .

d) Qua A vẽ đường thẳng song song với BC cắt đường thẳng HF tại I. Vẽ IN vuông góc với BC tại N. Chứng minh rằng  $\triangle HNF \sim \triangle HIC$ .

17. Quan sát Hình 6. Vẽ vào tờ giấy tam giác DEF với  $EF = 4$  cm,  $\hat{E} = 36^\circ$ ,  $\hat{F} = 76^\circ$ .

a) Chứng minh rằng  $\triangle DEF \sim \triangle AMC$ .

b) Dùng thước đo chiều dài cạnh DF của  $\triangle DEF$ . Tính khoảng cách giữa hai điểm A và C ở hai bờ sông trong Hình 6.



Hình 6

# Phần MỘT SỐ YẾU TỐ THỐNG KÊ VÀ XÁC SUẤT

Chương

9

## MỘT SỐ YẾU TỐ XÁC SUẤT

Trong chương này, chúng ta sẽ sử dụng tỉ số để mô tả xác suất của một biến cố ngẫu nhiên trong một số tình huống thường gặp. Chúng ta cũng sẽ tìm hiểu mối liên hệ giữa xác suất thực nghiệm của một biến cố với xác suất của biến cố trong một số phép thử đơn giản và ứng dụng vào một số bài toán ước lượng số phần tử của một tập hợp.

VÒNG QUAY MAY MẮN



QUAY

Khả năng mũi tên chỉ vào ô ghi số lớn hơn 50 trên vòng quay may mắn này là bao nhiêu?





Một hộp có 1 quả bóng xanh và 4 quả bóng đỏ có kích thước và khối lượng như nhau. Châu lấy ra ngẫu nhiên 1 quả bóng từ hộp. Theo em, khả năng Châu lấy được bóng đỏ bằng mấy lần khả năng lấy được bóng xanh?

**1. KẾT QUẢ THUẬN LỢI**



1 Một hộp chứa 10 tấm thẻ cùng loại được đánh số lần lượt từ 3 đến 12. Chọn ra ngẫu nhiên 1 thẻ từ hộp. Hãy liệt kê các kết quả làm cho mỗi biến cố sau xảy ra:


A: “Số ghi trên thẻ lấy ra chia hết cho 3”;

B: “Số ghi trên thẻ lấy ra chia hết cho 6”.

Ta thấy nếu lấy được thẻ ghi số 3 thì biến cố A xảy ra nhưng biến cố B không xảy ra. Khi đó ta nói kết quả lấy được thẻ ghi số 3 là thuận lợi cho biến cố A và kết quả lấy được thẻ ghi số 3 không thuận lợi cho biến cố B.



Trong một phép thử, mỗi kết quả làm cho một biến cố xảy ra được gọi là một kết quả thuận lợi cho biến cố đó.

**Ví dụ 1.** Trong phép thử lấy thẻ ở , xét các biến cố sau:

C: “Số ghi trên thẻ là số nguyên tố”;

D: “Số ghi trên thẻ là số lẻ”.

Hãy nêu các kết quả thuận lợi cho mỗi biến cố C và D.

*Giải*

Các kết quả thuận lợi cho biến cố C là lấy được thẻ ghi số 3; 5; 7; 11.

Các kết quả thuận lợi cho biến cố D là lấy được thẻ ghi số 3; 5; 7; 9; 11.

**Thực hành 1.**

Trên bàn có một tấm bìa hình tròn được chia thành 8 hình quạt bằng nhau và được đánh số từ 1 đến 8 như Hình 1. Xoay tấm bìa quanh tâm hình tròn và xem khi tấm bìa dừng lại, mũi tên chỉ vào ô ghi số nào. Xét các biến cố sau:

A: “Mũi tên chỉ vào ô ghi số chẵn”;

B: “Mũi tên chỉ vào ô ghi số chia hết cho 4”;

C: “Mũi tên chỉ vào ô ghi số nhỏ hơn 3”.

Hãy nêu các kết quả thuận lợi cho mỗi biến cố trên.



Hình 1

## 2. MÔ TẢ XÁC SUẤT BẰNG TỈ SỐ



2 Gieo một con xúc xắc cân đối và đồng chất. Gọi A là biến cố gieo được mặt có số chấm chia hết cho 3. Tính xác suất của biến cố A.

Trong phép thử trên, ta thấy:

– Có 6 kết quả có thể xảy ra.

– Vì con xúc xắc là cân đối và đồng chất nên 6 kết quả có cùng xác suất xảy ra là  $\frac{1}{6}$ .

Khi gieo được mặt 3 chấm hoặc 6 chấm thì biến cố A xảy ra nên xác suất của biến cố A là


$$P(A) = \frac{2}{6} = \frac{1}{3}.$$



Khi tất cả các kết quả của một trò chơi hay phép thử nghiệm đều có khả năng xảy ra bằng nhau thì xác suất xảy ra của biến cố A là tỉ số giữa số kết quả thuận lợi cho A và tổng số kết quả có thể xảy ra của phép thử, tức là

$$P(A) = \frac{\text{Số kết quả thuận lợi cho A}}{\text{Tổng số kết quả có thể xảy ra}}.$$

Để phân biệt với xác suất thực nghiệm, xác suất  $P(A)$  xác định ở công thức trên còn được gọi là xác suất lí thuyết của biến cố A.

**Ví dụ 2.** Trong phép thử gieo một con xúc xắc ở , tính xác suất của các biến cố sau:

A: “Gieo được mặt có số chấm là số lẻ”;

B: “Gieo được mặt có nhiều hơn 3 chấm”.

*Giải*


Vì xúc xắc cân đối và đồng chất nên 6 kết quả của phép thử có khả năng xảy ra bằng nhau. Biến cố A xảy ra khi gieo được mặt có 1; 3 hoặc 5 chấm nên có 3 kết quả thuận lợi cho A. Xác suất của biến cố A là

$$P(A) = \frac{3}{6} = \frac{1}{2}.$$

Biến cố B xảy ra khi gieo được mặt có 4; 5 hoặc 6 chấm nên có 3 kết quả thuận lợi cho B. Xác suất của biến cố B là

$$P(B) = \frac{3}{6} = \frac{1}{2}.$$

*Chú ý:* A và B là hai biến cố khác nhau nhưng có xác suất xảy ra bằng nhau. Ta nói A và B là hai biến cố *đồng khả năng*.

**Thực hành 2.** Hãy trả lời câu hỏi ở  (trang 88).

**Ví dụ 3.** Tỉ lệ thành viên nữ của một câu lạc bộ nghệ thuật là 60%. Tổng số thành viên của câu lạc bộ là 25 người.

- Gặp ngẫu nhiên 1 thành viên của câu lạc bộ, tính xác suất thành viên đó là nữ.
- Em có nhận xét gì về tỉ lệ thành viên nữ và xác suất trên?

### Giải

Ta thấy khả năng gặp mỗi thành viên của câu lạc bộ là như nhau.

a) Số thành viên nữ của câu lạc bộ là  $25 \cdot 60\% = 15$  (người).

Xác suất gặp được thành viên nữ là  $\frac{15}{25} = \frac{3}{5}$ .

b) Tỷ lệ thành viên nữ của câu lạc bộ là  $60\% = \frac{60}{100} = \frac{3}{5}$ , do đó tỷ lệ thành viên nữ của câu lạc bộ đúng bằng xác suất gặp ngẫu nhiên một thành viên nữ của câu lạc bộ đó.

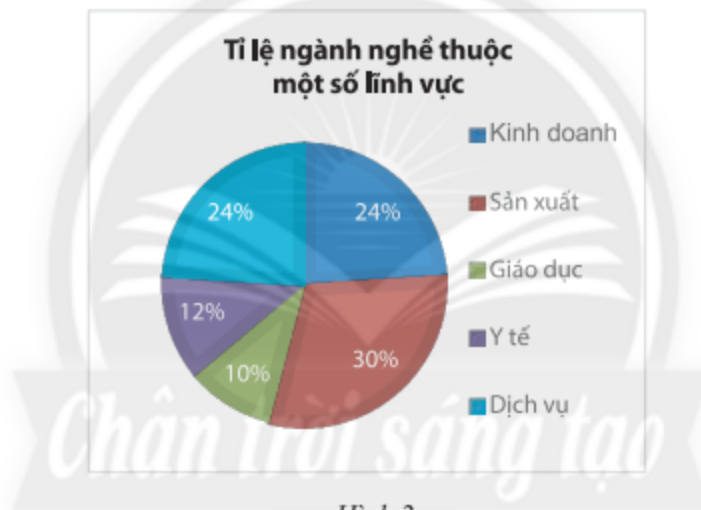
### Vận dụng.

Một khu phố có 200 người lao động, mỗi người làm việc ở một trong năm lĩnh vực là Kinh doanh, Sản xuất, Giáo dục, Y tế và Dịch vụ. Biểu đồ trong Hình 2 thống kê tỉ lệ người lao động thuộc mỗi lĩnh vực nghề nghiệp.

Gặp ngẫu nhiên một người lao động của khu phố.

a) Tính xác suất người đó có công việc thuộc lĩnh vực Giáo dục.

b) Tính xác suất người đó có công việc không thuộc lĩnh vực Y tế hay Dịch vụ.

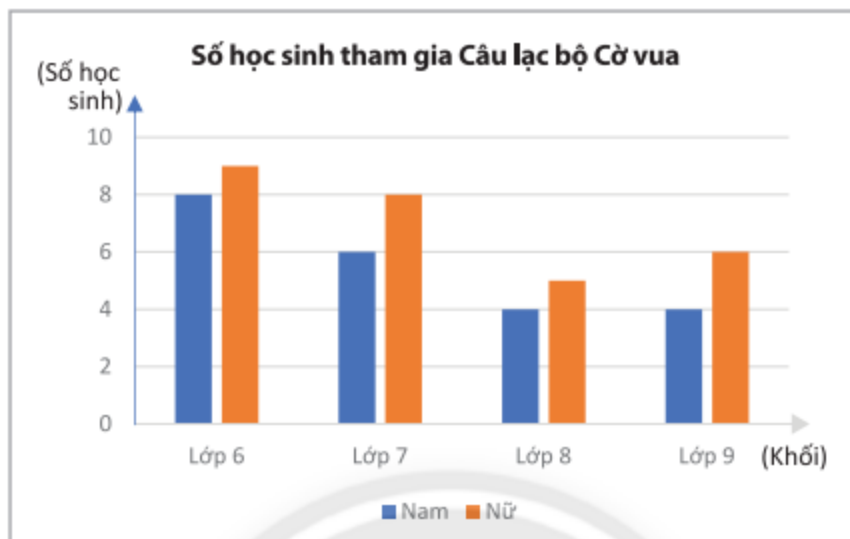


Hình 2

## BÀI TẬP

- Trong hộp có 5 quả bóng có kích thước và khối lượng giống nhau và được đánh số lần lượt là 5; 8; 10; 13; 16. Lấy ra ngẫu nhiên 1 quả bóng từ hộp. Tính xác suất của các biến cố:  
A: “Số ghi trên quả bóng là số lẻ”;  
B: “Số ghi trên quả bóng chia hết cho 3”;  
C: “Số ghi trên quả bóng lớn hơn 4”.
- Một hộp chứa 3 viên bi xanh, 4 viên bi đỏ và 5 viên bi vàng có kích thước và khối lượng giống nhau. Lấy ra ngẫu nhiên 1 viên bi từ hộp. Tính xác suất của các biến cố:  
A: “Viên bi lấy ra có màu xanh”;  
B: “Viên bi lấy ra không có màu đỏ”.

3. Trong hộp có 10 tấm thẻ cùng loại, trên mỗi thẻ có ghi một số tự nhiên. Lấy ra ngẫu nhiên 1 thẻ từ hộp. Biết rằng xác suất lấy được thẻ ghi số chẵn gấp 4 lần xác suất lấy được thẻ ghi số lẻ. Hỏi trong hộp có bao nhiêu thẻ ghi số lẻ?
4. Số lượng học sinh tham gia Câu lạc bộ Cờ vua của một trường được biểu diễn ở biểu đồ sau:



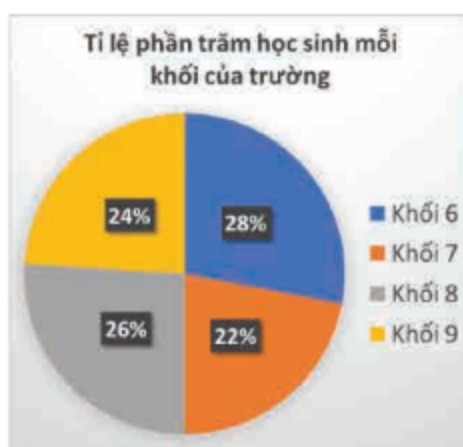
Chọn ngẫu nhiên 1 học sinh trong Câu lạc bộ Cờ vua của trường đó. Tính xác suất của các biến cố:

A: “Học sinh được chọn là nữ”;

B: “Học sinh được chọn học lớp 8”;

C: “Học sinh được chọn là nam và không học lớp 7”.

5. Một trường trung học cơ sở có 600 học sinh. Tỷ lệ phần trăm học sinh mỗi khối lớp được cho ở biểu đồ trong Hình 4. Chọn ngẫu nhiên một học sinh trong trường để đi dự phỏng vấn. Biết rằng mọi học sinh của trường đều có khả năng được lựa chọn như nhau.
  - a) Tính xác suất của biến cố “Học sinh được chọn thuộc khối 9”.
  - b) Tính xác suất của biến cố “Học sinh được chọn không thuộc khối 6”.



Hình 4



Trước khi Hà tung một đồng xu cân đối và đồng chất 100 lần, Thọ dự đoán sẽ có trên 70 lần xuất hiện mặt sấp còn Thủy lại dự đoán sẽ có ít hơn 70 lần xuất hiện mặt sấp. Theo em, bạn nào có khả năng đoán đúng cao hơn? Vì sao?



Một hộp kín chứa 3 quả bóng xanh và 2 quả bóng đỏ có cùng kích thước và khối lượng. An lấy ra ngẫu nhiên 1 quả bóng từ hộp, xem màu rồi trả lại hộp.

a) Tính tỉ số mô tả xác suất lý thuyết của biến cố “An lấy được bóng xanh”.

b) Sau khi lặp lại phép thử đó 100 lần, An ghi lại số lần mình lấy được bóng xanh sau 20; 40; 60; 80 và 100 lần lấy bóng như sau:



Xác suất thực nghiệm của sự kiện A sau n lần thực hiện phép thử là  $\frac{\text{Số lần biến cố A xảy ra}}{n}$

Số lần lấy bóng	20	40	60	80	100
Số lần lấy được bóng xanh	9	20	32	46	59

Tính các xác suất thực nghiệm của sự kiện “An lấy được bóng xanh” sau 20; 40; 60; 80 và 100 lần thử.

Ta thấy:

- Xác suất thực nghiệm phụ thuộc vào kết quả của dãy phép thử và chỉ được xác định sau khi đã thực hiện dãy phép thử.
- Xác suất lý thuyết có thể được xác định trước khi thực hiện phép thử.
- Xác suất thực nghiệm và xác suất lý thuyết của cùng một sự kiện hay biến cố không nhất thiết là bằng nhau. Tuy nhiên, khi thực hiện càng nhiều lần phép thử, xác suất thực nghiệm càng gần xác suất lý thuyết.



Gọi  $P(A)$  là xác suất xuất hiện biến cố A khi thực hiện một phép thử.  
Gọi  $n(A)$  là số lần xuất hiện biến cố A khi thực hiện phép thử đó n lần.  
Xác suất thực nghiệm của biến cố A là tỉ số  $\frac{n(A)}{n}$ .

Khi n càng lớn, xác suất thực nghiệm của biến cố A càng gần  $P(A)$ .

**Ví dụ 1.** Mỗi bạn Trọng, Thủy và Khuê tung một đồng xu cân đối và đồng chất 20 lần và ghi lại kết quả ở bảng sau:

Người tung	Số lần xuất hiện mặt sấp	Số lần xuất hiện mặt ngửa
Trọng	13	7
Thủy	8	12
Khue	11	9

Gọi A là biến cố “Xuất hiện mặt sấp”.

- Tính các xác suất thực nghiệm của biến cố A sau 20 lần tung của từng bạn.
- Tính xác suất thực nghiệm của biến cố A sau 60 lần tung của cả 3 bạn.
- Tính xác suất lí thuyết của biến cố A khi tung đồng xu. So sánh xác suất này với các xác suất thực nghiệm vừa tính, em có nhận xét gì?

*Giải*

a) Xác suất thực nghiệm của biến cố A sau 20 lần tung của Trọng là  $\frac{13}{20} = 0,65$ .

Xác suất thực nghiệm của biến cố A sau 20 lần tung của Thuý là  $\frac{8}{20} = 0,4$ .

Xác suất thực nghiệm của biến cố A sau 20 lần tung của Khuê là  $\frac{11}{20} = 0,55$ .

b) Xác suất thực nghiệm của biến cố A sau 60 lần tung của cả ba bạn là

$$\frac{13+8+11}{60} = \frac{8}{15} \approx 0,53.$$

c) Do đồng xu là cân đối và đồng chất nên xác suất của biến cố A là  $P(A) = \frac{1}{2} = 0,5$ .

*Nhận xét:*

- Xác suất thực nghiệm của biến cố A có thể lớn hơn hoặc nhỏ hơn xác suất lí thuyết.
- Khi số lần thực hiện phép thử lớn (60 lần) thì xác suất thực nghiệm của biến cố A là 0,53 gần bằng xác suất lí thuyết là 0,5.

**Ví dụ 2.** Ở một trang trại nuôi gà, người ta nhận thấy xác suất một quả trứng gà có cân nặng trên 42 g là 0,4. Hãy ước lượng xem trong một lô 2000 quả trứng gà của trang trại có khoảng bao nhiêu quả trứng có cân nặng trên 42 g.


*Giải*

Gọi N là số quả trứng gà có cân nặng trên 42 g trong lô 2000 quả trứng.

Xác suất thực nghiệm để một quả trứng có cân nặng trên 42 g là  $\frac{N}{2000}$ .

Do số quả trứng trong lô là lớn nên  $\frac{N}{2000} \approx 0,4$ , tức là  $N \approx 2000 \cdot 0,4 = 800$ .

Vậy có khoảng 800 quả trứng gà trong lô trứng trên có cân nặng trên 42 g.

**Thực hành 1.** Hãy trả lời câu hỏi ở  (trang 92).

**Thực hành 2.** Một hộp chứa một số quả bóng xanh và bóng đỏ. Linh lấy ra ngẫu nhiên 1 quả bóng từ hộp, xem màu rồi trả bóng lại hộp. Lặp lại phép thử đó 200 lần, Linh thấy có 62 lần lấy được bóng xanh và 138 lần lấy được bóng đỏ.

- Tính xác suất thực nghiệm của biến cố “Lấy được bóng xanh” sau 200 lần thử.
- Biết số bóng xanh trong hộp là 20, hãy ước lượng số bóng đỏ trong hộp.

**Vận dụng.** Xác suất nảy mầm của một loại hạt giống là 0,8. Người ta đem gieo 1 000 hạt giống đó. Hãy ước lượng xem có khoảng bao nhiêu hạt trong số đó sẽ nảy mầm.



Hình 1

## BÀI TẬP

1. Phương gieo một con xúc xắc 120 lần và thống kê lại kết quả các lần gieo ở bảng sau:

Mặt	1 chấm	2 chấm	3 chấm	4 chấm	5 chấm	6 chấm
Số lần xuất hiện	21	24	8	5	18	44

Hãy tính xác suất thực nghiệm của biến cố “Gieo được mặt có số chấm là số lẻ” sau 120 lần thử trên.

2. Ở một sân bay người ta nhận thấy với mỗi chuyến bay, xác suất tất cả mọi người mua vé đều có mặt để lên máy bay là 0,9. Trong một ngày sân bay đó có 120 lượt máy bay cất cánh. Hãy ước lượng số chuyến bay trong ngày hôm đó có người mua vé nhưng không lên máy bay.
3. Một hộp chứa các viên bi màu trắng và đen có kích thước và khối lượng như nhau. Mai lấy ra ngẫu nhiên 1 viên bi từ hộp, xem màu rồi trả lại hộp. Lặp lại thử nghiệm đó 80 lần, Mai thấy có 24 lần lấy được viên bi màu trắng.
- a) Hãy tính xác suất thực nghiệm của biến cố “Lấy được viên bi màu đen” sau 80 lần thử.
- b) Biết tổng số bi trong hộp là 10, hãy ước lượng xem trong hộp có khoảng bao nhiêu viên bi trắng.
4. Trong một cuộc điều tra, người ta phỏng vấn 300 người được lựa chọn ngẫu nhiên ở một khu dân cư thì thấy có 255 người ủng hộ việc tắt đèn điện trong sự kiện Giờ Trái Đất. Hãy ước lượng xác suất của biến cố “Một người được lựa chọn ngẫu nhiên trong khu dân cư ủng hộ việc tắt đèn điện trong sự kiện Giờ Trái Đất”.

## GIỜ TRÁI ĐẤT



Hình 2

## BÀI TẬP CUỐI CHƯƠNG 9

### CÂU HỎI TRẮC NGHIỆM

Chọn phương án đúng.

- Một hộp chứa 10 tấm thẻ cùng loại được đánh số từ 4 đến 13. Hà lấy ra ngẫu nhiên 1 thẻ từ hộp. Xác suất để thẻ chọn ra ghi số nguyên tố là  
A. 0,2.                      B. 0,3.                      C. 0,4.                      D. 0,5.
- Một hộp chứa các thẻ màu xanh và thẻ màu đỏ có kích thước và khối lượng như nhau. Thọ lấy ra ngẫu nhiên 1 thẻ từ hộp, xem màu rồi trả lại hộp. Lập lại thử nghiệm đó 50 lần, Thọ thấy có 14 lần lấy được thẻ màu xanh. Xác suất thực nghiệm của biến cố “Lấy được thẻ màu đỏ” là  
A. 0,14.                      B. 0,28.                      C. 0,72.                      D. 0,86.
- Tỉ lệ học sinh bị cận thị ở một trường trung học cơ sở là 16%. Gặp ngẫu nhiên một học sinh của trường, xác suất học sinh đó không bị cận thị là  
A. 0,16.                      B. 0,94.                      C. 0,84.                      D. 0,5.
- Vĩnh gieo 3 con xúc xắc cân đối và đồng chất. Xác suất của biến cố “Tích số chấm xuất hiện trên ba con xúc xắc bằng 28” là  
A. 0.                      B.  $\frac{1}{36}$ .                      C.  $\frac{1}{18}$ .                      D.  $\frac{1}{12}$ .
- Thuý gieo một con xúc xắc cân đối 1 000 lần. Số lần xuất hiện mặt 6 chấm trong 1 000 lần gieo đó có khả năng lớn nhất thuộc vào tập hợp nào dưới đây?  
A. {0; 1; ...; 100}.                      B. {101; 102; ...; 200}.  
C. {201; 202; ...; 300}.                      D. {301; 302; ...; 400}.

### Chân trời sáng tạo

### BÀI TẬP TỰ LUẬN

- Một hộp chứa 6 tấm thẻ cùng loại được đánh số lần lượt là 2; 3; 5; 8; 13; 21. Lấy ra ngẫu nhiên 1 thẻ từ hộp. Tính xác suất của các biến cố:  
A: “Số ghi trên thẻ là số chẵn”;  
B: “Số ghi trên thẻ là số nguyên tố”;  
C: “Số ghi trên thẻ là số chính phương”.
- Một túi đựng 1 viên bi xanh, 1 viên bi đỏ, 1 viên bi trắng và 1 viên bi vàng có cùng kích thước và khối lượng. Lấy ra ngẫu nhiên 2 viên bi từ túi. Tính xác suất của các biến cố:  
A: “Trong hai viên bi lấy ra có 1 viên màu đỏ”;  
B: “Hai viên bi lấy ra đều không có màu trắng”.
- Tỉ lệ vận động viên đạt huy chương trong một đại hội thể thao là 21%. Gặp ngẫu nhiên một vận động viên dự đại hội. Tính xác suất của biến cố vận động viên ấy đạt huy chương.



9. Thào tung hai đồng xu giống nhau 100 lần và ghi lại kết quả ở bảng sau:

Kết quả	Hai đồng sấp	Một đồng sấp, một đồng ngửa	Hai đồng ngửa
Số lần	14	46	40

Tính xác suất thực nghiệm của biến cố “Hai đồng xu đều xuất hiện mặt sấp sau 100 lần tung”.

10. Xuân bỏ một số viên bi xanh và đỏ có kích thước và khối lượng giống nhau vào túi. Mỗi lần Xuân lấy ra ngẫu nhiên 1 viên bi, xem màu của nó rồi trả lại túi. Lặp lại phép thử đó 100 lần, Xuân thấy có 40 lần mình lấy được bi đỏ. Biết rằng trong túi có 9 viên bi xanh, hãy ước lượng xem trong túi có bao nhiêu viên bi đỏ.

11. Một tấm bìa hình tròn được chia thành 6 phần bằng nhau như Hình 1. Bạn Thủy quay mũi tên và quan sát xem khi dừng lại mũi tên chỉ vào ô số mấy. Thủy ghi lại kết quả sau 120 lần thí nghiệm ở bảng sau:



Hình 1

Ô số	1	2	3	4	5	6
Số lần	15	9	16	23	32	25

a) Tính xác suất thực nghiệm của biến cố “Mũi tên chỉ vào ô có màu trắng”.

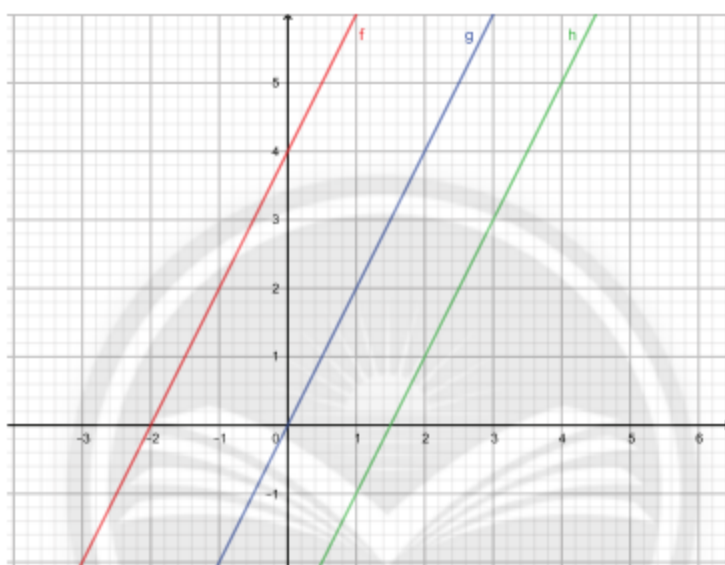
b) Theo em dự đoán, xác suất mũi tên chỉ vào mỗi ô có bằng nhau hay không?

c) Một người nhận định rằng xác suất mũi tên chỉ vào các ô màu xanh bằng xác suất mũi tên chỉ vào các ô màu trắng và bằng xác suất mũi tên chỉ vào các ô màu đỏ. Theo em, kết quả thực nghiệm của bạn Thủy có phù hợp với nhận định đó không?

# HOẠT ĐỘNG THỰC HÀNH VÀ TRẢI NGHIỆM

## Hoạt động 4. VẼ ĐỒ THỊ HÀM SỐ BẬC NHẤT $y = ax + b$ BẰNG PHẦN MỀM

# GeoGebra



### MỤC TIÊU

- Thực hành sử dụng phần mềm GeoGebra để vẽ đồ thị của hàm số bậc nhất  $y = ax + b$  trên mặt phẳng tọa độ.
- Xem xét sự thay đổi của đường thẳng  $y = ax + b$  khi thay đổi các hệ số  $a, b$  trong công thức hàm số.
- Ôn tập và minh họa các tính chất đã học về hệ số góc của đường thẳng.

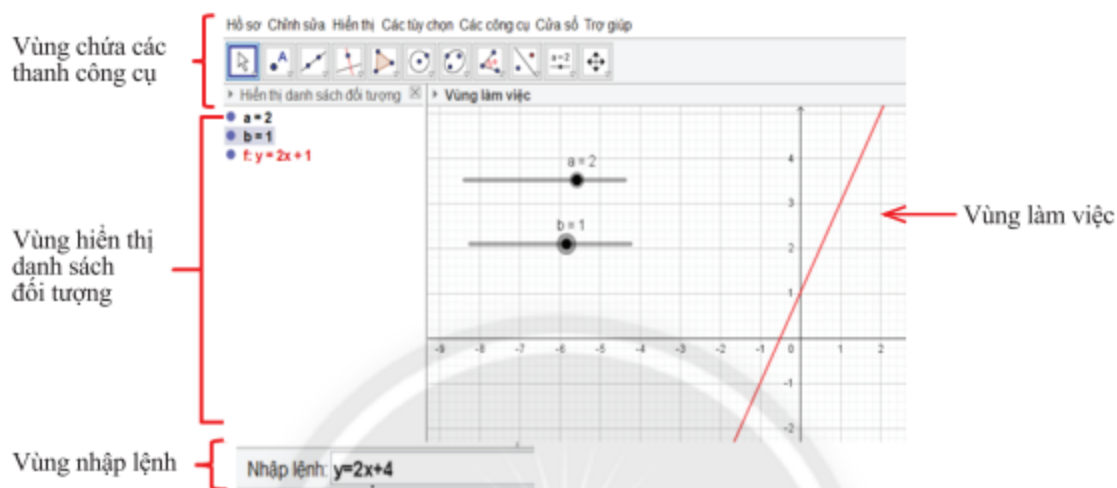
### CHUẨN BỊ

- Máy tính xách tay hoặc máy tính bảng có cài đặt GeoGebra hoặc có kết nối Internet.
- Máy chiếu hoặc màn hình tivi lớn.
- Thực hành trong lớp hoặc trong phòng máy nếu các trường có điều kiện.
- Sách giáo khoa Toán 8, tập hai – Chân trời sáng tạo.

## HƯỚNG DẪN CHỨC NĂNG CỦA GEOGEBRA

Để vẽ đồ thị trên GeoGebra ta thực hiện các thao tác trên bốn vùng sau:

1. Vùng chứa các thanh công cụ;
2. Vùng hiển thị danh sách các đối tượng;
3. Vùng làm việc: chứa đồ thị vẽ được và các thanh trượt biểu thị các hệ số  $a, b$ .
4. Vùng nhập lệnh: để nhập công thức các hàm số và biểu thức.



## TIẾN HÀNH HOẠT ĐỘNG

**HOẠT ĐỘNG 1: Vẽ đồ thị hàm số  $y = ax + b$  với  $a, b$  nhập từ bàn phím**

*Ví dụ:* Vẽ đồ thị hàm số  $y = 2x + 4$ .

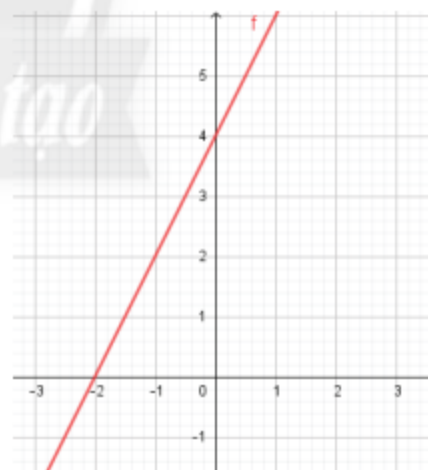
1. Khởi động phần mềm đã cài đặt trên máy tính hoặc truy cập vào trang web: <https://www.geogebra.org/> để sử dụng phần mềm online.

2. Các bước thao tác trên GeoGebra:

Nhập công thức hàm số  $y = 2x + 4$  vào vùng nhập lệnh.



Ta có đồ thị trên vùng làm việc như hình bên.



**Thực hành 1.** Vẽ đồ thị các hàm số bậc nhất sau:

a)  $y = -x - 2$ ;

b)  $y = x - 2$ ;


c)  $y = \frac{1}{2}x + 1$ ;

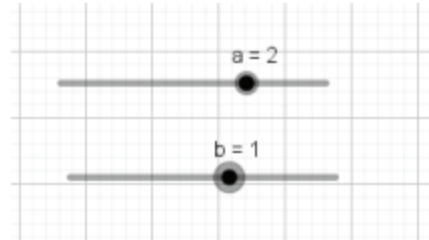
d)  $y = -4x + 7$ .

## HOẠT ĐỘNG 2: Vẽ đường thẳng $\Delta: y = ax + b$ với $a, b$ thay đổi bằng thanh trượt

1. Khởi động phần mềm đã cài đặt trên máy tính hoặc truy cập vào trang web: <https://www.geogebra.org/> để sử dụng phần mềm online.

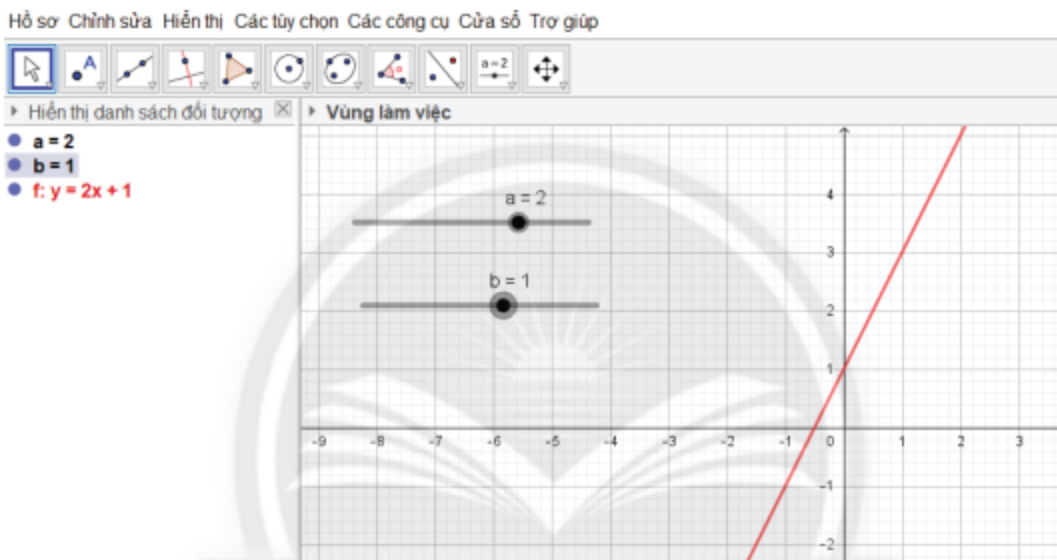
2. Các bước thao tác trên GeoGebra:

– Tạo các thanh trượt biểu thị các tham số  $a, b$  bằng cách nhấp chuột liên tiếp vào thanh công cụ  và vào vị trí màn hình nơi mà ta muốn đặt thanh trượt.



– Nhập công thức đường thẳng tại vùng nhập lệnh theo cú pháp:  $y = ax + b$ .

– Quan sát đồ thị được vẽ trên vùng làm việc:



– Điều chỉnh các thanh trượt  $a, b$  để có giá trị mong muốn.

– Quan sát sự thay đổi của  $\Delta$  theo sự thay đổi các hệ số  $a, b$ .

– Chụp màn hình để có kết quả làm báo cáo, thu hoạch, trình chiếu.

3. Nêu các kết luận về tính chất của đồ thị quan sát được trên hình vẽ.

### Thực hành 2.

– Vẽ đường thẳng  $y = ax + b$  với  $a, b$  thay đổi bằng thanh trượt.

– Điều chỉnh  $a, b$  để vẽ được nhiều đường thẳng khác nhau.

– Giữ nguyên  $a$  chỉ điều chỉnh  $b$  để kiểm tra tính chất: các đường thẳng có cùng hệ số góc thì song song.

## Hoạt động 5. DÙNG PHƯƠNG TRÌNH BẬC NHẤT ĐỂ TÍNH NỒNG ĐỘ PHẦN TRĂM CỦA DUNG DỊCH THỰC HÀNH PHA CHẾ DUNG DỊCH NƯỚC MUỐI SINH LÝ

### MỤC TIÊU

- Vận dụng kiến thức đại số để giải thích một số quy tắc trong Hoá học.
- Ứng dụng phương trình bậc nhất trong các bài toán về xác định nồng độ phần trăm.
- Rèn luyện năng lực mô hình hoá toán học, tư duy và lập luận toán học, giao tiếp toán học.



### CHUẨN BỊ

- Học sinh xem lại cách tính nồng độ phần trăm của dung dịch đã học ở môn Khoa học tự nhiên lớp 8.
- Vài chai nước muối sinh lý NaCl 0,9% (loại 10 ml hoặc 500 ml).
- Chia lớp thành bốn nhóm, mỗi nhóm chuẩn bị 300 ml dung dịch NaCl 6%.
- Dụng cụ đo độ mặn của dung dịch muối ăn (nếu có).
- Bình thủy tinh có chia vạch, nước tinh khiết.

### TIẾN HÀNH HOẠT ĐỘNG

1. Giáo viên yêu cầu học sinh nhắc lại công thức tính nồng độ phần trăm của dung dịch.

$$C\% = \frac{m_{ct}}{m_{dd}} \cdot 100\%,$$

trong đó, C%: nồng độ phần trăm của dung dịch;

$m_{ct}$ : khối lượng chất tan;

$m_{dd}$ : khối lượng dung dịch;

$m_{dd} = m_{ct} + m_{dm}$  ( $m_{dm}$ : khối lượng dung môi (nước, rượu, ...)).

- Giáo viên giới thiệu: Nước muối sinh lý được dùng nhiều trong y tế là dung dịch sodium chloride 0,9% (NaCl 0,9%) được bào chế trong điều kiện vô trùng nghiêm ngặt.

2. Học sinh thảo luận nhóm rồi thực hiện bài toán sau:

Cần thêm bao nhiêu mililit nước vào 300 ml dung dịch NaCl 6% để dung dịch mới đạt được nồng độ 0,9%.

Hướng dẫn:

- Tính khối lượng chất tan ( $m_{ct}$ ) từ dung dịch NaCl 0,9%.
- Gọi x là khối lượng nước cần thêm vào.
- Lập phương trình.

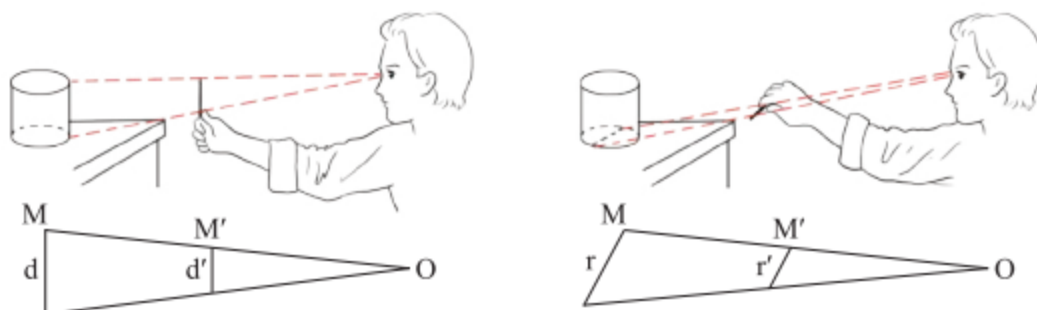
3. Tiến hành pha chế

Với lượng nước cần thêm vào tính được ở trên, học sinh tiến hành pha chế dung dịch nước muối sinh lý NaCl 0,9%.

### ĐÁNH GIÁ

- Các nhóm đánh giá kết quả thực hiện.
- Giáo viên nhận xét, đánh giá chung quá trình thực hiện, kết quả thu được của từng nhóm.

## Hoạt động 6. ỨNG DỤNG ĐỊNH LÍ THALÈS ĐỂ ƯỚC LƯỢNG TỈ LỆ GIỮA CHIỀU NGANG VÀ CHIỀU DỌC CỦA MỘT VẬT



$$\frac{d'}{d} = \frac{OM'}{OM} = \frac{r'}{r} \Rightarrow \frac{d}{r} = \frac{d'}{r'}$$

### MỤC TIÊU

Vận dụng các kiến thức đã học về định lí Thalès để xác định tỉ lệ giữa chiều cao và chiều ngang của một vật ở xa.

### CHUẨN BỊ

- Giáo viên chọn một vật làm mẫu hình (hình hộp chữ nhật, hình trụ) để trên bàn.
- Mỗi học sinh chuẩn bị thước thẳng, bút chì hoặc một que gỗ thẳng.
- Sách giáo khoa Toán 8, tập hai – Chân trời sáng tạo.

### TIẾN HÀNH HOẠT ĐỘNG

1. Chia lớp thành 4 nhóm (mỗi nhóm khoảng 8 đến 10 học sinh).
2. Nhóm trưởng phân công các bạn từng cặp thực hiện các công việc sau:
  - Bạn thứ nhất từ chỗ ngồi của mình, dùng bút chì đo chiều dọc  $d'$  và chiều ngang  $r'$  của vật mẫu trên bàn giáo viên theo như hình vẽ hướng dẫn trong sách giáo khoa.
  - Bạn thứ hai ghi lại số liệu của bạn thứ nhất và tính tỉ lệ  $\frac{d}{r}$  giữa chiều dọc và chiều ngang của vật mẫu theo cách tính trong sách giáo khoa.
  - Nhóm trưởng thống kê lại kết quả của từng cặp trong nhóm và tính trung bình cộng kết quả  $\frac{d}{r}$  đo được của nhóm.

3. Mỗi nhóm lên trước bục để thuyết trình kết quả của nhóm.

*Chú ý:*

- a) Các nhóm có thể trình bày sản phẩm dưới dạng trang trình chiếu nếu nhà trường có điều kiện.
- b) Giáo viên có thể tìm kiếm trên Internet các hình khác có liên quan đến trường học hoặc địa phương và chiếu lên màn hình để học sinh đo tỉ lệ.
- c) Giáo viên có thể tổ chức cho học sinh đo đạc tỉ lệ  $\frac{d}{r}$  giữa chiều dọc và chiều ngang của các công trình ngoài lớp học để tăng sự hứng thú cho học sinh.

# BẢNG GIẢI THÍCH THUẬT NGỮ

## Định lý Thalès

Nếu một đường thẳng song song với một cạnh của tam giác và cắt hai cạnh còn lại thì nó định ra trên hai cạnh đó các đoạn thẳng tương ứng tỉ lệ.

## Định lý Thalès đảo

Nếu một đường thẳng cắt hai cạnh của một tam giác và định ra trên hai cạnh này những đoạn thẳng tương ứng tỉ lệ thì đường thẳng đó song song với cạnh còn lại của tam giác.

## Đồ thị của hàm số

Đồ thị của hàm số  $y = f(x)$  trên mặt phẳng tọa độ Oxy là tập hợp tất cả các điểm  $M(x; f(x))$ .

## Hai hình đồng dạng

Hai hình  $\mathcal{H}$ ,  $\mathcal{H}'$  được gọi là đồng dạng nếu có hình đồng dạng phối cảnh của  $\mathcal{H}$  bằng hình  $\mathcal{H}'$ .

## Hàm số

Nếu đại lượng  $y$  phụ thuộc vào một đại lượng thay đổi  $x$  sao cho với mỗi giá trị của  $x$  ta luôn xác định được duy nhất một giá trị tương ứng của  $y$  thì  $y$  được gọi là hàm số của biến số  $x$ .

## Hàm số bậc nhất

là hàm số được cho bởi công thức  $y = ax + b$  với  $a, b$  là các số cho trước và  $a \neq 0$ .

## Hệ quả của định lý Thalès

Nếu một đường thẳng cắt hai cạnh của một tam giác và song song với cạnh thứ ba thì nó tạo ra một tam giác mới có ba cạnh tương ứng tỉ lệ với ba cạnh của tam giác đã cho.

## Hệ số góc

$a$  là hệ số góc của đường thẳng  $y = ax + b$  ( $a \neq 0$ ).

## Nghiệm

$x = 200$  là một nghiệm của phương trình  $4x = 600 + x$ .

## Phương trình

$4x = 600 + x$  là một phương trình với ẩn số  $x$ .

## Phương trình bậc nhất một ẩn

Phương trình dạng  $ax + b = 0$ , với  $a$  và  $b$  là hai số đã cho và  $a \neq 0$ , được gọi là phương trình bậc nhất một ẩn.

## Tam giác đồng dạng

Tam giác  $A'B'C'$  gọi là đồng dạng với tam giác  $ABC$  nếu ba góc của tam giác  $A'B'C'$  bằng ba góc của tam giác  $ABC$  và ba cạnh của tam giác  $A'B'C'$  tỉ lệ với ba cạnh của tam giác  $ABC$ .

## BẢNG TRA CỬU THUẬT NGỮ

	Thuật ngữ	Trang
<b>B</b>	Bảng giá trị	17
<b>C</b>	Các trường hợp đồng dạng của hai tam giác	67
<b>Đ</b>	Định lí Thalès	46
	Định lí Thalès đảo	48
	Đồ thị của hàm số	12
<b>G</b>	Giá trị của hàm số	7
	Gốc toạ độ	10
<b>H</b>	Hai biến cố đồng khả năng	89
	Hai đường thẳng cắt nhau	24
	Hai đường thẳng song song	24
	Hàm số	6
	Hàm số bậc nhất	16
	Hệ số góc	24
	Hệ trục toạ độ	10
	Hình đồng dạng	62
	Hình đồng dạng phối cảnh	77

	Thuật ngữ	Trang
<b>M</b>	Mặt phẳng toạ độ	10
	Mô tả xác suất bằng tỉ số	89
<b>N</b>	Nghiệm	29
<b>P</b>	Phương trình	31
	Phương trình bậc nhất một ẩn	33
<b>Q</b>	Quy tắc chuyển vế	33
	Quy tắc nhân với một số	33
	Quy tắc chia cho một số	33
<b>T</b>	Tam giác đồng dạng	62
	Tỉ số đồng dạng	63
	Toạ độ của điểm	11
	Trục hoành	10
	Trục toạ độ	10
	Trục tung	10
<b>X</b>	Xác suất lí thuyết	92
	Xác suất thực nghiệm	92



---

*Nhà xuất bản Giáo dục Việt Nam xin trân trọng cảm ơn  
các tác giả có tác phẩm, tư liệu được sử dụng, trích dẫn  
trong cuốn sách này.*

---

**Chịu trách nhiệm xuất bản:**

Chủ tịch Hội đồng Thành viên NGUYỄN ĐỨC THÁI  
Tổng Giám đốc HOÀNG LÊ BÁCH

**Chịu trách nhiệm nội dung:**

Tổng biên tập PHẠM VĨNH THÁI

Biên tập nội dung: TRẦN THANH HÀ – NGUYỄN THỊ PHƯỚC THỌ – ĐẶNG THỊ THUY

Biên tập mỹ thuật: ĐẶNG NGỌC HÀ

Thiết kế sách: HOÀNG CAO HIỀN

Trình bày bìa: ĐẶNG NGỌC HÀ – TÓNG THANH THẢO

Minh họa: NGỌC HÀ – CAO HIỀN – MẠNH HÙNG – NGỌC KHANG –  
THIẾU MY – THANH THẢO

Sửa bản in: TRẦN THANH HÀ – NGUYỄN THỊ PHƯỚC THỌ – ĐẶNG THỊ THUY

Chế bản: CÔNG TY CP DỊCH VỤ XBGD GIA ĐỊNH

---

**Bản quyền © (2023) thuộc Nhà xuất bản Giáo dục Việt Nam.**

---

Xuất bản phẩm đã đăng kí quyền tác giả. Tất cả các phần của nội dung cuốn sách này đều không được sao chép, lưu trữ, chuyển thể dưới bất kì hình thức nào khi chưa có sự cho phép bằng văn bản của Nhà xuất bản Giáo dục Việt Nam.

**TOÁN 8 – TẬP HAI (CHÂN TRỜI SÁNG TẠO)**

Mã số: .....

In ..... bản, (QĐ in số ....) khổ 19 x 26,5 cm

Đơn vị in: .....

Địa chỉ: .....

Số ĐKXB: .....

Số QĐXB: ....., ngày .... tháng .... năm 20...

In xong và nộp lưu chiểu tháng .... năm 20...

Mã số ISBN: Tập một: .....

Tập hai: .....



HUÂN CHƯƠNG HỒ CHÍ MINH



## BỘ SÁCH GIÁO KHOA LỚP 8 – CHÂN TRỜI SÁNG TẠO

1. NGỮ VĂN 8 – TẬP MỘT
2. NGỮ VĂN 8 – TẬP HAI
3. TOÁN 8 – TẬP MỘT
4. TOÁN 8 – TẬP HAI
5. TIẾNG ANH 8  
Friends Plus - Student Book
6. GIÁO DỤC CÔNG DÂN 8
7. KHOA HỌC TỰ NHIÊN 8
8. LỊCH SỬ VÀ ĐỊA LÍ 8
9. TIN HỌC 8
10. CÔNG NGHỆ 8
11. GIÁO DỤC THỂ CHẤT 8
12. ÂM NHẠC 8
13. MĨ THUẬT 8 (1)
14. MĨ THUẬT 8 (2)
15. HOẠT ĐỘNG TRẢI NGHIỆM,  
HƯỚNG NGHIỆP 8 (1)
16. HOẠT ĐỘNG TRẢI NGHIỆM,  
HƯỚNG NGHIỆP 8 (2)

### Các đơn vị đầu mối phát hành

- **Miền Bắc:** CTCP Đầu tư và Phát triển Giáo dục Hà Nội  
CTCP Sách và Thiết bị Giáo dục miền Bắc
- **Miền Trung:** CTCP Đầu tư và Phát triển Giáo dục Đà Nẵng  
CTCP Sách và Thiết bị Giáo dục miền Trung
- **Miền Nam:** CTCP Đầu tư và Phát triển Giáo dục Phương Nam  
CTCP Sách và Thiết bị Giáo dục miền Nam  
CTCP Sách và Thiết bị Giáo dục Cửu Long

**Sách điện tử:** <http://hanhtrangso.nxbgd.vn>

Kích hoạt để mở học liệu điện tử: Cào lớp nhũ trên tem để nhận mã số. Truy cập <http://hanhtrangso.nxbgd.vn> và nhập mã số tại biểu tượng chia khoá.

