

**ĐỀ CHÍNH THỨC**

**Câu 1. (4,0 điểm).**

a) Cho biểu thức  $P = \left( \frac{1}{\sqrt{x}-1} - \frac{2\sqrt{x}}{x\sqrt{x}-x+\sqrt{x}-1} \right) : \left( \frac{x+\sqrt{x}}{x\sqrt{x}+x+\sqrt{x}+1} + \frac{1}{x+1} \right)$ . Rút gọn biểu thức  $P$ .

b) Cho biểu thức  $Q = x^4 + 2x^3 + x^2 + 2023$ . Tính giá trị của biểu thức  $Q$  với  $x = \sqrt{\frac{\sqrt{5}-1}{\sqrt{5}+1}}$ .

**Câu 2. (2,0 điểm).** Cho ba số thực dương  $a, b, c$  thỏa mãn  $a^2 + b^2 + c^2 + abc = 4$ . Chứng minh

$$a \cdot \sqrt{(4-b^2)(4-c^2)} + b \cdot \sqrt{(4-c^2)(4-a^2)} + c \cdot \sqrt{(4-a^2)(4-b^2)} = 8 + abc.$$

**Câu 3. (2,0 điểm).** Tìm tất cả các số tự nhiên  $n$  thỏa mãn  $n^4 - 2n^3 + 2n^2 - 2n + 1$  là số chính phương.

**Câu 4. (2,0 điểm).** Giải phương trình:  $2 \left( \frac{x+2}{x+6} \right)^2 + \left( \frac{x+6}{x+9} \right)^2 = \frac{3x+6}{x+9}$ .

**Câu 5. (2,0 điểm).** Chia đa thức  $p(x) = x^{2024} + x^{2023} + x^{2022} + \dots + x + 1$  cho đa thức  $q(x) = x^2 - 1$  ta được thương là đa thức  $h(x)$  và phần dư là đa thức  $r(x)$ . Tính  $h(-1)$ .

**Câu 6. (2,0 điểm).** Cho tam giác  $ABC$  vuông tại  $A$  ( $AB < AC$ ) có đường cao  $AH$  ( $H \in BC$ ). Trên tia  $HC$  lấy điểm  $D$  thỏa mãn  $HD = HA$ . Đường thẳng qua  $D$  song song với  $AH$  cắt  $AC$  tại  $E$ . Chứng minh tam giác  $ADC$  đồng dạng với tam giác  $BEC$  và tính độ dài  $BC$  khi  $AE = 6$ (cm),  $EC = 2$ (cm).

**Câu 7. (2,0 điểm).** Cho hình vuông  $ABCD$ , điểm  $N$  thuộc cạnh  $CD$  thỏa mãn  $NC = 2ND$ . Gọi  $H$  là giao điểm của  $AN$  với  $BD$  và  $M$  là trung điểm  $BC$ . Chứng minh tam giác  $AHM$  vuông cân.

**Câu 8. (2,0 điểm).** Cầu thang đi từ tầng một lên tầng hai của một ngôi nhà được thiết kế liên tục một nhịp với 21 bậc, mỗi bậc có chiều cao và chiều rộng mặt bậc bằng nhau (Ảnh bên). Biết chiều cao từ mặt sàn tầng một đến mặt sàn tầng hai là 3,57m và chiều rộng của mỗi mặt bậc là 25cm. Hỏi vị trí bắt đầu xây cầu thang ở mặt sàn tầng một cách vị trí chân tường xây chấn tại cuối cầu thang bao nhiêu mét và cầu thang dài bao nhiêu mét?



**Câu 9. (2,0 điểm).** Cho  $a, b, c$  là các số thực dương và thỏa mãn  $a + b + c = 1$ . Tìm giá trị nhỏ nhất của biểu thức:  $T = \frac{a}{a^2 + 8bc} + \frac{b}{b^2 + 8ca} + \frac{c}{c^2 + 8ab}$ .

----- HẾT -----

**Thí sinh không được sử dụng máy tính cầm tay. Cán bộ coi thi không giải thích gì thêm!**

Họ và tên thí sinh:..... Số báo danh:.....

**Câu 1.a (2,0 điểm)**

Cho biểu thức  $P = \left( \frac{1}{\sqrt{x}-1} - \frac{2\sqrt{x}}{x\sqrt{x}-x+\sqrt{x}-1} \right) : \left( \frac{x+\sqrt{x}}{x\sqrt{x}+x+\sqrt{x}+1} + \frac{1}{x+1} \right)$ . Rút gọn biểu thức  $P$ .

Nội dung	Điểm
Điều kiện $x \geq 0, x \neq 1$	0,5
Ta có $P = \left( \frac{1}{\sqrt{x}-1} - \frac{2\sqrt{x}}{(x+1)(\sqrt{x}-1)} \right) : \left( \frac{\sqrt{x}(\sqrt{x}+1)}{(x+1)(\sqrt{x}+1)} + \frac{1}{x+1} \right)$	0,5
$= \frac{x+1-2\sqrt{x}}{(x+1)(\sqrt{x}-1)} : \frac{\sqrt{x}+1}{x+1} = \frac{(\sqrt{x}-1)^2}{(x+1)(\sqrt{x}-1)} : \frac{\sqrt{x}+1}{x+1}$	0,5
$= \frac{\sqrt{x}-1}{x+1} \cdot \frac{x+1}{\sqrt{x}+1} = \frac{\sqrt{x}-1}{\sqrt{x}+1}$	0,5

**Câu 1.b (2,0 điểm).** Cho biểu thức  $Q = x^4 + 2x^3 + x^2 + 2023$ . Tính giá trị của biểu thức  $Q$  với  $x = \sqrt{\frac{\sqrt{5}-1}{\sqrt{5}+1}}$ .

Nội dung	Điểm
Ta có $x = \sqrt{\frac{\sqrt{5}-1}{\sqrt{5}+1}} = \sqrt{\frac{(\sqrt{5}-1)^2}{(\sqrt{5}+1)(\sqrt{5}-1)}} = \frac{\sqrt{5}-1}{2}$	0,5
$x = \frac{\sqrt{5}-1}{2} \Leftrightarrow 2x+1 = \sqrt{5} \Rightarrow (2x+1)^2 = 5 \Leftrightarrow x^2 + x - 1 = 0(1)$	0,5
$Q = x^4 + 2x^3 + x^2 + 2023 = \left[ (x^2 + x)^2 - 1 \right] + 2024 = (x^2 + x + 1)(x^2 + x - 1) + 2024(2)$	0,5
Từ (1) và (2) ta được $Q = 2024$	0,5

**Câu 2 (2,0 điểm).** Cho ba số thực dương  $a, b, c$  thỏa mãn  $a^2 + b^2 + c^2 + abc = 4$ . Chứng minh  $a\sqrt{(4-b^2)(4-c^2)} + b\sqrt{(4-c^2)(4-a^2)} + c\sqrt{(4-a^2)(4-b^2)} = 8 + abc$ .

Nội dung	Điểm
Ta có $a\sqrt{(4-b^2)(4-c^2)} = a\sqrt{16-4(b^2+c^2)+b^2c^2} = a\sqrt{16-4(4-a^2-abc)+b^2c^2}$ $= a\sqrt{4a^2+4abc+b^2c^2} = a\sqrt{(2a+bc)^2} = a(2a+bc) = 2a^2 + abc$	0,5
Tương tự $b\sqrt{(4-c^2)(4-a^2)} = 2b^2 + abc; c\sqrt{(4-a^2)(4-b^2)} = 2c^2 + abc$	0,5
$a\sqrt{(4-b^2)(4-c^2)} + b\sqrt{(4-c^2)(4-a^2)} + c\sqrt{(4-a^2)(4-b^2)} = 2(a^2 + b^2 + c^2) + 3abc$	0,5
$= 2(a^2 + b^2 + c^2 + abc) + abc = 8 + abc$	0,5

**Câu 3. (2,0 điểm).** Tìm tất cả các số tự nhiên  $n$  thỏa mãn  $n^4 - 2n^3 + 2n^2 - 2n + 1$  là số chính phương.

Nội dung	Điểm
Ta có $n^4 - 2n^3 + 2n^2 - 2n + 1 = (n^4 - 2n^3 + n^2) + (n^2 - 2n + 1) = (n^2 - n)^2 + (n-1)^2$ $= n^2(n-1)^2 + (n-1)^2 = (n-1)^2[n^2 + 1]$	0,5
* Nếu $n-1=0 \Leftrightarrow n=1$ thì $n^4 - 2n^3 + 2n^2 - 2n + 1 = 0$ là số chính phương. * Nếu $n-1 \neq 0 \Leftrightarrow n \neq 1$ thì $n^4 - 2n^3 + 2n^2 - 2n + 1$ là số chính phương khi $n^2 + 1 = m^2 (m \in \mathbb{N}, m > n)$	0,5
$m^2 - n^2 = 1 \Leftrightarrow (m+n)(m-n) = 1.1 \Leftrightarrow \begin{cases} m-n=1 \\ m+n=1 \end{cases} \Leftrightarrow (m;n) = (1;0)$	0,5
KL $n \in \{0;1\}$	0,5

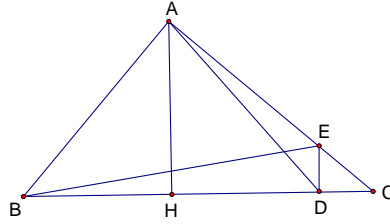
**Câu 4. (2,0 điểm).** Giải phương trình:  $2\left(\frac{x+2}{x+6}\right)^2 + \left(\frac{x+6}{x+9}\right)^2 = \frac{3x+6}{x+9}$ .

Nội dung	Điểm
ĐK $x \neq -6, x \neq -9$	0,5
$2\left(\frac{x+2}{x+6}\right)^2 + \left(\frac{x+6}{x+9}\right)^2 = \frac{3x+6}{x+9} \Leftrightarrow 2\left(\frac{x+2}{x+6}\right)^2 + \left(\frac{x+6}{x+9}\right)^2 = 3\frac{x+2}{x+9}$	0,5
Đặt $a = \frac{x+2}{x+6}, b = \frac{x+6}{x+9} \Rightarrow \frac{x+2}{x+9} = ab$	0,5
Phương trình có dạng $2a^2 + b^2 = 3ab \Leftrightarrow (a-b)(2a-b) = 0 \Leftrightarrow \begin{cases} a=b \\ 2a=b \end{cases}$	0,5
* $a=b \Leftrightarrow \frac{x+2}{x+6} = \frac{x+6}{x+9} \Leftrightarrow x+18=0 \Leftrightarrow x=-18$ thỏa mãn.	0,5
* $2a=b \Leftrightarrow \frac{2x+4}{x+6} = \frac{x+6}{x+9} \Leftrightarrow x^2 + 10x = 0 \Leftrightarrow \begin{cases} x=0 \\ x=-10 \end{cases}$ thỏa mãn.	0,5
Kết luận.....	

**Câu 5. (2,0 điểm).** Chia đa thức  $p(x) = x^{2024} + x^{2023} + x^{2022} + \dots + x + 1$  cho đa thức  $q(x) = x^2 - 1$  ta được thương là đa thức  $h(x)$  và phần dư là đa thức  $r(x)$ . Tính  $h(-1)$ .

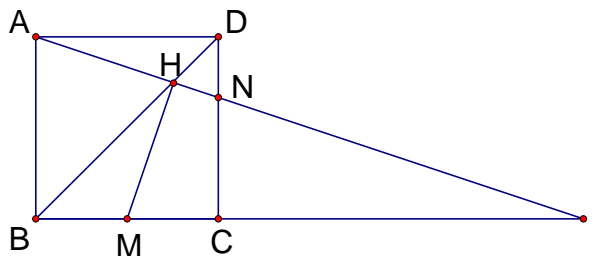
Nội dung	Điểm
Để thấy $r(x) = ax + b$ và $p(x) = q(x).h(x) + r(x) \Leftrightarrow x^{2024} + x^{2023} + x^{2022} + \dots + x + 1 = (x^2 - 1).h(x) + ax + b(1)$	0,5
Thay lần lượt các giá trị $x=1, x=-1$ vào hai vế của (1) ta được $\begin{cases} a+b=2025 \\ -a+b=-1 \end{cases} \Leftrightarrow (a;b) = (1012;1013)$ $\Rightarrow x^{2024} + x^{2023} + x^{2022} + \dots + x + 1 = (x^2 - 1).h(x) + 1012x + 1013(1)$	0,5
$\Leftrightarrow (x^{2024} + x^{2023}) + (x^{2022} + x^{2021}) + \dots + (x^2 + x) + (1 - 1012x - 1013) = (x^2 - 1).h(x)$ $\Leftrightarrow x^{2023}(x+1) + x^{2021}(x+1) + \dots + x(x+1) - 1012(x+1) = (x-1)(x+1)h(x)$ $\Rightarrow x^{2023} + x^{2021} + x^{2019} + \dots + x - 1012 = (x-1)h(x)(2) \quad (x \neq 1)$	0,5
Cho $x = -1$ vào hai vế của (2) ta được $-2024 = -2.h(-1) \Leftrightarrow h(-1) = 1012$	0,5

**Câu 6. (2,0 điểm)** Cho tam giác  $ABC$  vuông tại  $A$  ( $AB < AC$ ) có đường cao  $AH$  ( $H \in BC$ ). Trên tia  $HC$  lấy điểm  $D$  thỏa mãn  $HD = HA$ . Đường thẳng qua  $D$  song song với  $AH$  cắt  $AC$  tại  $E$ . Chứng minh tam giác  $ADC$  đồng dạng với tam giác  $BEC$  và tính độ dài  $BC$  khi  $AE = 6(\text{cm})$ ,  $EC = 2(\text{cm})$ .



Nội dung	Điểm
Ta có hai tam giác vuông $\triangle CDE \sim \triangle CAB \Rightarrow \frac{CD}{CE} = \frac{CA}{CB}$	0,5
Xét $\triangle ADC$ và $\triangle BEC$ $\frac{CD}{CA} = \frac{CE}{CB}$ , $C$ - chung $\Rightarrow \triangle ADC \sim \triangle BEC$ (c-g-c)	0,5
Do tam giác $AHD$ cân đỉnh $H \Rightarrow \angle ADC = 180^\circ - \angle HDA = 180^\circ - 45^\circ = 135^\circ$	0,5
$\triangle ADC \sim \triangle BEC \Rightarrow \angle BEC = \angle ADC = 135^\circ \Rightarrow \angle BEA = 45^\circ$ nên tam giác $ABE$ vuông cân đỉnh $A \Rightarrow AB = AE = 6(\text{cm})$ $AC = AE + EC = 6 + 2 = 8(\text{cm})$	0,25
Do $\triangle ABC$ vuông tại $A$ ta có: $\Rightarrow BC^2 = AB^2 + AC^2$ $\Rightarrow BC = \sqrt{AB^2 + AC^2} = 10(\text{cm})$	0,25

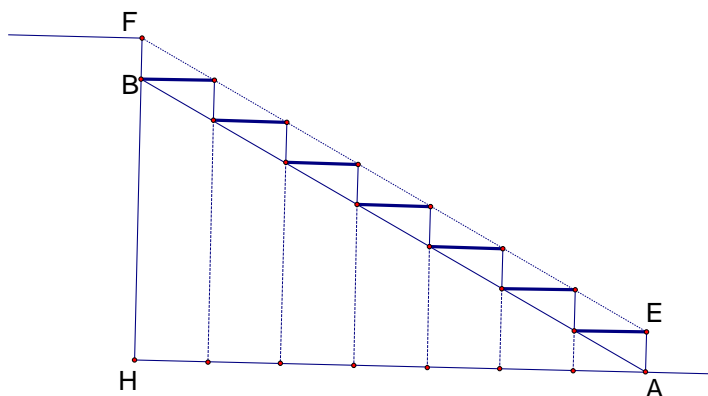
**Câu 7. (2,0 điểm)** Cho hình vuông  $ABCD$ , điểm  $N$  thuộc cạnh  $CD$  thỏa mãn  $NC = 2ND$ . Gọi  $H$  là giao điểm của  $AN$  với  $BD$  và  $M$  là trung điểm  $BC$ . Chứng minh tam giác  $AHM$  vuông cân.



Nội dung	Điểm
Gọi $I$ là giao điểm của $AN$ với $BC$ từ sự đồng dạng của các cặp tam giác $\triangle HND \sim \triangle HAB$ ; $\triangle ICN \sim \triangle IBA$ ta có so sánh sau: $HN = \frac{1}{3} HA = \frac{1}{4} AN = \frac{1}{12} IA \Rightarrow IH = IN + HN = \frac{2}{3} IA + \frac{1}{12} IA = \frac{3}{4} IA$ (1)	0,25

$MC = \frac{1}{2}BC = \frac{1}{6}IB \Rightarrow IM = IC + CM = \frac{2}{3}IB + \frac{1}{6}IB = \frac{5}{6}IB (2)$	<b>0,25</b>
Ta có $\left. \begin{aligned} IH \cdot IA &= \frac{3}{4}IA^2 = \frac{3}{4}(AB^2 + IB^2) = \frac{3}{4}\left(\left(\frac{1}{3}IB\right)^2 + IB^2\right) = \frac{5}{6}IB^2 \\ IM \cdot IB &= \frac{5}{6}IB^2 \end{aligned} \right\} \Rightarrow IH \cdot IA = IM \cdot IB (3)$	<b>0,5</b>
$(3) \Rightarrow \frac{IM}{IH} = \frac{IA}{IB} \Rightarrow \triangle IHM \sim \triangle IBA \Rightarrow \angle IHM = \angle IBA = 90^\circ (4)$	<b>0,5</b>
Mặt khác $(3) \Rightarrow \frac{IH}{IB} = \frac{IM}{IA} \Rightarrow \triangle IHB \sim \triangle IMA \Rightarrow \angle IAM = \angle IBH = 45^\circ (5)$	<b>0,5</b>
Từ (4),(5) ta được điều phải chứng minh	

**Câu 8 (2,0 điểm).** Cầu thang đi từ tầng một lên tầng hai của một ngôi nhà được thiết kế liên tục một nhịp với 21 bậc, mỗi bậc có chiều cao và chiều rộng mặt bậc bằng nhau. Biết chiều cao từ mặt sàn tầng một đến mặt sàn tầng hai là 3,57m và chiều rộng của mỗi mặt bậc là 25cm. Hỏi vị trí bắt đầu xây cầu thang ở mặt sàn tầng một cách vị trí chân tường xây chắn tại cuối cầu thang bao nhiêu mét và cầu thang dài bao nhiêu mét



(Hình vẽ mặt cắt minh họa cho cầu thang có 8 bậc)

Nội dung	Điểm
Cầu thang có 21 bậc từ tầng một lên tầng hai thì số mặt bậc không phải mặt sàn nhà là 20. Nên vị trí xây cách vị trí chân tường chắn cuối cầu thang là $20 \cdot 0,25 = 5(m)$	<b>0,5</b>
Do chiều cao từ mặt sàn tầng một đến mặt sàn tầng hai bằng tổng chiều cao 21 bậc nên chiều cao một bậc là $3,57 : 21 = 0,17(m)$	<b>0,5</b>
Áp dụng định lí Pitago ta có chiều dài một bậc là $\sqrt{0,17^2 + 0,25^2} = \frac{\sqrt{914}}{100}(m)$	<b>0,5</b>
Vậy chiều dài cầu thang là $20 \frac{\sqrt{914}}{100} = \frac{\sqrt{914}}{5} \approx 6,05(m)$	<b>0,5</b>

**Câu 9 (2,0 điểm).** Cho  $a, b, c$  là các số thực dương và thỏa mãn  $a + b + c = 1$ . Tìm giá trị nhỏ nhất của biểu thức:  $T = \frac{a}{a^2 + 8bc} + \frac{b}{b^2 + 8ca} + \frac{c}{c^2 + 8ab}$ .

Nội dung	Điểm
<p>Với các số <math>a, b, c</math> dương.</p> <p>Ta có <math>T = \frac{a}{a^2 + 8bc} + \frac{b}{b^2 + 8ca} + \frac{c}{c^2 + 8ab}</math></p> $\Rightarrow T = \frac{a^2}{a^3 + 8abc} + \frac{b^2}{b^3 + 8abc} + \frac{c^2}{c^3 + 8abc} \geq \frac{(a+b+c)^2}{a^3 + b^3 + c^3 + 24abc}$	<b>0,5</b>
<p>Ta lại có</p> $(a+b+c)^3 = a^3 + b^3 + c^3 + 3(a+b+c)(ab+bc+ca) - 3abc$ $\geq a^3 + b^3 + c^3 + 27\sqrt[3]{abc} \cdot \sqrt[3]{(abc)^2} - 3abc = a^3 + b^3 + c^3 + 24abc$	<b>0,5</b>
<p>Suy ra <math>a^3 + b^3 + c^3 + 24abc \leq (a+b+c)^3</math></p> $\Rightarrow \frac{(a+b+c)^2}{a^3 + b^3 + c^3 + 24abc} \geq \frac{(a+b+c)^2}{(a+b+c)^3} = \frac{1}{a+b+c} = 1$ <p>Do đó <math>T \geq 1</math></p>	<b>0,5</b>
<p>Dấu “=” xảy ra khi <math>a = b = c = \frac{1}{3}</math></p> <p>Vậy <math>MinT = 1</math>, khi <math>a = b = c = \frac{1}{3}</math></p>	<b>0,5</b>

----- HẾT -----